


Oddział Międzyuczelniany PTTK w Warszawie

Egzamin na Organizatora Turystyki - 22.05.2003 r.



Egzamin składa się z 22 pytań pogrupowanych w 6 działów.

Punktacja dla poszczególnych pytań została przedstawiona obok.

Zaliczenie egzaminu polega na uzyskaniu ze wszystkich działów co najmniej po 61 punktów.

Uprzejmie prosimy o udzielanie odpowiedzi tylko w ramach wyznaczonych do tego celu miejsc i o pisanie w sposób czytelny.

Powodzenia

Architektura		
1		50
2		20
3		30
razem		100
Historia turystyki i PTTK		
4		20
5		10
6		30
7		20
8		20
razem		100
Pierwsza pomoc		
9		16
10		36
11		48
razem		100
Etnografia i budownictwo drewniane		
12		16
13		48
14		10
15		26
razem		100
Przyroda i ochrona przyrody		
16		32
17		12
18		33
19		23
razem		100
Geografia turystyczna Polski		
20		32
21		68
razem		100

Architektura

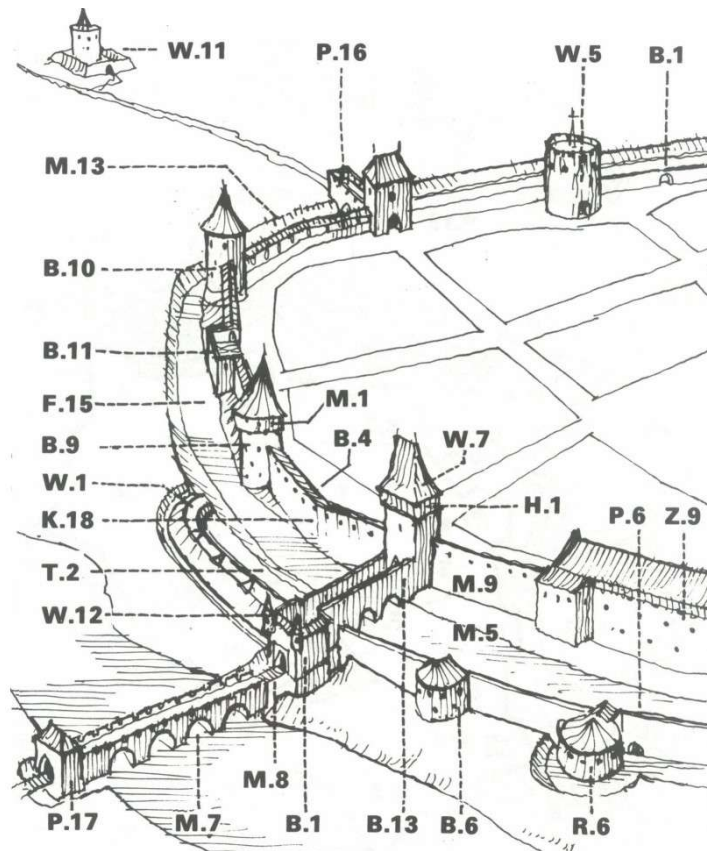
Pytanie 1



Opisz w 100 słowach obiekt przedstawiony na rysunku.

Uwaga: sprawdzający będzie czytał odpowiedź tylko do setnego słowa.

Pytanie 2



Zidentyfikuj i nazwij 10 elementów murów miejskich używając symboli z rysunku.

Pytanie 3

Wybierz trzy obiekty zidentyfikowane w odpowiedzi na poprzednie pytanie i dla każdego z nich podaj opis jego funkcji.

	nazwa	opis funkcji
1.		
2.		
3.		

Historia turystyki i PTTK

Pytanie 4

Zidentyfikuj odznaki turystyki kwalifikowanej i krajoznawcze przedstawione poniżej:

Pytanie 5

Opisz jakie uprawnienia posiada a) organizator turystyki, b) przewodnik turystyki kwalifikowanej?

a)	
b)	

Pytanie 6

Wymień pełne nazwy sześciu kół należących do Oddziału Międzyuczelnianego PTTK w Warszawie.

Pytanie 7

Opisz krótko, czym dla polskiej turystyki zasłużyli się:

Władysław Midowicz	
Mieczysław Orłowicz	
Władysław Krygowski	
Józef Nyka	
Mariusz Zaruski	

Pytanie 8

Wyjaśnij znaczenie następujących skrótów związanych z PTTK.

AKT	
CFK PTTK	
GON	
GOT	
KOT	
KTG ZG PTTK	
COTG PTTK	
OKP	
OM PTTK w Warszawie	
TRW GOT	

Pierwsza pomoc

Pytanie 9

Co powinni zabrać ze sobą i jak powinni być ubrani uczestnicy jednodniowej dziesięcioosobowej wycieczki sylwestrowej z Wysowej na Lackową (i z powrotem).

--

Pytanie 10

Wymień 12 najbardziej niezbędnych Twoim zdaniem rzeczy, jakie powinny znaleźć się w apteczce dziesięcioosobowej grupy wybierającej się na siedmiodniowy rajd sylwestrowy w Beskidzie Niskim.

Pytanie 11

Wypełnij poniższą tabelę:

przypadłość	przeciwdziałanie	leczenie
zastrzał ropny na palcu ręki		
popękane usta (zimą)		
zapalenie spojówek		
silnie podrapane nogi (30% powierzchni łydek)		

Etnografia i budownictwo drewniane

Pytanie 12

Podaj przykłady trzech skansenów w Polsce, krótko charakteryzując jeden z nich (np. położenie, rodzaj zbiorów).

Pytanie 13



Opisz w 100 słowach obiekt przedstawiony na rysunku (w tym konstrukcję ścian i dachu).

Uwaga: sprawdzający będzie czytał odpowiedź tylko do setnego słowa.

--

Pytanie 14

Wybierz pięć z wymienionych poniżej nazw i podaj ich krótką definicję:

babiniec, budynek dwutraktowy, gont, jętka, kluczyna, lamus, macewa, płatew, rzygacze, sumik, ślenie, węgieł.

Pytanie 15

Scharakteryzuj dowolnie wybraną grupę etniczną zamieszkującą Polskę, uwzględniając m.in. język, wyznania, rejony zamieszkania (obecnie i w przeszłości), charakterystyczne cechy kultury, zabytki itp.*

--

* Zastanów się dokładnie chodzi o grupę etniczną.

Przyroda i ochrona przyrody

Pytanie 16

W jakich sytuacjach wolno (bez ponoszenia konsekwencji prawnych) chodzić poza znakowanym szlakiem turystycznym po parku narodowym?

--

Pytanie 17

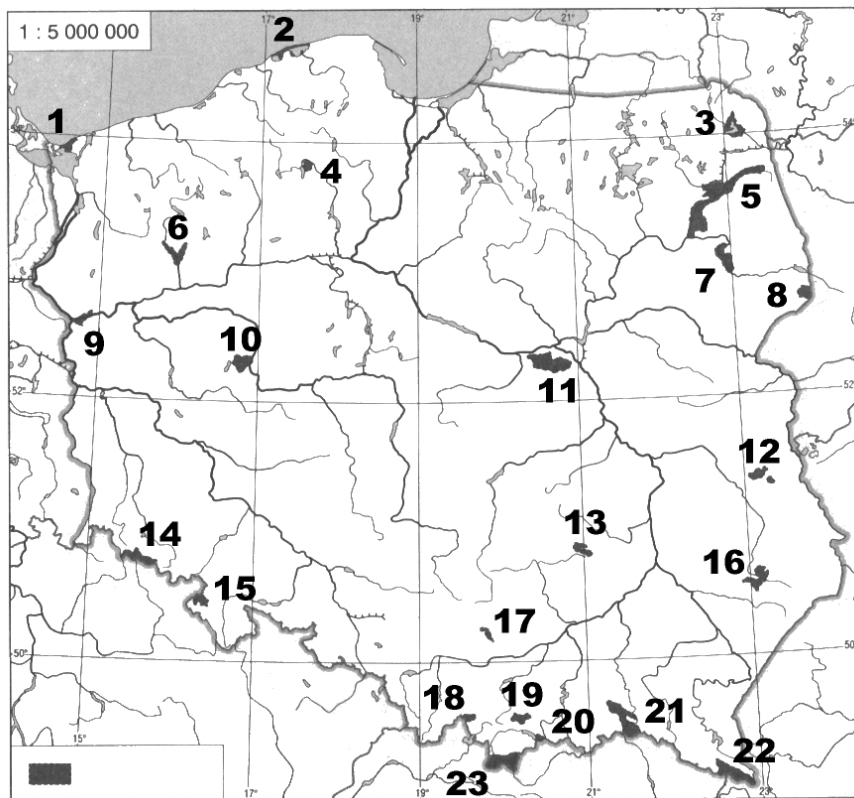
Wymień cztery rezerwaty na Mazowszu, określ ich położenie i opisz co w nich jest chronione.

Pytanie 18

Opisz dowolny park narodowy w Polsce uwzględniając położenie, walory przyrodnicze i turystyczne, zagospodarowanie turystyczne.

--

Pytanie 19



Podaj nazwy zaznaczonych na mapie parków narodowych:

1.		2.	
3.		4.	
5.		6.	
7.		8.	
9.		10.	
11.		12.	
13.		14.	
15.		16.	
17.		18.	
19.		20.	
21.		22.	
23.			

Geografia turystyczna Polski

Pytanie 20

Zaznacz na poniższej mapie Polski położenie szesnastu wybranych z poniższej listy miejsc:



- | | |
|------------------------------|---------------------------------|
| 1. Babia Góra (1725 m n.p.m) | 2. Kłodzko |
| 3. Biecz | 4. Kopiec Kościuszki |
| 5. Cieżkowice | 6. Lesko |
| 7. Dukla | 8. Przemyśl |
| 9. Giżycko | 10. Rez. Jezioro Czerniakowskie |
| 11. Gorlice | 12. Sulejów |
| 13. Hel | 14. Twierdza Wisłoujście |
| 15. Iwonicz Zdrój | 16. ujście Pilicy |
| 17. Jez. Mamry | 18. Włocławek |
| 19. Jez. Solińskie | 20. Zakopane |

Pytanie 21

Wymień siedemnaście szczytów korony gór Polski.

	szczyt	grupa górska	wysokość
1.			
2.			
3.			
4.			
5.			
6.			
7.			
8.			
9.			
10.			
11.			
12.			
13.			
14.			
15.			
16.			
17.			