

# Oddział Międzyuczelniany PTTK w Warszawie

Egzamin na Organizatora Turystyki - 16.12.2003 r.



Uwagi dla zdających:

Egzamin składa się z 20 pytań pogrupowanych w 6 działów.

Punktacja dla poszczególnych pytań została przedstawiona obok.

Zaliczenie egzaminu polega na uzyskaniu ze wszystkich działów, co najmniej po 61 punktów.

Uprzejmie prosimy o udzielanie odpowiedzi tylko w ramach wyznaczonych do tego celu miejsc i o pisanie w sposób czytelny.

*Życzymy powodzenia*  
*Komisja Szkoleniowa*

<b>Architektura</b>		
1		50
2		20
3		30
razem		100
<b>Historia turystyki i PTTK</b>		
4		20
5		10
6		30
7		20
8		20
razem		100
<b>Pierwsza pomoc</b>		
9		16
10		36
11		48
razem		100
<b>Etnografia i budownictwo drewniane</b>		
12		35
13		30
14		35
razem		100
<b>Przyroda i ochrona przyrody</b>		
15		32
16		12
17		33
18		23
razem		100
<b>Geografia turystyczna Polski</b>		
19		44
20		56
razem		100

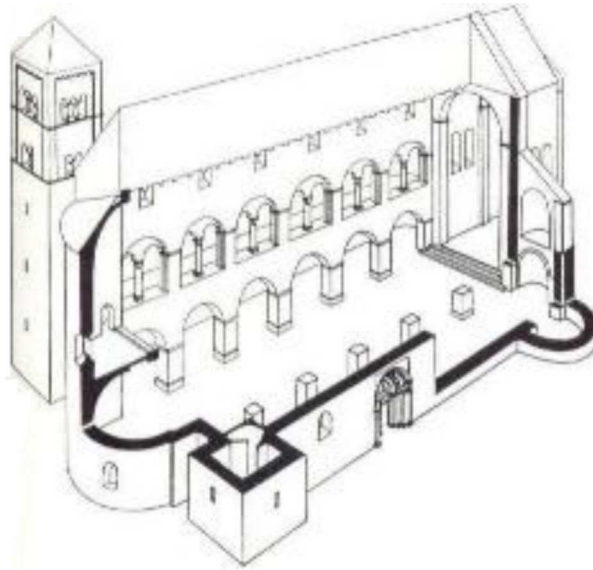
## Architektura

### Pytanie 1



Opisz w 100 słowach obiekt przedstawiony na rysunku.

Uwaga: sprawdzający będzie czytał odpowiedź tylko do setnego słowa.

**Pytanie 2**

Zidentyfikuj i nazwij 10 elementów budynku zaznaczając je także na rysunku.

1.		2.	
3.		4.	
5.		6.	
7.		8.	
9.		10.	

**Pytanie 3**

Wybierz trzy elementy budynku zidentyfikowane w odpowiedzi na poprzednie pytanie i dla każdego z nich podaj opis jego funkcji.

	nazwa	funkcja
1.		
2.		
3.		

## Historia turystyki i PTTK

### Pytanie 4

Zidentyfikuj odznaki turystyki kwalifikowanej i krajoznawcze przedstawione poniżej:

### Pytanie 5

Jakie są dwie podstawowe różnice pomiędzy uprawnieniami przodowniczymi a przewodnickimi?

1.	
2.	

### Pytanie 6

Wymień pełne nazwy sześciu kół należących do Oddziału Międzyuczelnianego PTTK w Warszawie.


**Pytanie 7**

Opisz krótko, czym dla polskiej turystyki zasłużyli się:

Tytus Chałubiński	
Oskar Kolberg	
Wincenty Pol	
Mieczysław Karłowicz	
Mariusz Zaruski	

**Pytanie 8**

Przypisz do dat w zamieszczonych w poniższej tabeli następujące wydarzenia:

1. otwarcie pierwszych przejść turystycznych na granicy polsko–słowackiej,
2. powstaje Górskiego Ochotniczego Pogotowia Ratunkowego,
3. powstaje Polskie Towarzystwo Turystyczno–Krajoznawcze (PTTK),
4. powstanie Tatrzańskiego i Pienińskiego Parku Narodowego,
5. Staszic pisze „O ziemioródtwie Karpatów i innych gór i równin Polski”,
6. w Warszawie powstaje Polskie Towarzystwo Krajoznawcze,
7. w Zakopanem powstaje (Galiczyjskie) Towarzystwo Tatrzańskie,
8. ustanowiono Górską Odznakę Turystyczną PTT,
9. z inicjatywy Hugona Zapałowicza Oddział Babiogórski TT buduje schronisko na Markowych Szczawinach pod Babią Górą,
10. z inicjatywy Mariusza Zaruskiego i Mieczysława Karłowicza powstało Tatrzańskie Ochotnicze Pogotowie Ratunkowe.

<b>1815</b>	<b>1873</b>	<b>1906</b>	<b>1906</b>	<b>1909</b>
<b>1932</b>	<b>1935</b>	<b>1950</b>	<b>1952</b>	<b>1996</b>

## Pierwsza pomoc

### Pytanie 9

Jakie informacje powinien zawierać meldunek o wypadku w górach?

--

### Pytanie 10

Wymień 12 najbardziej niezbędnych Twoim zdaniem rzeczy, jakie powinny znaleźć się w apteczce 10-osobowej grupy wybierającej się na tygodniowy obóz sylwestrowy w Beskid Niski.


### Pytanie 11

Wypełnij poniższą tabelę:

przypadłość	przeciwdziałanie	leczenie
otarcie skóry pleców		
nudności i bóle brzucha u $\frac{3}{4}$ członków grupy		
lekkie odmrożenie stóp		
bąble na uszach (zimą)		

## Etnografia i budownictwo drewniane

### Pytanie 12

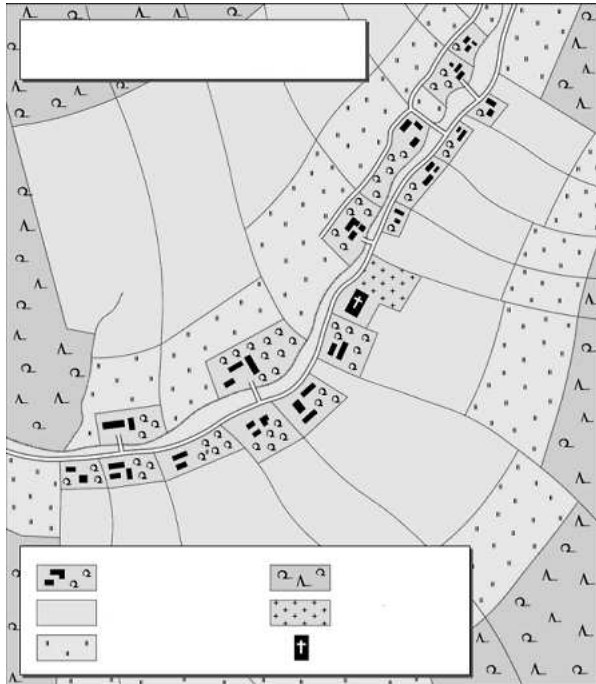


Opisz w 100 słowach obiekt przedstawiony na rysunku uwzględniając jego konstrukcję.

Uwaga: sprawdzający będzie czytał odpowiedź tylko do setnego słowa.

**Pytanie 13**

Opisz krótko przedstawiony poniżej układ wsi.

**Pytanie 14**

Scharakteryzuj dowolnie wybraną grupę etniczną III Rzeczypospolitej, uwzględniając m.in. język, wyznania, rejony zamieszkania (obecnie i w przeszłości), charakterystyczne cechy kultury, zabytki itp.\*

A large empty rectangular box provided for the student's answer to Question 14.

\* Zastanów się dokładnie chodzi o grupę etniczną.



## Przyroda i ochrona przyrody

### Pytanie 15

W jakich sytuacjach można legalnie przejść z grupą przez ścisły rezerwat przyrody:


### Pytanie 16

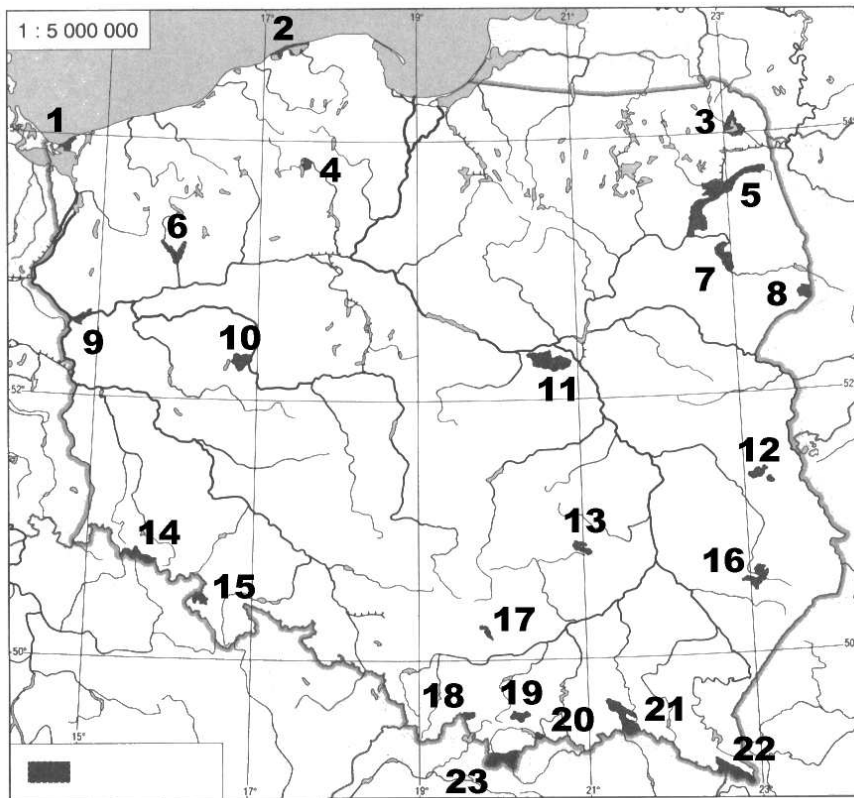
Wymień cztery rezerваты przyrody w najbliższych okolicach miasta Warszawa.


### Pytanie 17

Opisz dowolny typ zbiorowiska leśnego występującego w Polsce wraz z wymienieniem charakterystycznych dla nich gatunków roślin.

--

## Pytanie 18



Podaj nazwy zaznaczonych na mapie parków narodowych:

1.		2.	
3.		4.	
5.		6.	
7.		8.	
9.		10.	
11.		12.	
13.		14.	
15.		16.	
17.		18.	
19.		20.	
21.		22.	
23.			

## Geografia turystyczna Polski

### Pytanie 19

Zaznacz na poniższej mapie Polski położenie piętnastu wybranych z poniższej listy miejsc:



- |                            |                          |
|----------------------------|--------------------------|
| 1. Babia Góra (1725)       | 2. Krzeszów              |
| 3. Biecz                   | 4. Lesko                 |
| 5. Bogatynia               | 6. Łowicz                |
| 7. Ciechocinek             | 8. Malbork               |
| 9. Cieszyn                 | 10. Palmiry              |
| 11. Drohiczyn              | 12. Przemyśl             |
| 13. Góra Słęża             | 14. Sandomierz           |
| 15. Janowiec k. Kazimierza | 16. Stary Sącz           |
| 17. Jezioro Solińskie      | 18. Szczeliniec Wielki   |
| 19. Jezioro Śniardwy       | 20. Twierdza Wisłoujście |
| 21. Kalwaria Pałacowska    | 22. ujście Pilicy        |
| 23. Kłodzko                | 24. Wadowice             |

**Pytanie 20**

Uzupełnij podany poniżej schemat podziału Karpat polskich wg prof. Kondrackiego następującymi nazwami:

Beskid Makowski, Beskid Sądecki, Beskid Śląski, Beskid Wyspowy, Beskid Żywiecki, Bieszczady Zachodnie, Gorce, Małe Pieniny, Pieniny, Pogórze Dynowskie, Pogórze Strzyżowskie, Pogórze Śląskie, Tatry Wschodnie, Tatry Zachodnie,

Babia Góra (1725), Chełm (534), Lubomir (912), Mogielica (1170), Radziejowa (1262), Rysy (2499), Skrzyczne (1257), Starorobociański Wierch (2176), Sucha Góra (592), Tarnica (1346), Trzy Korony (982), Turbacz (1311), Wielki Dział (372), Wysoka (1050).

**Karpaty****Karpaty Zachodnie****Zewnętrzne Karpaty Zachodnie****Pogórze Zachodniobeskidzkie**

	-	
--	---	--

**Beskidy Zachodnie**

	-	
	-	
	-	
	-	
	-	
	-	

**Pogórze Środkowobeskidzkie**

	-	
	-	

**Centralne Karpaty Zachodnie****Obniżenie Orawsko-Podhalańskie**

	-	
<b>Pieniny</b>	-	
	-	

**Łańcuch Tatrzański**

	-	
	-	

**Karpaty Wschodnie****Beskidy Wschodnie****Beskidy Lesiste**

	-	
--	---	--