

KONKURS WIEDZY TURYSTYCZNEJ I TOPOGRAFICZNEJ

SZKOŁY GIMNAZJALNE – użyj karty odpowiedzi !

Historia, tradycja i zadania PTTK w rozwoju turystyki i krajoznawstwa 10 pkt

(jedna odpowiedź jest prawidłowa, każda poprawna odpowiedź 1 punkt)

1. Z zawodu był urzędnikiem kolei warszawsko – wiedeńskiej. Po wycieczce do ruin zamku Ogrodzieniec zrodziła się myśl założenia Polskiego Towarzystwa Krajoznawczego. Tą wybitną osobą, popularnie nazywaną „Wujem” był:
a. Tytus Chałubiński, b. Aleksander Patek, c. Aleksander Janowski, d. Mieczysław Orłowicz ?
2. Galicyjskie Towarzystwo Tatrzańskie powstało w roku:
a. 1873, b. 1837, c. 1888, d. 1893 ?
3. Ile jest Oddziałów PTTK jako terenowych jednostek posiadających osobowość prawną:
a. ok. 300, b. ok. 500, c. ok. 750, d. ok. 1000 ?
4. Najwyższą władzą w PTTK jest:
a. Walny Zjazd, b. Zarząd Główny, c. Zjazd Główny, d. Prezes Zarządu Głównego ?
5. Finał centralny Międzynarodowego Konkursu Krasomówczego dla młodzieży szkół ponadgimnazjalnych odbywa się co roku na zamku w:
a. Kazimierzu Dolnym, b. Janowcu nad Wisłą, c. Golubiu – Dobrzyniu, d. Malborku ?
6. Światowy dzień Turystyki obchodzony jest w dniu:
a. 27 września, b. 27 października, c. 29 września, d. 29 października ?
7. W którym roku ukazało się pierwsze pismo krajoznawcze dla młodzieży nazwane później „Orli Lot”:
a. 1906, b. 1916, c. 1920, d. 1936 ?
8. „Poznaj swój kraj, abyś go mógł gorąco ukochać” - te słowa w 1919 roku wypowiedział jeden z największych polskich krajoznawców:
a. Mieczysław Orłowicz, b. Tytus Chałubiński, c. Aleksander Janowski, d. Stanisław Staszic.
9. Pierwsze regionalne muzeum na ziemiach polskich utworzono w 1888 roku w:
a. Warszawie, b. Krakowie, c. Lwowie, d. Zakopanem ?
10. Podczas tegorocznego finału centralnego OMTTK (6 – 9 czerwca 2013 r.) przypada „Dzień PTTK” !
Będzie to w dniu: a. 6 czerwca, b. 7 czerwca, c. 8 czerwca, d. 9 czerwca ?

Zasady uprawiania turystyki kwalifikowanej i zdobywania odznak PTTK 10 pkt

(jedna odpowiedź jest prawidłowa, każda poprawna odpowiedź 1 punkt)

11. Podczas wycieczki w góry na 1 opiekuna może przypadać maksymalnie: a. 5, b. 10, c. 15, d. 20 uczniów ?
12. Ile punktów do GOT zdobędziesz po przejściu 10 km i pokonaniu 475 metrów przewyższenia terenu:
a. 10, b. 15, c. 20, d. 25 ?
13. Który kolor, oprócz białego, używany jest do oznakowania szlaków końskich:
a. pomarańczowy, b. fioletowy, c. brązowy, d. różowy ?
14. Odznaką regionalną, którą można zdobyć zwiedzając okolice Elbląga jest odznaka:
a. „Miłośnik Krainy Kanału Elbląskiego”, b. „Miłośnik Okolic Elbląga”,
c. „Znam Elbląg”, d. „Ziemia Elbląska” ?
15. Oznaki Turystyki Pieszkiej nie można zdobywać w górach:
a. Świętokrzyskich, b. Stołowych, c. Kaczawskich, d. Beskidzie Małym ?
16. Odznakę „Siedmiomilowe buty” mogą zdobywać dzieci poniżej:
a. 6 lat, b. 8 lat, c. 10 lat, d. 12 lat ?
17. Ile punktów trzeba mieć przyznanych by zdobyć popularną Kolarską Odznakę Turystyczną:
a. 50, b. 100, c. 200, d. nie ma takiej odznaki.
18. Znak ostrzeżenia o trudnym odcinku szlaku przedstawia:
a. wykrzyknik, b. znak zapytania, c. trójkąt, d. kwadrat ze strzałką ?
19. Ile punktów do OTP można zdobyć po zwiedzeniu Elbląga:
a. 5, b. 10, c. 15, d. 20 ?
20. Najstarszą odznaką turystyki kwalifikowanej jest: a. GOT, b. OTP, c. KOT, d. OInO ?

Zadania z zakresu topografii

30 pkt

a. pytania szczegółowe


10 pkt

(jedna odpowiedź jest prawidłowa, każda poprawna odpowiedź 1 punkt)

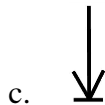
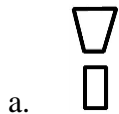
21. Idąc azymutem 135° idziesz w kierunku: a. SE, b. NE, c. SW, d. NW ?
22. Idąc w kierunku SSE idziesz azymutem: a. $67,5^\circ$, b. $112,5^\circ$ c. $157,5^\circ$ d. $202,5^\circ$?
23. Którą skalą się posługujesz jeżeli 16 cm na mapie odpowiada 2,4 km w terenie:
a. 1 : 10 000, b. 1 : 15 000, c. 1 : 25 000, d. 1 : 50 000 ?
24. Niektóre kompasy zawierają klinometr, który służy do pomiaru:
a. odkładania przebytej drogi w km, b. nachylenia stoku, c. sumowania azymutów, d. szerokości drzew ?
25. Którym kolorem wypełniona jest sygnatura oznaczająca parking:
a. żółtym, b. czerwonym, c. zielonym, d. niebieskim ?
26. Podstawa liczby opisującej poziomicy oznacza:
a. opadanie terenu, b. wznoszenie się terenu, c. skok poziomicowy, d. przedstawia tylko wysokość n.p.m. ?
27. Co oznacza poniższa sygnatura:



- a. wieża widokowa, b. nieczynna wieża widokowa,
c. wieża przekaźnikowa, d. nieczynna wieża przekaźnikowa ?
28. Ten umowny znak oznacza:



- a. ruinę, b. boisko piłkarskie, c. ogrodzenie metalowe, d. ogrodzenie drewniane ?
29. Kreska na zewnątrz zamkniętej poziomici oznacza, że teren nią ograniczony to:
a. dołek, b. górką, c. teren płaski, d. nie da się określić charakteru terenu ?
30. Która z poniższych sygnatur oznacza skocznnię narciarską:



?

b. praca z mapą

20 pkt