

Oddział Międzyuczelniany PTTK w Warszawie

Egzamin na Organizatora Turystyki OM PTTK — 13.05.2014



Egzamin składa się z „wejściówki” (4 pytania) oraz 44 pytań pogrupowanych w 10 działów. Punktacja dla poszczególnych pytań została przedstawiona obok.

Zaliczenie egzaminu polega na uzyskaniu:

- z „wejściówki” co najmniej 81 punktów — w przypadku uzyskania mniejszej liczby punktów praca nie będzie dalej sprawdzana,
- z działów po co najmniej po 61 punktów.

Warunkiem dopuszczenia do ustnego egzaminu poprawkowego jest zdobycie po 61 punktów z przynajmniej 7 działów.

Życzymy powodzenia! :)

Komisja Egzaminacyjna

„Wejściówka”		
1		24
2		32
3		24
4		20
razem		100

Budownictwo drewniane		
5		40
6		15
7		25
8		20
razem		100

Etnografia		
9		26
10		29
11		30
12		15
razem		100

Architektura		
13		35
14		40
15		25
razem		100

PTTK jako organizacja		
16		9
17		12
18		28
19		21

20		30
razem		100

Pierwsza pomoc		
21		10
22		16
23		18
24		16
25		40
razem		100

Geografia turystyczna Polski		
26		20
27		40
28		40
razem		100

Historia turystyki		
29		22
30		36
31		24
32		18
razem		100

Terenoznawstwo		
33		25
34		25
35		25
36		25
razem		100

Przyroda i jej ochrona		
37		42
38		18
39		30
40		10
razem		100

Zagadnienia prawne w turystyce		
41		25
42		27
43		18
44		30
razem		100

„Wejściówka”**Pytanie 1 [24 pkt.]**

Wymień nazwy i numery czterech Kół / Klubów zrzeszonych w Oddziale Międzyuczelnianym PTTK w Warszawie.

Pełna nazwa koła	Numer koła

Pytanie 2 [32 pkt.]

Uzupełnij brakującą stolicę lub nazwę województwa.

Stolica	Województwo
Gorzów Wielkopolski	
	Kujawsko - Pomorskie
Łódź	
	Zachodniopomorskie
Katowice	
	Świętokrzyskie
Rzeszów	
	Dolnośląskie

Pytanie 3 [24 pkt.]

Podaj daty powstania poniższych towarzystw

PTTK		PTK		TT	
------	--	-----	--	----	--

Pytanie 4 [20 pkt.]

Rozwiń poniższe skróty

GOT	
InO	
PTG	
OTP	

Budownictwo drewniane

Pytanie 5 [40 pkt.]

fot. Bogdan Leśnik

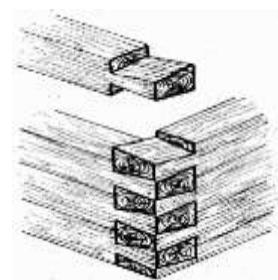


Opisz, w co najwyżej 50 słowach obiekt przedstawiony na rysunku uwzględniając jego konstrukcję.

Pytanie 6 [15 pkt.] test jednokrotnego wyboru

1. Przedstawiona obok konstrukcja przedstawia ścianę o konstrukcji:

- a) na jaskółczy ogon
- b) na zamek
- c) sumikowo-łątkowej




2. Przedstawiona obok ilustracja przedstawia:

- a) kościół
- b) cerkiew
- c) meczet



3. Przedstawione obok elementy ozdobne to:

- a) rysie
- b) gonty
- c) śparogi

**Pytanie 7 [25 pkt.] test jednokrotnego wyboru**

Zaznacz prawidłową odpowiedź:

1. Najniższa belka pozioma w drewnianej ścianie, oparta na fundamencie to:

- a) kalenica
- b) podwalina
- c) poziomica
- d) jętka

2. Jakie pojęcie nie jest związane z budową obiektów drewnianych sakralnych:

- a) bania
- b) soboty
- c) sygnaturka
- d) sypaniec

3. Rodzaj dachu w którym wszystkie połacie zbiegają się w jednym centralnym punkcie to:

- a) dach brogowy
- b) dach łamany polski
- c) dach mansardowy
- d) dach dwupołaciowy

4. Dzwonnice oraz wieże są najczęściej o konstrukcji:

- a) zrębowej
- b) sumikowo-łątkowej
- c) słupowo-ramowej
- d) soboty

5. Pozioma belka przecinająca otwór pomiędzy prezbiterium a nawą, na której umieszczony jest zazwyczaj krucyfiks to:

- a) ślemię
- b) kalenica
- c) belka tęczowa
- d) krokiew

Pytanie 8 [20 pkt.]

Podaj 4 obiekty drewniane w Polsce znajdujące się na liście światowego dziedzictwa UNESCO

1	
2	
3	
4	

Etnografia**Pytanie 9 [26 pkt.]**

Wymień mniejszości narodowe [18 pkt.] i etniczne [8 pkt.] w Polsce:

Mniejszości narodowe	
Mniejszości etniczne	

Pytanie 10 [29 pkt.]

Scharakteryzuj jedną z mniejszości narodowych występujących w Polsce uwzględniając miejsce zamieszkania danej mniejszości, liczebność, wyznanie, zwyczaje itp.

--

Pytanie 11 [30 pkt.]

Wyjaśnij pojęcia.

Bożnica	
Macewa	
Pazdur	
Baca	
Minaret	
Zdun	

Cep	
Bania	
Zbór	
Kraszanka	

Pytanie 12 [15 pkt.]

Przypisz pojęciom z lewej kolumny definicje z kolumny prawej wstawiając właściwą literę.

A	Mandylion		Miejsce w synagodze do przechowywania Tory
B	Aron ha-kodesz		Podwyższenie w synagodze, z którego czyta się Torę
C	Bima		Ozdobna, pokryta ikonami ściana w cerkwi oddzielająca prezbiterium od nawy
D	Koran		Przedstawienie twarzy Chrystusa odbitej na chuście
E	Ikonostas		Święta księga Islamu

Architektura



Pytanie 13 [35 pkt.] Opisz w 50 słowach budynek przedstawiony na zdjęciu.





Rysunek fot. Wikipedia

Pytanie 14 [40 pkt.]

Określ style zabytkowych budowli z terenu Polski widocznych na zdjęciach i orientacyjne ramy czasowe, w jakich te budowle mogły powstać, opisz charakterystyczne cechy budowli wznoszonych na terenie Polski w tych stylach i podaj po jednym innym przykładzie obiektów reprezentujących te style.

			
Styl [2 pkt.]		Styl [2 pkt.]	
Przybliżony czas powstania [2 pkt.]		Przybliżony czas powstania [2 pkt.]	
Cechy charakterystyczne stylu (4 cechy) [4 pkt.]		Cechy charakterystyczne stylu (4 cechy) [4 pkt.]	
Przykład innej budowli w tym stylu [2 pkt.]		Przykład innej budowli w tym stylu [2 pkt.]	


			
Styl <i>[2 pkt.]</i>		Styl <i>[2 pkt.]</i>	
Przybliżony czas powstania <i>[2 pkt.]</i>		Przybliżony czas powstania <i>[2pkt.]</i>	
Cechy charakterystyczne stylu (4 cechy) <i>[4 pkt.]</i>		Cechy charakterystyczne stylu (4 cechy) <i>[4 pkt.]</i>	
Przykład innej budowli w tym stylu <i>[2 pkt.]</i>		Przykład innej budowli w tym stylu <i>[2 pkt.]</i>	

Pytanie 15 [25 pkt.]

1. Przyporządkuj literę alfabetu przy zdjęciach do odpowiadających im nazw.[20 pkt.]



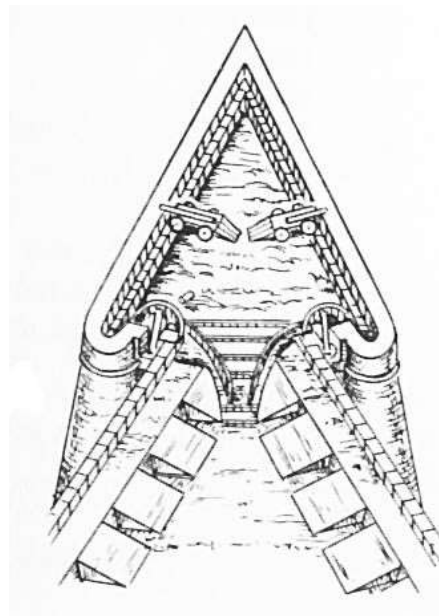
A



B



C



D

1. Bastion

2. Basteja

3. Baszta

4. Hurdycja

.....

.....

.....

.....

2. Podaj przykład gdzie w Polsce można zobaczyć Barbakan [5 pkt.]

.....

PTTK jako organizacja**Pytanie 26 [9 pkt.]**

Wymień Władze Naczelne PTTK.

--

Pytanie 17 [12 pkt.]

Wymień 3 Schroniska PTTK i 3 Studenckie Bazy Namiotowe PTTK.

SCHRONISKA PTTK	STUDENCKIE BAZY NAMIOTOWE PTTK

Pytanie 18 [28 pkt.] test wielokrotnego wyboru

Zaznacz prawidłowe odpowiedzi:

- Z jaką funkcją nie może być łączona funkcja Prezesa Oddziału PTTK :
 - Prezesa Klubu PTTK zrzeszonego w tym oddziale
 - Przewodniczący Komisji Rewizyjnej tego oddziału
 - Przewodniczący Komisji Rewizyjnej Klubu PTTK zrzeszonego w tym oddziale
 - Sekretarz Walnego Zjazdu Oddziału
- Do praw Członka PTTK (zgodnie ze Statutem PTTK) należy:
 - prawo do bycia wybranym do władz PTTK
 - prawo do zgłaszania wniosków dotyczących działalności PTTK
 - prawo do uzyskiwania na zasadach określonych przez Zarząd Główny PTTK uprawnień kadry PTTK
 - prawo do noszenia odznaki organizacyjnej PTTK
- Członkiem PTTK (zgodnie ze Statutem PTTK) może zostać:
 - obywatel polski, mający pełną zdolność do czynności prawnych i nie pozbawiony praw publicznych
 - małoletni w wieku od 16 do 18 lat, mający ograniczoną, zdolność do czynności prawnych
 - cudzoziemiec, jedynie gdy zgodę wyrazi Komisja Rewizyjna Zarządu Głównego PTTK
 - małoletni w wieku poniżej 16 lat, za zgodą jego przedstawicieli ustawowych
- Członek PTTK (zgodnie ze Statutem PTTK) ma obowiązek:
 - przestrzegać postanowień Statutu PTTK
 - przestrzegać postanowień uchwał władz PTTK
 - regularnie opłacać składkę członkowską PTTK
 - do 31 grudnia każdego roku opracowywać sprawozdanie z działalności własnej w ramach PTTK za ten rok
- Komisją programową Zarządu Głównego PTTK jest :
 - Komisja Turystyki Żeglarskiej
 - Główna Komisja Rewizyjna
 - Komisja Imprez na Orientację
 - Komisja Wspinaczki Skalnej

6. Oddział PTTK:
- a) powołuje własne władze naczelne b) nie może przyjąć własnego statutu c) może stać się Organizacją Pożytku Publicznego d) może powoływać własne komisje programowe
7. Spośród poniższych osobowość prawną ma:
- a) PTTK b) Oddział PTTK c) Koło PTTK d) Komisja programowa Oddziału PTTK

Pytanie 19 [21 pkt.] test jednokrotnego wyboru



Zaznacz prawidłowe odpowiedzi:

1. Godność Członka Honorowego PTTK nadawana jest przez:
- a) Walny Zjazd PTTK b) Główną Komisję Rewizyjną PTTK c) Zarząd Oddziału PTTK d) Komisję Rewizyjną Oddziału PTTK
2. Kadencja Zarządu Głównego PTTK trwa:
- a) 2 lata b) 3 lata c) 4 lata d) 6 lat
3. Prezesem PTTK w obecnej kadencji jest:
- a) Jerzy Kapłon b) Janusz Onyszkiewicz c) Paweł Zań d) Roman Bargieł
4. Zasady wyborów w PTTK określa:
- a) Główna Komisja Rewizyjna PTTK b) Zarząd PTTK c) Ordynacja Wyborcza PTTK d) Główny Sąd Koleżeński PTTK
5. Centralna Biblioteka PTTK znajduje się w:
- a) Łodzi b) Warszawie c) Krakowie d) Gdańsku
6. W Terenowym Referacie Weryfikacyjnym działającym przy OM nie można zweryfikować odznaki:
- a) Szlakiem Zabytków Architektury Drewnianej w Warszawie b) Odznaka Turystyki Pieszej c) Górską Odznaką Turystyczną d) Kolarską Odznaką Pielgrzymia
7. Ilu członków zrzesza obecnie PTTK?
- a) ok. 20 000 b) ok. 40 000 c) ok. 60 000 d) ok. 80 000

Pytanie 20 [30 pkt.]

(Zwolnienie dla osób posiadających odznaki TAK/NIE)

1. Podaj pełne nazwy poniższych odznak – bez stopnia. [18 pkt.]:

ODZNAKA	NAZWA
	
	

2. Wymień 3 odznaki ustanowione przez Oddział Międzyuczelniany PTTK w Warszawie [12 pkt.]:

Pierwsza pomoc

Pytanie 21 [10 pkt.]

Wymień 5 przedmiotów, które oprócz leków powinny znaleźć się w apteczce pierwszej pomocy podczas kilkudniowej wycieczki w Beskidy. [10 pkt.]

--

Pytanie 22 [16 pkt.]

Dopasuj numery alarmowe do poszczególnych służb ratunkowych.

A.	GOPR
B.	Państwowa Straż Pożarna

	998
	601 100 100

C.	Pogotowie Ratunkowe
D.	WOPR

	601 100 300
	999

Pytanie 23 [18 pkt.] test wielokrotnego wyboru

- Jeden z uczestników wycieczki został ukąszony przez żmiję. Co robisz?
 - zakładasz opaskę uciskową poniżej miejsca ukąszenia
 - przemywasz ranę alkoholem
 - dzwonisz po pomoc
 - odsysasz krew z jadem ustami
- Kto może obsługiwać automatyczny defibrylator zewnętrzny (AED)?
 - każdy
 - jedynie osoba po uprzednim przeszkoleniu
 - tylko lekarz
 - tylko służby mundurowe
- Jaki jest schemat resuscytacji krążeniowo-oddechowej?
 - 30 uciśnień klatki piersiowej, 2 oddechy ratownicze
 - 25 uciśnień klatki piersiowej, 2 oddechy ratownicze
 - 30 uciśnień klatki piersiowej, 5 oddechów ratowniczych
 - 5 wdechów ratowniczych, 15 uciśnień klatki piersiowej, 2 oddechy ratownicze

Pytanie 24 [16 pkt.]

- Napisz, jakie informacje powinieneś przekazać dyspozytorowi informując o wypadku.

Pytanie 25 [40 pkt.]

- Rozważ następujące czynności wykonywane podczas udzielania pierwszej pomocy i wskaż właściwą kolejność postępowania. [10 pkt.]

A	udrożnienie dróg oddechowych
B	resuscytacja krążeniowo-oddechowa
C	ocena bezpieczeństwa
D	wezwanie karetki pogotowia
E	sprawdzenie oddechu i tętna
F	wezwanie kogoś do pomocy
G	sprawdzenie reakcji poszkodowanego

- D – E – A – C – F – G – B
- B – F – D – A – G – E – C
- E – C – A – G – F – D – B

- d) B – D – F – G – C – E – A
 e) F – G – B – C – B – D – E
 f) F – C – D – E – G – A – B

2. Podczas organizowanej przez Ciebie wycieczki wysokogórskiej zdarzył się wypadek i trzeba sprowadzić pomoc do poszkodowanego. Wymień 3 sposoby wezwania pomocy. [15 pkt.]

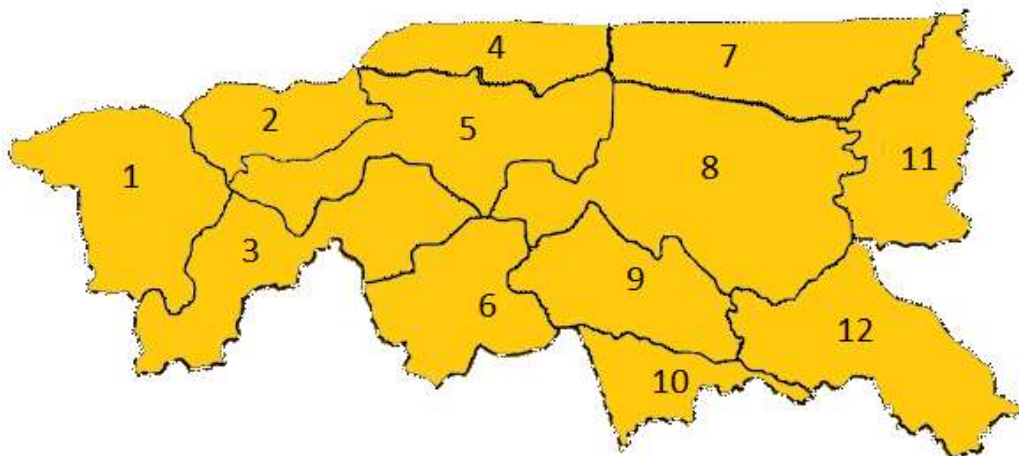
3. Napisz, co należy zrobić, aby uniknąć odmrożenia podczas zimowej wyprawy. Podaj 3 przykłady działań profilaktycznych. [15 pkt.]

Geografia Turystyczna Polski

Pytanie 26 [20 pkt.]

Na podstawie mapy Beskidów Zachodnich i poniższych informacji, uzupełnij tabelę dla pięciu dowolnie wybranych pasm

Beskid Niski, Gorce, Beskid Żywiecki, Pieniny, Beskid Wyspowy, Beskid Mały, Beskid Śląski, Beskid Sądecki, Czupel, Lackowa, Skrzyczne, Trzy Korony, Mogielica, Wysoka, Turbacz, Babia Góra, Radziejowa, 934, 997, 1050, 1171, 1257, 1262, 1310, 1725



Numer z mapy	Pasma górskie	Najwyższy szczyt	Wysokość

Pytanie 27 [40 pkt.]

1. Wymień 8 obiektów wpisanych na listę światowego dziedzictwa UNESCO. Wśród wskazanych obiektów wymień przynajmniej jeden, który został wpisany na listę światowego dziedzictwa UNESCO w 2013 r. Nie wpisuj obiektów drewnianych wpisanych w pytaniu nr 8 [20 pkt.]

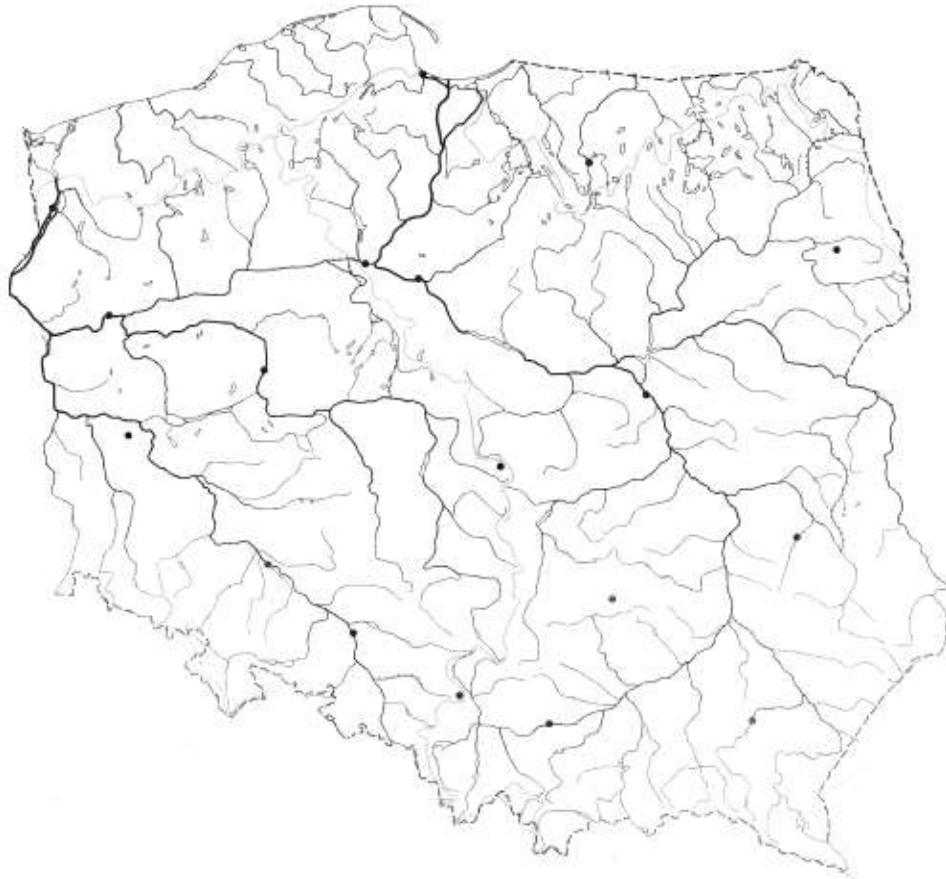
1		5	
2		6	
3		7	
4		8	

2. Przyporządkuj podanym miejscowościom znajdujące się tam charakterystyczne obiekty [20 pkt.]

1	Białystok	
2	Jawor	
3	Szymbark	
4	Węgierska Górka	
5	Karpacz	
6	Książ	
7	Święta Katarzyna	
8	Niedzica	
9	Dębno Podhalańskie	
10	Krynica-Zdrój	

A	Świątynia Wang
B	Zespół rezydencjalny z zamkiem z końca XIII w.
C	Ewangelicki Kościół Pokoju
D	Zamek „Dunajec” z XV w.
E	Zespół klasztorny bernardynek
F	Zespół pałacowo-parkowy Branickich
G	XV-wieczny gotycki kościół drewniany
H	Pijalnia "Słotwinka" z 1806 roku
I	Skansen – Ośrodek Budownictwa Ludowego
J	5 schronów bojowych z okresu II wojny światowej

Pytanie 28 [40 pkt.]



Zaznacz na podanej mapie Polski położenie **dwudziestu** wybranych z poniższej listy miejsc:

1	Białystok	14	Olsztyn
2	Bochnia	15	Przemyśl
3	Krynica Morska	16	Bielsko - Biała
4	Tarnów	17	Ostrowiec Świętokrzyski
5	Nidzica	18	Karpacz
6	Lublin	19	Mikołajki
7	Toruń	20	Gdynia
8	Opołonek	21	Nowy Targ
9	Sanok	22	Nieporęt
10	Gorlice	23	Zamość
11	Kętrzyn	24	Gniezno
12	Kołobrzeg	25	Wałbrzych
13	Ślęza	26	Zielona Góra

Historia turystyki

Pytanie 29 [22 pkt.]

Opisz krótko genezę powstania TOPR

Pytanie 30 [36 pkt.] *test jednokrotnego wyboru*

Zaznacz prawidłową odpowiedź:

1. PTTK zostało założone w:

- | | |
|-------------|--------------|
| a) Krakowie | c) Wrocławiu |
| b) Lwowie | d) Warszawie |

2. Kto był pomysłodawcą utworzenia Centralnego Ośrodka Turystyki Górskiej w Krakowie?

- | | |
|-----------------------|---------------------|
| a) Edward Moskała | c) Teodor Billewicz |
| b) Janusz Wiktorowicz | d) Maria Bogucka |

3. Kto przyczynił się do budowy Orlej Perci

- | | |
|-------------------------|-------------------------|
| a) Mieczysław Świerż | c) Ks. Walenty Gadowski |
| b) Ks. Józef Stolarczyk | d) Feliks Rapf |

4. "Wojna na pędzle" nie toczyła się:

- | | |
|--------------------------|------------------------------------|
| a) w okolicy Babiej Góry | c) z udziałem Władysława Midowicza |
| b) w Zakopanem | d) z działaczami Beskidenverein |

5. Założenie pierwszego schroniska TT w Beskidach Zachodnich miało miejsce w:

- | | |
|---------|---------|
| a) 1911 | c) 1925 |
| b) 1906 | d) 1874 |

6. Od którego roku można zdobywać OTP?:

- | | |
|---------|---------|
| a) 1935 | c) 1909 |
| b) 1873 | d) 1952 |

7. Pierwsza Bacówka PTTK powstała:

- | | |
|-------------------|------------------|
| a) nad Wierchomlą | c) na Rycerzowej |
| b) w Bartnem | d) w Jaworcu |

8. Książkę pod tytułem „o ziemioródtwie Karpatów i innych gór i równin Polski” napisał:

- | | |
|-----------------------|------------------------|
| a) Leszek Drożdżyński | c) Ludwik Zejszner |
| b) Stanisław Staszic | d) Seweryn Goszczyński |

9. Powstanie pierwszego Ośrodka Kultury Turystyki Górskiej?:

- | | |
|---------|---------|
| a) 1874 | c) 1925 |
| b) 1993 | d) 1966 |

Pytanie 31 [24 pkt.]

W którym roku miało miejsce każde z następujących wydarzeń? Wybierz jedną z dat umieszczonych w nawiasie:

WYDARZENIE	DATA
Założenie AKT Lwów (1888, 1906, 1920)	
Wybudowanie Pierwszego Schroniska TT pod Morskim Okiem (1863, 1874, 1902)	
Powstanie Warszawskiego OM PTTK (1906, 1945, 1960)	
Założenie Zakopiańskiego Oddziału Narciarzy (1885, 1907, 1945)	
Ustanowienie przez PTTK Górskiej Odznaki Turystycznej (1830, 1935, 1950)	
Pierwsza na ziemiach polskich zorganizowana nizinna wycieczka PTK (1870, 1907, 1946)	
Wyznakowanie Głównego Szlaku Sudeckiego (1887, 1937, 1947)	
Założenie GTT (1873, 1906, 1945)	

Pytanie 32 [18 pkt.]

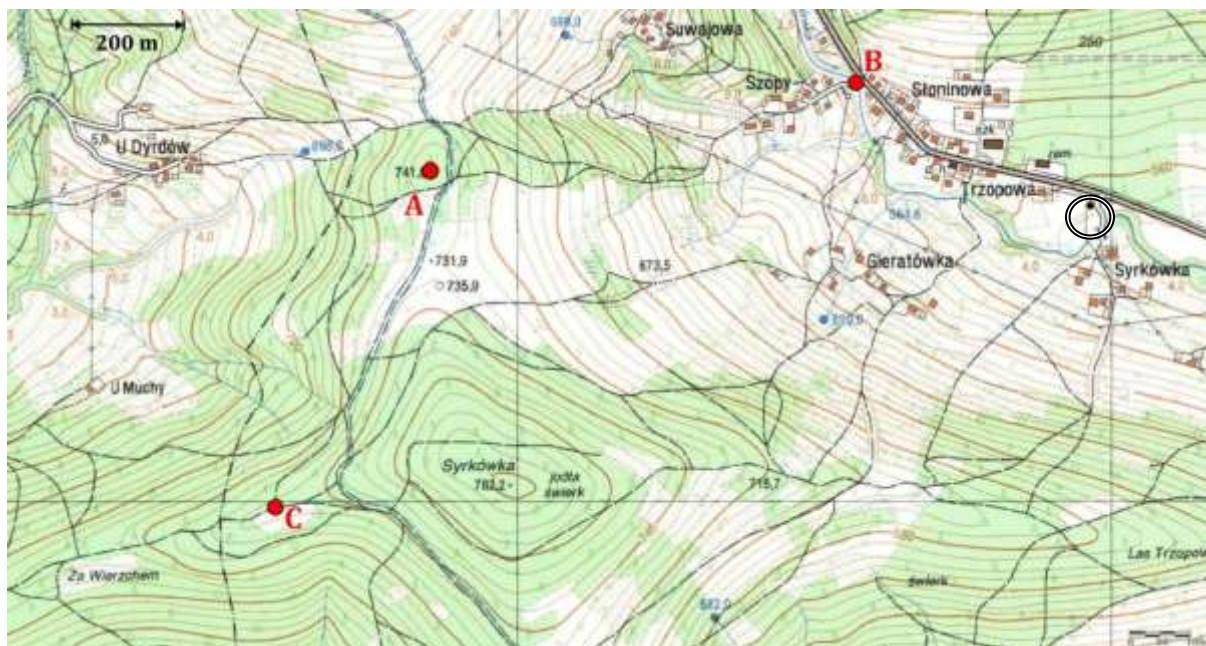
Przyporządkuj pojęcia do następujących postaci: **AKT Lwów, Pierwszy prezes PTK, Etnografia, Wielka Encyklopedia Tatrzańska, Pomysłodawca Głównego Szlaku Beskidzkiego, Prezes Sekcji Turystycznej TT**

Janusz Chmielowski	
Witold Henryk Paryski	
Mieczysław Orłowicz	
Kazimierz Sosnowski	
Oskar Kolberg	
Zygmunt Gloger	

Terenoznawstwo**Pytanie 33 [25 pkt.]**

Mając do dyspozycji fragment mapy jak poniżej odpowiedz na poniższe pytania.

1.	Znajdujesz się w punkcie A na mapie – w jakich miejscowościach szukasz noclegu, gdy zaczyna się burza? (podaj 3 najbliższe) [6 pkt.]	
2.	Podaj nazwę najwyższego miejsca na mapie. [4 pkt.]	
3.	Jaki jest azymut z punktu C na mapie na punkt A? [5 pkt.]	
4.	W jakiej odległości od stacji transformatorowej (przy punkcie B) znajduje się kapliczka (zaznaczona kółeczkiem)? [5 pkt.]	
5.	Ile źródeł znajduje się na obszarze objętym mapą? [5 pkt.]	



Pytanie 34 [25 pkt.]

Posługując się mapą – jak powyżej odpowiedz na pytania.

1.	Ile metrów podejścia pokonasz idąc z punktu A do punktu C? [5 pkt.]	
2.	Jak nazwa się miejscowość położona najwyżej na mapie? [5 pkt.]	
3.	Ile metrów ma najgłębszy jar znajdujący się w okolicy miejscowości U Dyrdów? [5 pkt.]	
4.	Które miejsce znajduje się wyżej: Las Trzopowa (SE) czy polana Za Wierzchem (SW)? [5 pkt.]	
5.	Jakie „oczka” ma siatka na powyższej mapie? Ile [m] [5 pkt.]	

Pytanie 353 [25 pkt.] – test jednokrotnego wyboru – każda prawidłowa odpowiedź: 5 pkt.

1. Azymut 45 stopni oznacza:

- a) kąt ostry
 b) północno-północny wschód (NNE)
 c) północny wschód (NE)
 d) północno-wschodni wschód (NEE)

2. Przecinka leśna w rzeczywistości ma 1 km długości. Na mapie w skali 1:12 500 oznaczona zostanie znakiem liniowym o długości:

- a) 8 cm b) 10 cm c) 12,5 cm d) 15 cm

3. Kierunek SW oznacza azymut:

- a) 202,5 st b) 225 st c) 247,5 st d) 270 st

4. „Konfiguracja powierzchni uwzględniająca jej rzeźbę terenu (kształt) oraz obecność i wzajemne położenie obiektów i punktów charakterystycznych” jest definicją określenia:

- a) morfologia terenu b) poziomica

- c) skala
d) topografia
5. Obiekty na mapie takie jak: stacja trafo, kapliczka czy punkt triangulacyjny to?
- a) liniowe
b) punktowe
c) konturowe
d) wszystkie powyższe

Pytanie 36 [25 pkt.]

Wypełnij poniższą tabelę i odpowiedz na pytanie: (5 pkt. za każdą prawidłową odpowiedź)

	Skala mapy	Odległość na mapie	Odległość w terenie
a)	1 : 5 000		750 m
b)		2,5 dm	2,5 km
c)	1 : 25 000	32 mm	
d)	1 : 15 000	4,5 cm	
e)	Jaką rzeczywistą powierzchnię (w ha) ma jezioro, które na mapie w skali 1 : 25 000 zajmuje 16 cm kw.?		

Przyroda i jej ochrona**Pytanie 37 [42 pkt.]**

- a) Podpisz zaznaczone parki narodowe [23 pkt.]



1		13	
2		14	
3		15	
4		16	
5		17	
6		18	
7		19	
8		20	
9		21	
10		22	
11		23	
12			

- b) Podaj nazwy 3 parków narodowych będących rezerwatami biosfery UNESCO [3 pkt.]

--	--	--

- c) Opisz krótko wybrany park narodowy, charakteryzując ukształtowanie terenu, florę, faunę i atrakcje turystyczne [16 pkt.]

--

Pytanie 38 [18 pkt.]

Dopasuj pojęcia: **ochrona ścisła, ochrona ex situ, rekultywacja, ochrona czynna, reintrodukcja, ochrona częściowa.**

	sztuczne wprowadzenie gatunku na teren, gdzie niegdyś występował, ale wyginął
	zabiegi stosowane w celu przywrócenia naturalnego stanu ekosystemów i ich składników lub zachowania siedlisk przyrodniczych i siedlisk gatunków

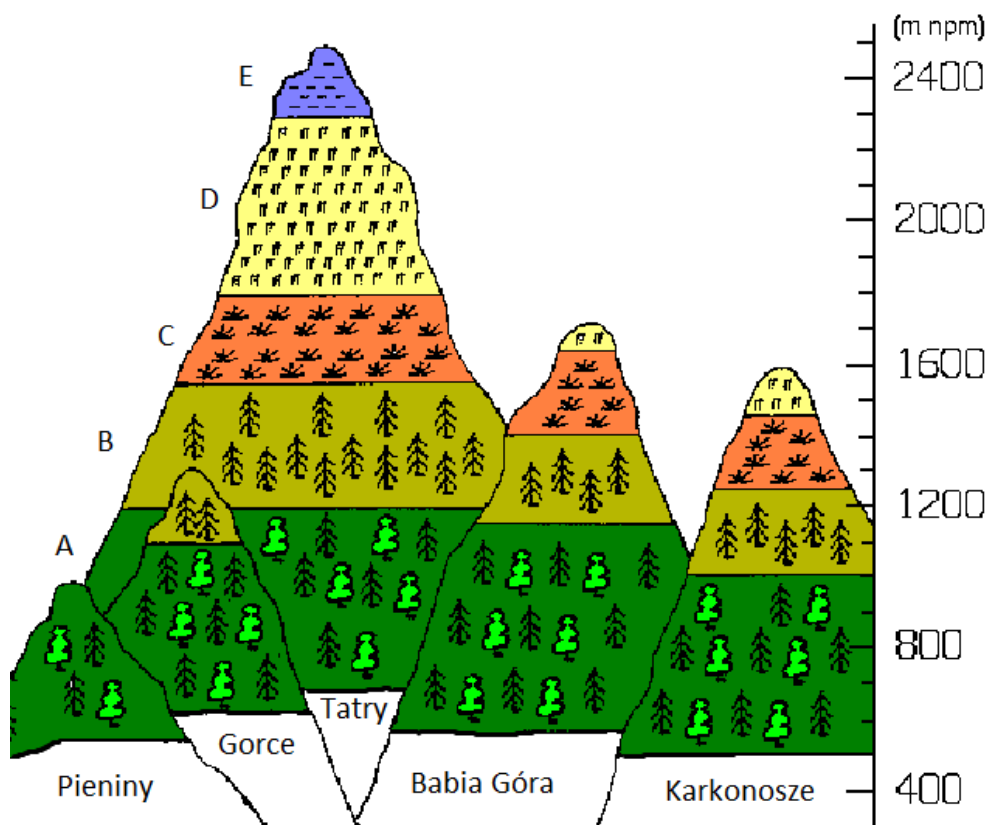
	przyrodnicze zagospodarowanie terenów zniszczonych przez działania antropogeniczne
	w przypadku obszarów całkowite i trwałe zaniechanie bezpośredniej ingerencji człowieka, a w przypadku gatunków - całoroczna ochrona osobników i stadiów ich rozwoju
	ochronę gatunku polegającą na jego przeniesieniu w inne miejsce
	ochrona gatunków dopuszczająca możliwość redukcji liczebności populacji i pozyskiwania osobników lub ich części

Pytanie 39 [30 pkt.] test jednokrotnego wyboru

- Który z gatunków jako pierwszy został wzięty pod ochronę przez króla Bolesława Chrobrego:
 - bóbr
 - kozica
 - świstak
 - żubr
- Stałym zakazem wstępu nie są objęte lasy stanowiące:
 - ostoje zwierząt
 - źródlika rzek i potoków
 - park krajobrazowy
 - drzewostany nasienne
- Strefa ochronna granicząca z formą ochrony przyrody, wyznaczona dla jej zabezpieczenia przed zagrożeniami zewnętrznymi wynikającymi z działalności człowieka, to:
 - otulina
 - ekosystem
 - obszar specjalnej ochrony Natura 2000
 - specjalny obszar ochrony Natura 2000
- Legalnie poruszać się w Polsce po parku narodowym, poza wyznaczonymi szlakami turystycznymi nie można w przypadku:
 - ataku zwierząt
 - intensywnych opadów śniegu
 - pożaru
 - lawiny
- Co jest przedmiotem ochrony w ramach obszarów Natura 2000?
 - torfowiska
 - płazy i ich siedliska
 - ekosystemy błotne
 - ptaki i ich siedliska
- Który gatunek nie podlega ścisłej ochronie w Polsce:
 - Cis pospolity
 - Sasanka alpejska
 - Salamandra płamista
 - Nasosznik trzęś

Pytanie 40 [10 pkt.]

Podpisz piętra roślinności w górach



A	B	C	D	E

Zagadnienia prawne w turystyce

Pytanie 41 [25 pkt.]

Jakie elementy powinno zawierać zgłoszenie imprezy w OM PTTK? Wymień pięć rzeczy.

Pytanie 42 [27 pkt.] test wielokrotnego wyboru

- 1) Kto na wyjazdach organizowanych w ramach Oddziału Międzyuczelnianego jest objęty ubezpieczeniem NNW? [9 pkt.]
 - a) Kadra i organizatorzy
 - b) Każdy członek wycieczki będący członkiem PTTK

