

KONKURS WIEDZY TURYSTYCZNEJ I TOPOGRAFICZNEJ

SZKOŁY PODSTAWOWE – użyj karty odpowiedzi !

Historia, tradycja i zadania PTTK w rozwoju turystyki i krajoznawstwa 10 pkt

(jedna odpowiedź jest prawidłowa, każda poprawna odpowiedź 1 punkt)

1. Był lekarzem i odkrywcą właściwości leczniczych Tatr. Jego przyjacielem był góralski gawędziarz Sabała. Tą wybitną osobą, która została pochowana na zakopiańskim cmentarzu na Pęksowym Brzyzku był:
a. Bogumił Hoff, b. Aleksander Janowski, c. Stanisław Witkiewicz, d. Tytus Chałubiński ?
2. Polskie Towarzystwo Turystyczno – Krajoznawcze powstało w roku:
a. 1906, b. 1926, c. 1950, d. 1956 ?
3. W którym roku wydano pierwszy numer czasopisma „Poznaj Swój Kraj”:
a. 1920, b. 1935, c. 1958, d. 1960 ?
4. Co ile lat zwoływany jest zwyczajny Walny Zjazd PTTK:
a. 2, b. 3, c. 4, d. 5 ?
5. Rywalizacja młodych krajoznawców opisujących historie rodzin, ciekawych ludzi, miejsc nosi nazwę :
a. „Pięknie Ojczyznę opowiedzieć”, b. Konkurs Krajoznawczy „Poznajemy Ojcowiznę”,
c. Poznaj Swój Kraj, d. „Twoja Przeszłość – Twoja Ojcowizna” ?
6. Światowy dzień Turystyki obchodzony jest w dniu:
a. 27 września, b. 27 października, c. 29 września, d. 29 października ?
7. Pierwsze pismo krajoznawcze dla młodzieży utworzone w 1920 roku pod początkową nazwą „Miesięcznik Krajoznawczy” zmieniło później nazwę na:
a. Młody Krajoznawca, b. Szkolny Krajoznawca, c. Orli Lot, d. Polski Orlik ?
8. „Wstyd to wielki nie znać swej Ojczystej ziemi” – te słowa w 1919 roku wypowiedział jeden z największych polskich krajoznawców:
a. Mieczysław Orłowicz, b. Tytus Chałubiński, c. Aleksander Janowski, d. Stanisław Staszic.
9. W którym roku utworzono pierwsze muzeum regionalne – „Muzeum Tatrzańskie”:
a. 1888, b. 1898, c. 1906, d. 1926 ?
10. Podczas tegorocznego finału centralnego OMTTK (6 – 9 czerwca 2013 r.) przypada „Dzień PTTK” !
Będzie to w dniu: a. 6 czerwca, b. 7 czerwca, c. 8 czerwca, d. 9 czerwca ?

Zasady uprawiania turystyki kwalifikowanej i zdobywania odznak PTTK 10 pkt

(jedna odpowiedź jest prawidłowa, każda poprawna odpowiedź 1 punkt)

11. Podczas wycieczki autokarowej na 1 opiekuna może przypadać maksymalnie:
a. 10, b. 15, c. 20, d. 25 uczniów ?
12. Ile punktów do GOT zdobędziesz po przejściu 15 km i pokonaniu 480 metrów przewyższenia terenu:
a. 10, b. 15, c. 20, d. 25 ?
13. Ile kolorów, oprócz białego, używanych jest do oznakowania pieszych szlaków turystycznych:
a. 3, b. 4, c. 5, d. 6 ?
14. Odznaką regionalną, którą można zdobyć zwiedzając okolice Elbląga jest odznaka:
a. „Znam Elbląg”, b. Miłośnik Ziemi Elbląskiej,
c. „Znam zabytki Elbląga i okolic”, d. „Turysta Elbląski” ?
15. Odznakę Turystyki Pieszej można zdobywać w :
a. Górach Stołowych, b. Beskidzie Małym, c. Beskidzie Niskim, d. Beskidzie Śląskim ?
16. W odznace „Siedmiomilowe buty” dzienne przejście przy zdobywaniu I stopnia (Srebrne Buty) nie może przekroczyć: a. 6, b. 8, c. 10, d. 12 kilometrów.
17. Na Odznace PTTK „Turysta Przyrodnik” widnieje jedna z najcenniejszych roślin chronionych:
a. szarotka alpejska, b. lilia złotogłów, c. wawrzynek wilczęłyko, d. dziewięcisz.
18. Stuptuty to:
a. dolna część buta trekkingowego, b. cholewka buta trekkingowego,
c. rodzaj nowoczesnych kijków turystycznych, d. ochraniacze na łydkę ?
19. Ile punktów do OTP można zdobyć po zwiedzeniu Elbląga:
a. 5, b. 10, c. 15, d. 20 ?
20. W punktacji podstawowej za każdy dzień jazdy rowerem podczas wędrówek jednodniowych można zdobyć do Kolarskiej Odznaki Turystycznej: a. 10, b. 15, c. 20, d. 25 punktów ?

Zadania z zakresu topografii

30 pkt

a. pytania szczegółowe

10 pkt

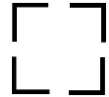
(jedna odpowiedź jest prawidłowa, każda poprawna odpowiedź 1 punkt)

21. Idąc azymutem 225° idziesz w kierunku: a. SE, b. NE, c. SW, d. NW ?
22. Idąc w kierunku NEE idziesz azymutem: a. $67,5^\circ$, b. $112,5^\circ$ c. $157,5^\circ$ d. $202,5^\circ$?
23. Którą skalą się posługujesz jeżeli 12 cm na mapie odpowiada 1,2 km w terenie:
a. 1 : 10 000, b. 1 : 15 000, c. 1 : 25 000, d. 1 : 50 000 ?
24. Gwiazda Polarna, dzięki której możemy w nocy odnaleźć kierunek północny, znajduje się w gwiazdozbiornie:
a. Małego Wozu, b. Dużego Wozu, c. Krzyża Południa, d. Oriona ?
25. Którym kolorem wypełniona jest sygnatura oznaczająca restaurację:
a. żółtym, b. czerwonym, c. zielonym, d. niebieskim ?
26. Obiekt noclegowy agroturystyki na mapach to domek koloru:
a. żółtego, b. czerwonego, c. zielonego, d. niebieskiego ?
27. Co oznacza poniższa sygnatura:


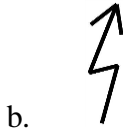
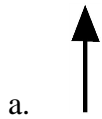


- a. wieża widokowa, b. nieczynna wieża widokowa,
c. wieża przekaźnikowa, d. nieczynna wieża przekaźnikowa ?

28. Ten umowny znak oznacza:



- a. ruinę, b. boisko piłkarskie, c. ogrodzenie metalowe, d. ogrodzenie drewniane ?
29. Kreska na zewnątrz zamkniętej poziomici oznacza, że teren nią ograniczony to:
a. dołek, b. górkę, c. teren płaski, d. nie da się określić charakteru terenu ?
30. Która z poniższych sygnatur oznacza strzelnicę:



?

b. praca z mapą

20 pkt