

Oddział Międzyuczelniany PTTK w Warszawie

Egzamin na Organizatora Turystyki - 16.12.2003 r.



Uwagi dla zdających:

Egzamin składa się z 20 pytań pogrupowanych w 6 działów.

Punktacja dla poszczególnych pytań została przedstawiona obok.

Zaliczenie egzaminu polega na uzyskaniu ze wszystkich działów, co najmniej po 61 punktów.

Uprzejmie prosimy o udzielanie odpowiedzi tylko w ramach wyznaczonych do tego celu miejsc i o pisanie w sposób czytelny.

*Życzymy powodzenia
Komisja Szkoleniowa*

Architektura		
1		50
2		20
3		30
razem		100
Historia turystyki i PTTK		
4		20
5		10
6		30
7		20
8		20
razem		100
Pierwsza pomoc		
9		16
10		36
11		48
razem		100
Etnografia i budownictwo drewniane		
12		35
13		30
14		35
razem		100
Przyroda i ochrona przyrody		
15		32
16		12
17		33
18		23
razem		100
Geografia turystyczna Polski		
19		44
20		56
razem		100

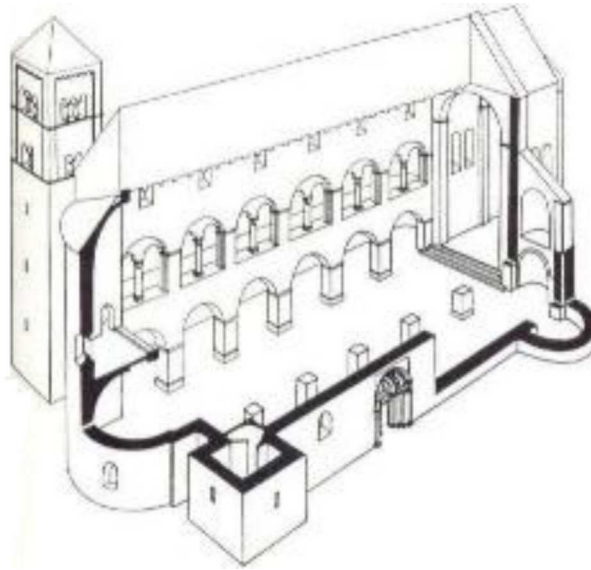
Architektura

Pytanie 1



Opisz w 100 słowach obiekt przedstawiony na rysunku.

Uwaga: sprawdzający będzie czytał odpowiedź tylko do setnego słowa.

Pytanie 2

Zidentyfikuj i nazwij 10 elementów budynku zaznaczając je także na rysunku.

1.		2.	
3.		4.	
5.		6.	
7.		8.	
9.		10.	

Pytanie 3

Wybierz trzy elementy budynku zidentyfikowane w odpowiedzi na poprzednie pytanie i dla każdego z nich podaj opis jego funkcji.

	nazwa	funkcja
1.		
2.		
3.		

Historia turystyki i PTTK

Pytanie 4

Zidentyfikuj odznaki turystyki kwalifikowanej i krajoznawcze przedstawione poniżej:

Pytanie 5

Jakie są dwie podstawowe różnice pomiędzy uprawnieniami przodowniczymi a przewodnickimi?

1.	
2.	

Pytanie 6

Wymień pełne nazwy sześciu kół należących do Oddziału Międzyuczelnianego PTTK w Warszawie.

Pytanie 7

Opisz krótko, czym dla polskiej turystyki zasłużyli się:

Tytus Chałubiński	
Oskar Kolberg	
Wincenty Pol	
Mieczysław Karłowicz	
Mariusz Zaruski	

Pytanie 8

Przypisz do dat w zamieszczonych w poniższej tabeli następujące wydarzenia:

1. otwarcie pierwszych przejść turystycznych na granicy polsko–słowackiej,
2. powstaje Górskiego Ochotniczego Pogotowia Ratunkowego,
3. powstaje Polskie Towarzystwo Turystyczno–Krajoznawcze (PTTK),
4. powstanie Tatrzańskiego i Pienińskiego Parku Narodowego,
5. Staszic pisze „O ziemioródtwie Karpatów i innych gór i równin Polski”,
6. w Warszawie powstaje Polskie Towarzystwo Krajoznawcze,
7. w Zakopanem powstaje (Galiczyjskie) Towarzystwo Tatrzańskie,
8. ustanowiono Górską Odznakę Turystyczną PTT,
9. z inicjatywy Hugona Zapałowicza Oddział Babiogórski TT buduje schronisko na Markowych Szczawinach pod Babią Górą,
10. z inicjatywy Mariusza Zaruskiego i Mieczysława Karłowicza powstało Tatrzańskie Ochotnicze Pogotowie Ratunkowe.

1815	1873	1906	1906	1909
1932	1935	1950	1952	1996

Pierwsza pomoc

Pytanie 9

Jakie informacje powinien zawierać meldunek o wypadku w górach?

--

Pytanie 10

Wymień 12 najbardziej niezbędnych Twoim zdaniem rzeczy, jakie powinny znaleźć się w apteczce 10-osobowej grupy wybierającej się na tygodniowy obóz sylwestrowy w Beskid Niski.

Pytanie 11

Wypełnij poniższą tabelę:

przypadłość	przeciwdziałanie	leczenie
otarcie skóry pleców		
nudności i bóle brzucha u $\frac{3}{4}$ członków grupy		
lekke odmrożenie stóp		
bąble na uszach (zimą)		

Etnografia i budownictwo drewniane

Pytanie 12

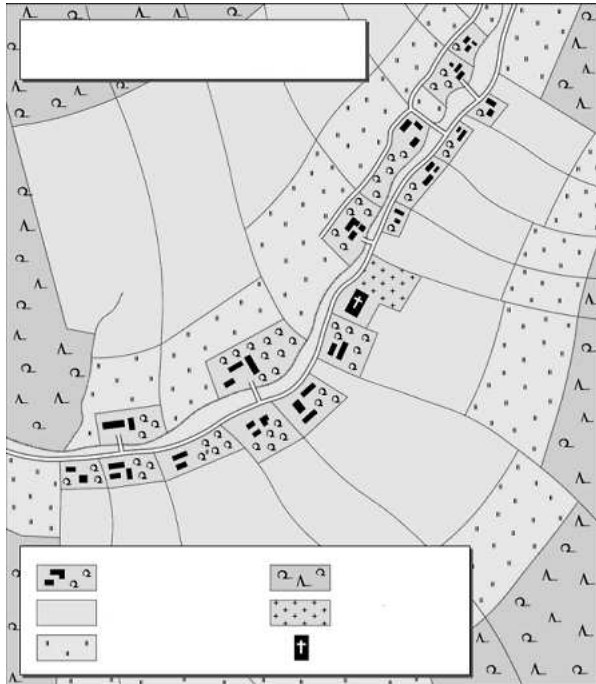


Opisz w 100 słowach obiekt przedstawiony na rysunku uwzględniając jego konstrukcję.

Uwaga: sprawdzający będzie czytał odpowiedź tylko do setnego słowa.

Pytanie 13

Opisz krótko przedstawiony poniżej układ wsi.

**Pytanie 14**

Scharakteryzuj dowolnie wybraną grupę etniczną III Rzeczypospolitej, uwzględniając m.in. język, wyznania, rejony zamieszkania (obecnie i w przeszłości), charakterystyczne cechy kultury, zabytki itp.*

Large empty box for the answer to Question 14.

* Zastanów się dokładnie chodzi o grupę etniczną.

Przyroda i ochrona przyrody

Pytanie 15

W jakich sytuacjach można legalnie przejść z grupą przez ścisły rezerwat przyrody:

Pytanie 16

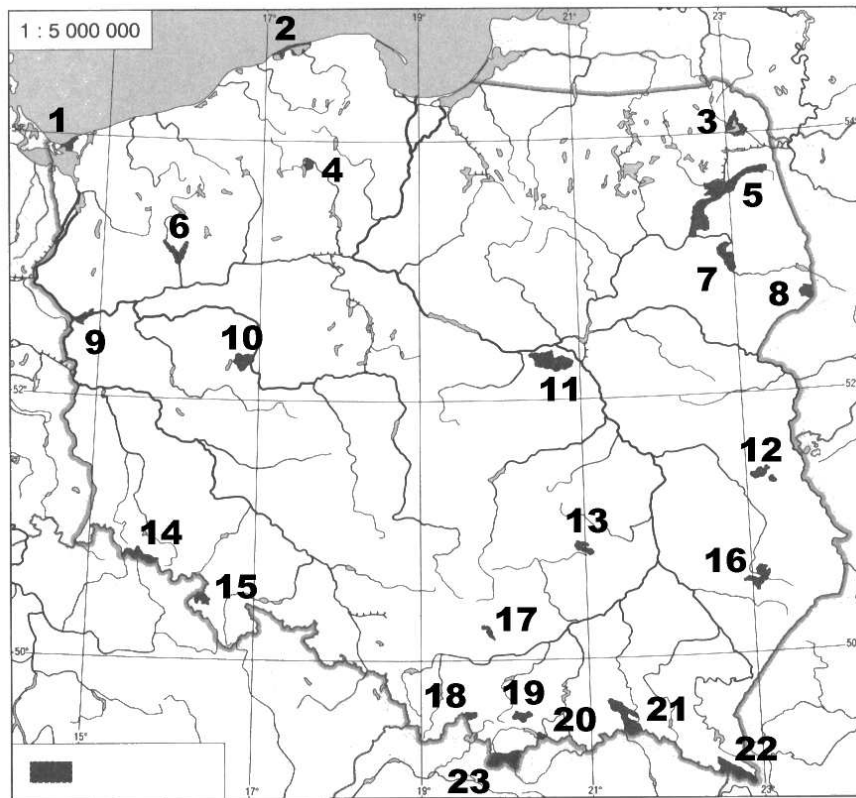
Wymień cztery rezerваты przyrody w najbliższych okolicach miasta Warszawa.

Pytanie 17

Opisz dowolny typ zbiorowiska leśnego występującego w Polsce wraz z wymienieniem charakterystycznych dla nich gatunków roślin.

--

Pytanie 18



Podaj nazwy zaznaczonych na mapie parków narodowych:

1.		2.	
3.		4.	
5.		6.	
7.		8.	
9.		10.	
11.		12.	
13.		14.	
15.		16.	
17.		18.	
19.		20.	
21.		22.	
23.			

Geografia turystyczna Polski

Pytanie 19

Zaznacz na poniższej mapie Polski położenie piętnastu wybranych z poniższej listy miejsc:



- | | |
|----------------------------|--------------------------|
| 1. Babia Góra (1725) | 2. Krzeszów |
| 3. Biecz | 4. Lesko |
| 5. Bogatynia | 6. Łowicz |
| 7. Ciechocinek | 8. Malbork |
| 9. Cieszyn | 10. Palmiry |
| 11. Drohiczyn | 12. Przemyśl |
| 13. Góra Ślęza | 14. Sandomierz |
| 15. Janowiec k. Kazimierza | 16. Stary Sącz |
| 17. Jezioro Solińskie | 18. Szczeliniec Wielki |
| 19. Jezioro Śniardwy | 20. Twierdza Wisłoujście |
| 21. Kalwaria Pałacowska | 22. ujście Pilicy |
| 23. Kłodzko | 24. Wadowice |

Pytanie 20

Uzupełnij podany poniżej schemat podziału Karpat polskich wg prof. Kondrackiego następującymi nazwami:

Beskid Makowski, Beskid Sądecki, Beskid Śląski, Beskid Wyspowy, Beskid Żywiecki, Bieszczady Zachodnie, Gorce, Małe Pieniny, Pieniny, Pogórze Dynowskie, Pogórze Strzyżowskie, Pogórze Śląskie, Tatry Wschodnie, Tatry Zachodnie,

Babia Góra (1725), Chełm (534), Lubomir (912), Mogielica (1170), Radziejowa (1262), Rysy (2499), Skrzyczne (1257), Starorobociański Wierch (2176), Sucha Góra (592), Tarnica (1346), Trzy Korony (982), Turbacz (1311), Wielki Dział (372), Wysoka (1050).

Karpaty**Karpaty Zachodnie****Zewnętrzne Karpaty Zachodnie****Pogórze Zachodniobeskidzkie**

	-	
--	---	--

Beskidy Zachodnie

	-	
	-	
	-	
	-	
	-	
	-	

Pogórze Środkowobeskidzkie

	-	
	-	

Centralne Karpaty Zachodnie**Obniżenie Orawsko-Podhalańskie**

--

Pieniny

	-	
--	---	--

	-	
--	---	--

Łańcuch Tatrzański

	-	
--	---	--

	-	
--	---	--

Karpaty Wschodnie**Beskidy Wschodnie****Beskidy Lesiste**

	-	
--	---	--