

# Oddział Międzyuczelniany PTTK w Warszawie

Egzamin na Organizatora Turystyki OM PTTK – 03.04.2007 r.

Egzamin składa się z:

- „wejściówki” (5 pytań),
- 37 pytań pogrupowanych w 10 działów.

Punktacja dla poszczególnych pytań została przedstawiona obok.

Zaliczenie egzaminu polega na uzyskaniu:

- z „wejściówki” co najmniej 81 punktów – w przypadku uzyskania mniejszej liczby punktów praca nie będzie dalej sprawdzana,
- z działów, po co najmniej po 61 punktów.

Uprzejmie prosimy o udzielanie odpowiedzi tylko w ramach wyznaczonych do tego celu miejsc i o pisanie w sposób czytelny.

*Życzymy powodzenia*

*Komisja Szkoleniowa*

wejściówka		
1		20
2		20
3		20
4		20
5		20
razem		100
architektura		
6		30
7		40
8		30
razem		100
PTTK jako organizacja		
9		37
10		36
11		15
12		12
razem		100
historia turystyki		
13		40
14		40
15		20
razem		100

pierwsza pomoc		
16		30
17		20
18		50
razem		100
geografia turystyczna Polski		
19		30
20		40
21		30
razem		100
budownictwo drewniane		
22		40
23		30
24		30
razem		100
etnografia		
25		27
26		12
27		21
28		20
29		20
razem		100
terenoznawstwo		
30		100
razem		100
przyroda i jej ochrona		
31		25
32		27
33		25
34		23
razem		100
zagadnienia prawne w turystyce		
35		25
36		25
37		50
razem		100

**„Wejściówka”****Pytanie 1**

Opisz prawa i obowiązki Organizatora Turystyki PTTK.

--

**Pytanie 2**

Podaj pełną nazwę i numer swojego koła oraz pełną nazwę Oddziału.

--

**Pytanie 3**

Wymień 4 odznaki PTTK, które można zweryfikować w Referacie Weryfikacyjnym Odznak Turystycznych przy Oddziale Międzyuczelnianym.

--

**Pytanie 4**

Określ kolejność, w jakiej powstawały następujące organizacje.

GTT	PTT	PTTK	TT

**Pytanie 5**

Wymień 5 numerów telefonów alarmowych i podaj z jaką służbą się połączysz.


## Architektura

### Pytanie 6





Opisz w co najwyżej 50 słowach obiekt przedstawiony na rysunku.

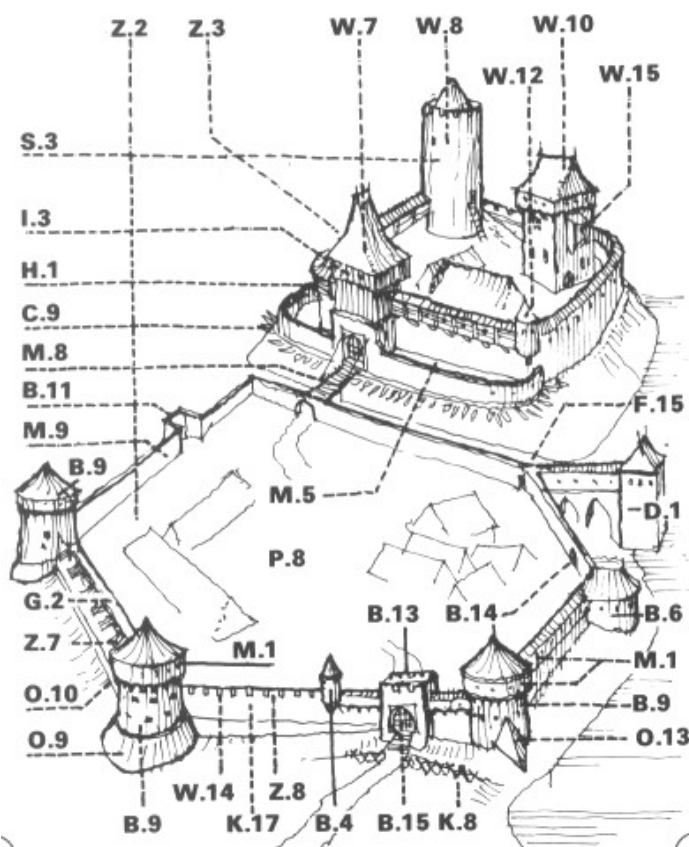
*Uwaga: sprawdzający będzie czytał odpowiedź tylko do pięćdziesiątego słowa.*

**Pytanie 7**

Określ styl przedstawionych poniżej obiektów, prawdopodobny czas ich budowy oraz opisz charakterystyczne cechy obiektów budowanych w Polsce w tym okresie. Podaj po jednym innym przykładzie znanych Ci obiektów budowanych w tych stylach.

			
styl:		styl:	
czas powstania:		czas powstania:	
opis cech charakt. stylu:		opis cech charakt. stylu:	
przykład:		przykład:	

**Pytanie 8**



Zidentyfikuj i nazwij 10 elementów zamku używając symboli z rysunku.


**PTTK jako organizacja**

**Pytanie 9**

a) Wymień 5 komisji ZG PTTK. (15 pkt)

b) Wymień 3 Władze Naczelne PTTK. (9 pkt)

c) Kto jest prezesem PTTK, a kto prezesem Oddziału Międzyuczelnianego PTTK? (8 pkt)

PTTK	OM PTTK

d) Kto (lub co) jest najwyższą władzą Oddziału Międzyuczelnianego? (5 pkt)

--

### Pytanie 10

a) Wyjaśnij znaczenia następujących skrótów. (15 pkt)

<b>COTG</b>	
<b>IKR</b>	
<b>PTG</b>	
<b>KTP ZG PTTK</b>	
<b>CFK</b>	

b) Rozwiń skróty następujących odznak. (21 pkt)

<b>GOT</b>	
<b>ŻOT</b>	
<b>GON</b>	
<b>ROK</b>	
<b>JOTG</b>	
<b>OSTA</b>	
<b>OTJ</b>	

### Pytanie 11

Wymień 5 odznak krajoznawczych PTTK (regionalnych lub ogólnopolskich).


## Pytanie 12



Podczas wycieczki po Pogórze Ciężkowieckim wchodzisz z Ujazdu na Liwocz i schodzisz tą samą trasą (żółtym szlakiem). Ile punktów GOT a ile OTP zdobędziesz podczas tej wycieczki?

<b>GOT</b>	
------------	--

<b>OTP</b>	
------------	--

## Historia turystyki

## Pytanie 13

Przyporządkuj odpowiednie wydarzenia do następujących osób:

1	Budowa schroniska na Markowych Szczawinach.
2	„O ziemiórództwie Karpatów i innych gór i równin Polski”
3	Wojna na pędzle
4	Wycieczka do Ogrodzieńca – narodziny idei krajoznawstwa
5	Wyznakowanie pierwszego szlaku turystycznego w Tatrach
6	Założenie AKT Lwów
7	Założenie Centralnej Biblioteki PTTK
8	Założenie COTG
9	Założenie TOPR
10	Założenie TT

Tytus Chałubiński	
Walery Eliaszkowski	
Aleksander Janowski	
Krzysztof Kulwiec	
Władysław Midowicz	
Edward Moskała	
Mieczysław Orłowicz	
Stanisław Staszic	
Hugo Zapałowicz	
Mariusz Zaruski	

**Pytanie 14**

Przyporządkuj odpowiednie daty następującym wydarzeniom:

1	Beata z Kościeleckich Łaska odbywa wycieczkę z Kieżmarku do Zielonego Stawu	1565	
2	Powstanie Beskidenverein	1874	
3	Powstanie GOPR	1893	
4	Ustanowienie GOT	1906	
5	Powstanie koła PTTK nr 1 przy Politechnice Warszawskiej	1907	
6	Wyznakowanie Orlej Perci	1909	
7	Pierwsza wycieczka PTK z Młocin do Starej Dąbrowy	1935	
8	Powstanie Oddziału Międzyuczelnianego w Warszawie	1952	
9	Powstanie pierwszego schroniska TT nad Morskim Okiem	1954	
10	Powstanie TOPR	1960	

**Pytanie 15**

Kiedy powstały PTK, TT, PTTK, AKT Lwów?

<b>PTK</b>	
<b>TT</b>	

<b>PTTK</b>	
<b>AKT Lwów</b>	

**Pierwsza pomoc****Pytanie 16**

Jakie informacje powinien zawierać meldunek o wypadku w górach?



**Pytanie 17**

Jakie znasz (poza zgłoszeniem telefonicznym) sposoby wzywania pomocy w górach? Wymień dwa i krótko wyjaśnij.


**Pytanie 18**

Postaw się w roli kierownika wyjazdu i wypełnij poniższą tabelkę określając sposoby zapobiegania i leczenia poszczególnych przypadłości u uczestników wyjazdu:

ból gardła u jednego z uczestników podczas letniego obozu	
otarcia i bąble na stopach	
użądlenie przez osę	
zaczerieniona skóra i bąble na ramionach po letniej wędrówce	
silny katar i łzawienie oczu u jednego z uczestników po noclegu na sianie	

## Geografia turystyczna Polski

### Pytanie 19

Przyporządkuj do obiektów z listy światowego dziedzictwa UNESCO miejscowości, w których one się znajdują.

były nazistowski obóz koncentracyjny	
drewniany kościół Małopolski Południowej	
drewniany kościół Małopolski Południowej	
Hala Ludowa (Hala Stulecia)	
kopalnia soli	
kościół pokoju	
Park Mużakowski	
zespół architektoniczny i park pielgrzymkowy	
renesansowa zabudowa miejska	
zamek krzyżacki	

1	Auchwitz-Birkenau
2	Haczów
3	Jawor
4	Kalwaria Zebrzydowska
5	Lipnica Murowana
6	Łęczycza
7	Malbork
8	Wieliczka
9	Wrocław
10	Zamość

### Pytanie 20

Na terenie jakiego województwa znajdują się następujące miejscowości:

Częstochowa	
Gorzów Wielkopolski	
Kartuzy	
Kłodzko	
Nowy Sącz	

Przemyśl	
Radom	
Sandomierz	
Suwałki	
Toruń	

## Pytanie 21

Zaznacz na poniższej mapie Polski położenie *dziesięciu* wybranych z poniższej listy miejsc:



1.	Bogatynia	6.	Gniezno	11.	Rzeszów
2.	Drohiczyn	7.	Lublin	12.	Szczecin
3.	Elbląg	8.	Ogrodzieniec	13.	Toruń
4.	Gdańsk	9.	Opole	14.	Wąchock
5.	Giżycko	10.	Pułtusk	15.	Żelazowa Wola

## Budownictwo drewniane

### Pytanie 22



Opisz w co najwyżej 50 słowach obiekt przedstawiony na rysunku uwzględniając jego konstrukcję.  
*Uwaga: sprawdzający będzie czytał odpowiedź tylko do pięćdziesiątego słowa.*

**Pytanie 23**

Wymień 5 rodzajów pozamieszkalnych drewnianych budynków wiejskich.

--

**Pytanie 24**

Wymień 3 typy konstrukcji ścian i 2 typy więźby dachowej.

--	--

**Etnografia****Pytanie 25**

Wymień oficjalne (ustawowe) mniejszości narodowe w Polsce.

--

**Pytanie 26**

Wymień oficjalne (ustawowe) mniejszości etniczne w Polsce.

--

**Pytanie 27**

Opisz w 50 słowach jedną z mniejszości narodowych zamieszkałych obecnie na terenie Polski

--

**Pytanie 28**

Podpisz przedstawione na poniższych zdjęciach obiekty związane z kultem religijnym mniejszości wyznaniowych w Polsce (podaj ich nazwę a nie nazwę miejscowości, w której się znajdują).



**Pytanie 29**

Wymień 2 Kościoły obrządku wschodniego i 2 Kościoły protestanckie (rozumiane jako organizacje).

--	--

**Terenoznawstwo****Pytanie 30**

Na mapie zamieszczonej obok zaznacz trasę całodniowej wycieczki letniej i zimowej do Puszczy Kampinoskiej zaczynającej się w Lipkowie i kończącej w Dziekanowie Leśnym, Dąbrowie Leśnej lub Wólce Węglowej oraz uzupełnij poniższą tabelę:

	wersja letnia	wersja zimowa
opis trasy		
atrakcje krajoznawcze		
atrakcje przyrodnicze		
długość trasy w km		
szacowany czas przejścia w h		
zagrożenia na trasie		

## Przyroda i jej ochrona

### Pytanie 31

Wymień 5 form ochrony przyrody.


### Pytanie 32

Opisz w 50 słowach zjawisko występowania w górach pięter roślinności na znanym Ci przykładzie.

--

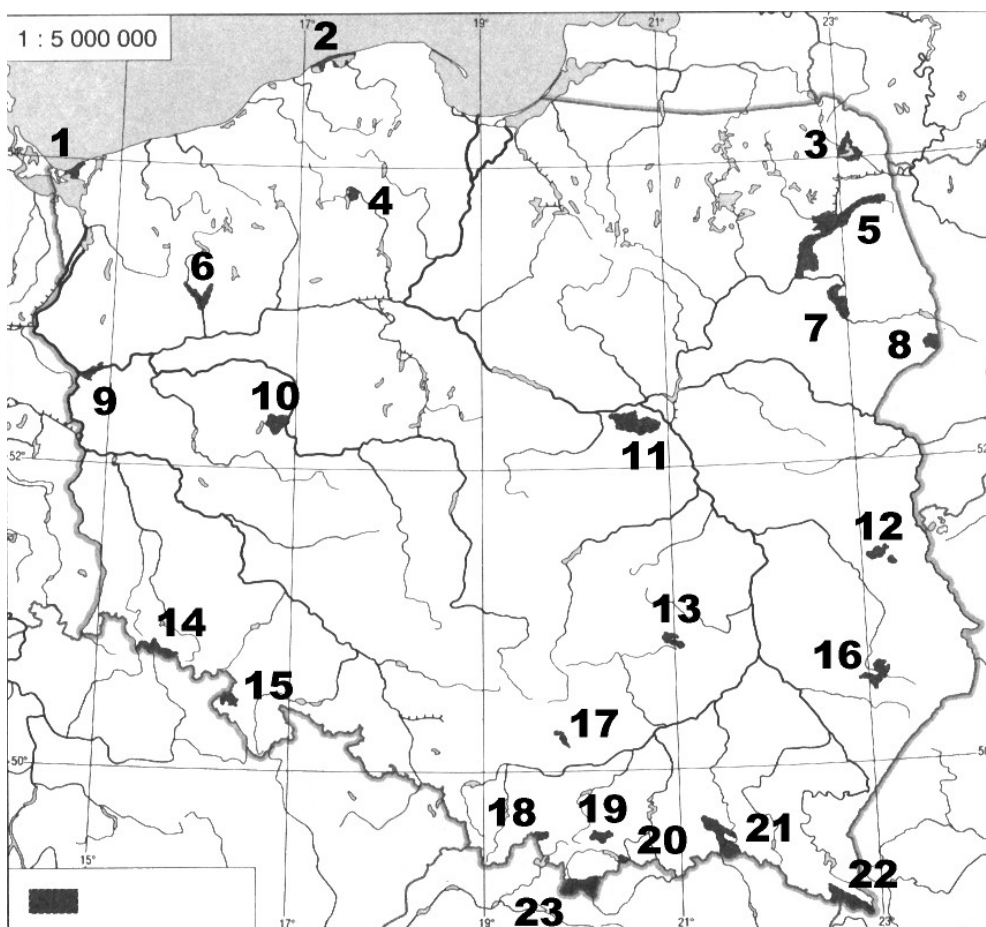
### Pytanie 33

Które z poniższych gatunków są objęte ochroną ścisłą?

cis pospolity	
dąb szypułkowy	
jodła pospolita	
klon jawor	
sosna limba	



Pytanie 34



Podaj nazwy zaznaczonych na mapie parków narodowych:

1.		13.	
2.		14.	
3.		15.	
4.		16.	
5.		17.	
6.		18.	
7.		19.	
8.		20.	
9.		21.	
10.		22.	
11.		23.	
12.			

## Zagadnienia prawne w turystyce

### Pytanie 35

Jakie informacje powinno zawierać zgłoszenie imprezy organizowanej w Oddziale Międzyuczelnianym? Wymień 5.

### Pytanie 36

Na których z wymienionych imprez organizowanych przez OM obowiązuje ubezpieczenie NNW?

- a) wycieczka autokarowa po Górach Świętokrzyskich,
- b) impreza sylwestrowa w Czechach,
- c) spływ kajakowy Rosupdą,
- d) wycieczka narciarska w Gorce,
- e) wycieczka rowerowa po Kaszubach.

### Pytanie 37

Jesteś kierownikiem 12-osobowego obozu letniego. Opisz krótko jak zachowasz się w przypadku jeśli:

1. Kierownik pociągu, którym jedziesz chce zarekwirować legitymację studencką uczestnika Twojego obozu twierdząc, że jest podrobiona.

2. Jesteś na terenie Parku Narodowego Gór Stołowych i umundurowany Strażnik Parku żąda od Ciebie okazania legitymacji przewodnika górskiego.