


Oddział Międzyuczelniany PTTK w Warszawie

Egzamin na Przewodnika Turystyki Kolarskiej PTTK – 11.05.2008 r.



Egzamin składa się z 18 pytań pogrupowanych w 4 działy. Punkcja dla poszczególnych pytań została przedstawiona obok.

Zaliczenie działu polega na uzyskaniu co najmniej 61 punktów.

Warunkiem dopuszczenia do egzaminu teoretycznego jest posiadanie uprawnień Organizatora Turystyki.

Warunkiem dopuszczenia do egzaminu praktycznego jest zaliczenie wszystkich działów egzaminu pisemnego.

Czas trwania egzaminu to 75 minut.

Życzymy powodzenia

Komisja Turystyki Kolarskiej OM

Przepisy o ruchu drogowym		
1		34
2		15
3		15
4		20
5		16
razem		100

Wiedza o turystyce kolarskiej		
6		20
7		24
8		32
9		24
razem		100

Sprzęt i ekwipunek kolarski		
10		16
11		16
12		16
13		14
14		26
15		12
razem		100

Metodyka i bezpieczeństwo wycieczek kolarskich		
16		20
17		40
18		40
razem		100

Przepisy o ruchu drogowym

Pytanie 1 [34 pkt.]






a) Odpowiedz na pytania dotyczące pierwszeństwa przejazdu przez skrzyżowanie [28 pkt.]

	<p>1. Który pojazd musisz przepuścić skracając rowerem w lewo:</p> <ol style="list-style-type: none"> samochód A samochód B samochody A i B żaden
	<p>2. Który pojazd przejedzie pierwszy:</p> <ol style="list-style-type: none"> samochód A samochód B samochód C rower
	<p>3. W jakiej kolejności przejadą pojazdy:</p> <ol style="list-style-type: none"> samochód A, samochód B, rower samochód B, samochód A, rower rower, samochody A, samochód B (mimo braku kolizji kierunków B upewni się, że nie wymusi pierwszeństwa na A) rower, samochód A (samochód B nie ma prawa przejechać przez skrzyżowanie i musi czekać na nadejście kierującego ruchem)
	<p>4. W jakiej kolejności przejadą pojazdy:</p> <ol style="list-style-type: none"> samochód A, tramwaj T, rower tramwaj T, rower, samochód A rower, tramwaj T, samochód A tramwaj T, samochód A, rower

b) Jak zmieniłoby się pierwszeństwo gdyby na czwartym rysunku wyłączono sygnalizację świetlną [6 pkt.]






Pytanie 2 [15 pkt.]

Zaznacz znaki, które dają pierwszeństwo rowerzyście przed pieszym na drodze przy której są ustawione.

				
A	B	C	D	E

Pytanie 3 [15 pkt.]

Zaznacz znaki, które zabraniają rowerzyście wjazdu na drogę, przy której są ustawione.

				
A	B	C	D	E

Pytanie 4 [20 pkt.] test jednokrotnego wyboru

Zaznacz prawidłową odpowiedź:

- Minimalna odległość między dwoma kolumnami rowerów poruszających się po drodze publicznej to:
 - 50 m
 - 100 m
 - 200 m
 - 250 m
- Ile maksymalnie rowerów może poruszać się w kolumnie jadącej drogą publiczną:
 - 10
 - 15
 - 20
 - 25
- Ścieżka rowerowa równoległa do drogi jest na całej długości pokryta połtuczonym szkłem. Jak zgodnie z prawem może zachować się rowerzysta, który chce poruszać się w kierunku biegu ścieżki:
 - może jechać ścieżką rowerową lub drogą o ile dopuszczalna prędkość na drodze jest większa niż 50 km/h
 - może jechać ścieżką rowerową lub drogą o ile będzie poruszał się jej prawym pasem
 - może jechać ścieżką rowerową lub zejść z roweru i prowadzić rower chodnikiem
 - musi jechać drogą lub zejść z roweru i prowadzić rower chodnikiem, gdyż jazda ścieżką rowerową byłaby niebezpieczna
- Jazda rowerem po drodze publicznej w kasku:
 - jest w Polsce obowiązkowa
 - jest w Polsce obowiązkowa dla osób niepełnoletnich
 - jest w Polsce obowiązkowa na drogach o maksymalnej dopuszczalnej prędkości większej niż 50 km/h
 - nie jest w Polsce obowiązkowa

Pytanie 5 [16 pkt.]

Jak powinien zachować się kierujący pojazdem w stosunku do pojazdu uprzywilejowanego (4 zachowania)?

Wiedza o turystyce kolarskiej

Pytanie 6 [20 pkt.]

Wymień stopnie Kolarskiej Odznaki Turystycznej. Jaka zmiana (w kontekście stopni KOT) pojawiła się w nowym regulaminie KOT, obowiązującym od 1.01.2008?

--

Pytanie 7 [24 pkt.]

Wymień 3 odznaki kolarskie inne niż KOT. Które z nich można weryfikować w Terenowym Referacie Weryfikacyjnym, np. przy OM PTTK?

Nazwa odznaki	Można weryfikować w TRW?
	TAK / NIE
	TAK / NIE
	TAK / NIE

Pytanie 8 [32 pkt.]

a) Podaj ogólną zasadę punktacji (punktacja podstawowa) wycieczek w Kolarskiej Odznace Turystycznej (jakie cechy powinny spełniać wycieczki na KOT, jak są punktowane) [20 pkt]

--

b) Wymień 2 przypadki, w których ubiegający się o odznakę może otrzymać dodatkowe punkty KOT, ponad te, które otrzyma na skutek podstawowego punktowania wycieczek [12 pkt]

--	--

Pytanie 9 [24 pkt.] test jednokrotnego wyboru

Zaznacz prawidłową odpowiedź:

- Członkiem Warszawskiego Towarzystwa Cyklistów był:
 - Bolesław Prus
 - Juliusz Słowacki
 - Adam Mickiewicz
 - Stanisław Staszic
- Warszawskie Towarzystwo Cyklistów powstało w:
 - 1765 r.
 - 1811 r.
 - 1886 r.
 - 1909 r.
- Pierwszym przewodniczącym KTKol. ZG PTTK był:
 - Henryk Ginter
 - Jerzy Goszczyński
 - Feliks Gołębiowski
 - Edward Moskała

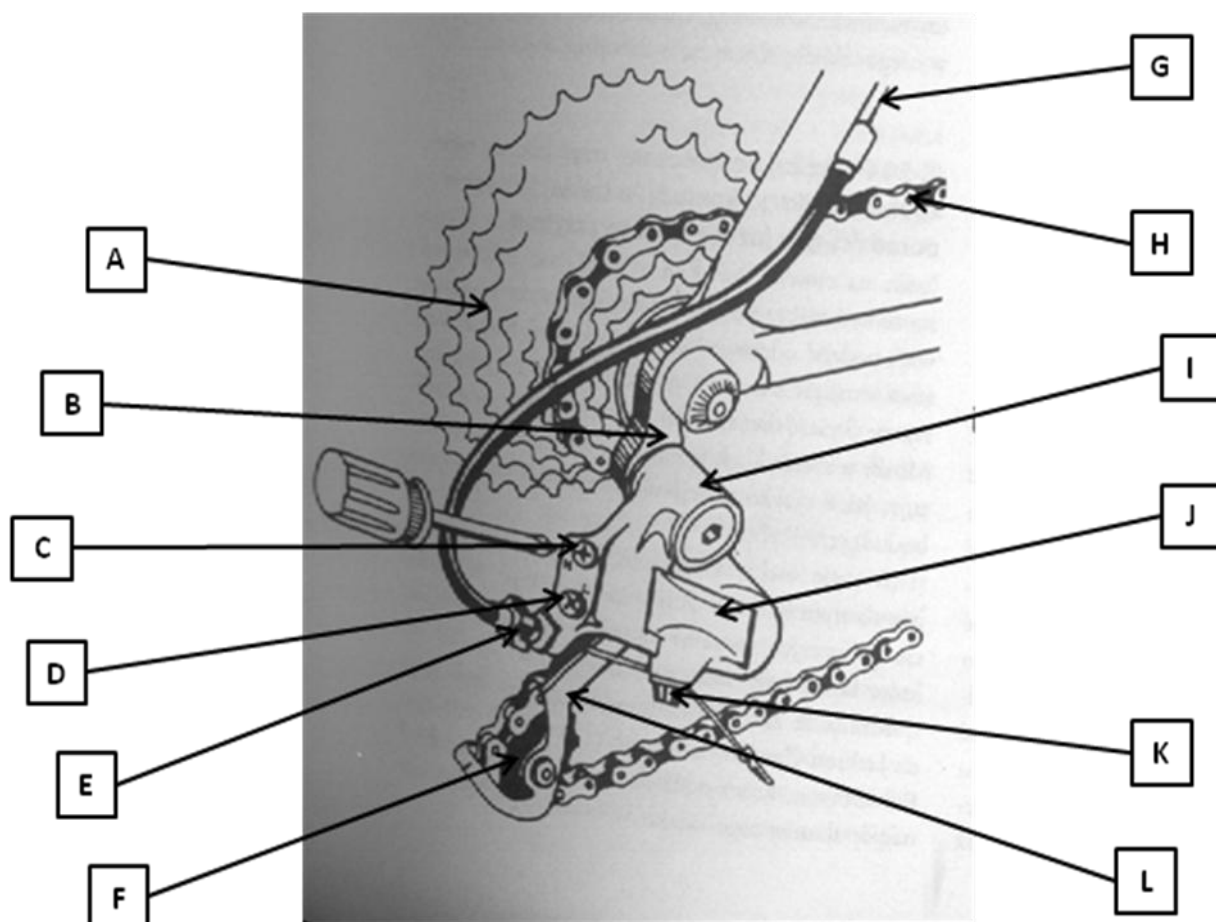
Sprzęt i ekwipunek kolarski

Pytanie 10 [16 pkt.]

Wymień 3 miejsca w rowerze, w których znajdują się łożyska.

--	--	--

Pytanie 11 [16 pkt.]



Podpisz 8 elementów układu ruchu roweru przedstawionych na powyższym rysunku.

Litera	Element	Litera	Element

Pytanie 12 [16 pkt.]

Wymień 8 elementów ekwipunku (narzędzi, części zamiennych, ubioru), które w pierwszej kolejności zabrałbyś na 5-dniową wycieczkę kolarską po Roztoczu.

Pytanie 13 [14 pkt.]

Które z narzędzi / części użyłbyś do wymiany przebitej dętki w przednim kole na piaście z samozamykaczem. Krótko uzasadnij odpowiedź.

Część / narzędzie	Użyjesz?	Uzasadnienie
pompka		
fabrycznie nowa dętka		
klucz szwedzki (rozsuwany)		
klucz imbusowy 4mm		
talk		
smar		
spray WD-40		

Pytanie 14 [26 pkt.]

Opisz w punktach czynności, które wykonasz, aby zmienić dętkę na nową w przypadku gdy złapałeś gumę. Twój rower wyposażony jest w hamulce typu V (v-brake). Posiadasz nową, sprawną dętkę, ale nie posiadasz łatek (zestawu naprawczego).

--

Pytanie 15 [12 pkt.]

Wymień 3 potencjalne przyczyny nieprawidłowego funkcjonowania hamulców w rowerze.

--	--	--

Metodyka i bezpieczeństwo wycieczek kolarskich

Pytanie 16 [20 pkt.]

Opisz w punktach kolejność postępowania w przypadku przewrócenia się uczestnika wycieczki rowerowej na drodze publicznej.

--

Pytanie 17 [40 pkt.]

Wymień 8 elementów, które powinny wchodzić w skład apteczki na 5-dniową wycieczkę kolarską po Roztoczu, podczas której trasy będą zarówno drogami publicznymi jak i ścieżkami.

Pytanie 18 [40 pkt.]

Drogą publiczną o maksymalnej dopuszczalnej prędkości 60 km/h (bez pobocza i drogi rowerowej) porusza się 14-osobowa wycieczka (12 uczestników w wieku 13-17 lat, 2 opiekunów – Przodowników Turystyki Kolarskiej).

a) Opisz krótko w jakiej konfiguracji powinna poruszać się wycieczka. [20 pkt.]

--

b) Wycieczka dociera do skrzyżowania ze światłami drogowymi, na którym zamierza skręcić w lewo. Na skutek niezdecydowania Jasia, najmłodszego i najmniej doświadczonego spośród uczestników jadącego mniej więcej w środku stawki, wycieczce nie udaje się w całości zjechać ze skrzyżowania. Jak powinni zachować się opiekunowie wycieczki? [20 pkt.]

--