


Oddział Międzyuczelniany PTTK w Warszawie

Egzamin na Organizatora Turystyki - 30.10.2002 r.



Uwagi dla zdających:

Egzamin składa się z 16 pytań pogrupowanych w 6 działów.

Punktacja dla poszczególnych pytań została przedstawiona obok.

Zaliczenie egzaminu polega na uzyskaniu ze wszystkich działów, co najmniej po 61 punktów.

Uprzejmie prosimy o udzielanie odpowiedzi tylko w ramach wyznaczonych do tego celu miejsc i o pisanie w sposób czytelny.

Architektura		
1		50
2		20
3		30
razem		100
Historia turystyki i PTTK		
4		50
5		50
razem		100
Pierwsza pomoc		
6		100
razem		100
Etnografia i budownictwo drewniane		
7		50
8		50
razem		100
Przyroda i ochrona przyrody		
9		30
10		24
11		46
razem		100
Geografia turystyczna Polski		
12		60
13		40
razem		100

Architektura

Pytanie 1

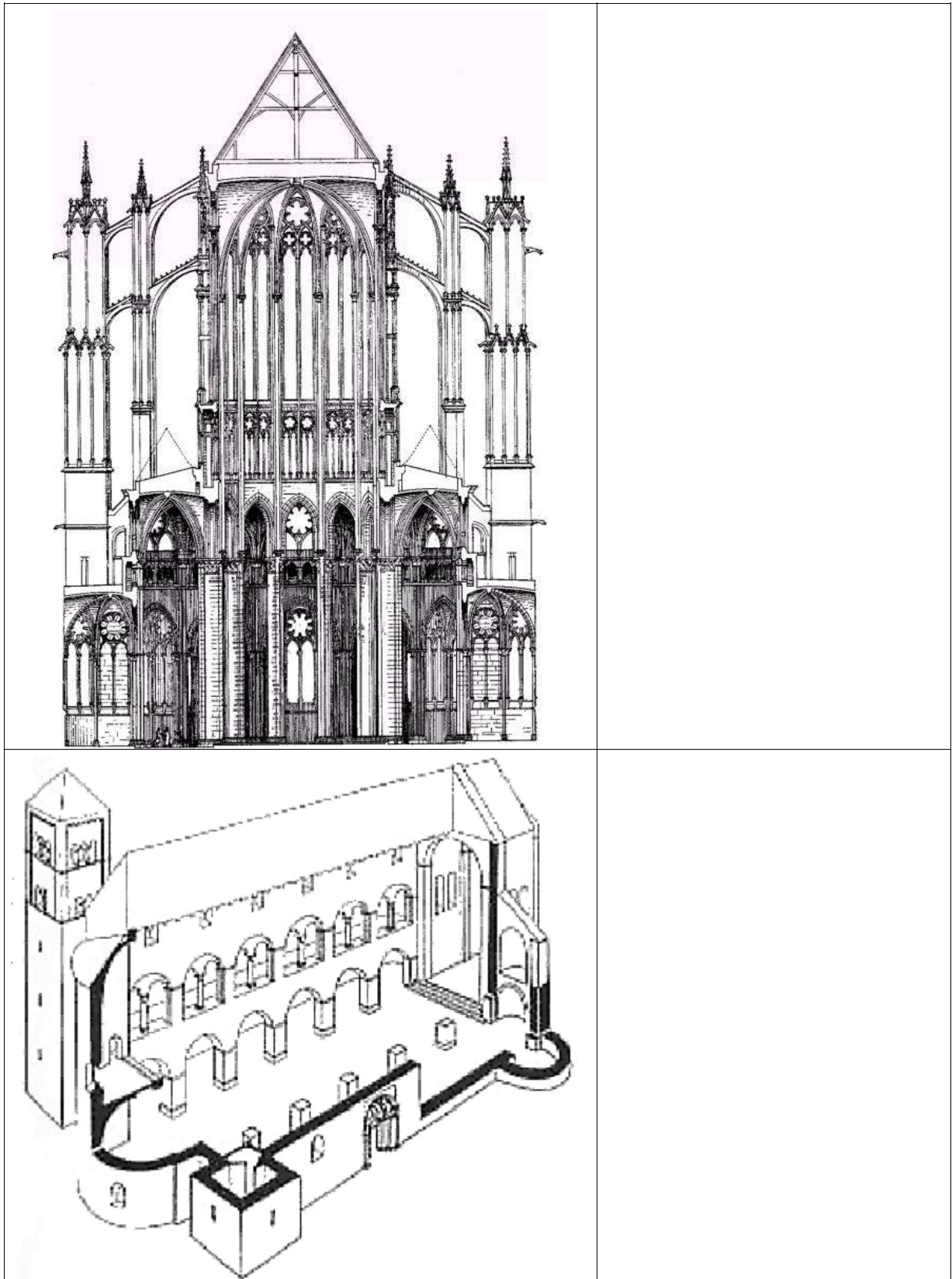


Opisz w 100 słowach obiekt przedstawiony na rysunku.

Uwaga: sprawdzający będzie czytał odpowiedź tylko do setnego słowa.

Pytanie 2

W jakim stylu zbudowane są obiekty przedstawione na poniższych rysunkach? Uzasadnij odpowiedź oraz nazwij po pięć detali architektonicznych dla każdego z rysunków.



Pytanie 3

Wyjaśnij krótko znaczenie dziesięciu z podanych poniżej pojęć.

attyka	
biforium	
boniowanie	
empora	
fresk	
pilaster	
polichromia	
portal	
pruski mur	
sygnaturka	
transept	
tympanon	
hurdyca	
barbakan	

Historia turystyki i PTTK

Pytanie 4

Wyjaśnij znaczenie następujących skrótów związanych z PTTK i naszym Oddziałem.

AKT	
CFK PTTK	
GON	
GOT	
KOT	
KTG ZG PTTK	
COTG PTTK	
OKP	
OM PTTK w Warszawie	
OTP	
SKG	
SKP „Czwórka”	
SKPB	
TOK	
TRW GOT	

Pytanie 5

Opisz krótko, czym dla polskiej turystyki zasłużyli się:

Tytus Chałubiński	
Stanisław Staszic	
Mariusz Zaruski	
Mieczysław Karłowicz	
Mieczysław Orłowicz	

Pierwsza pomoc

Pytanie 6

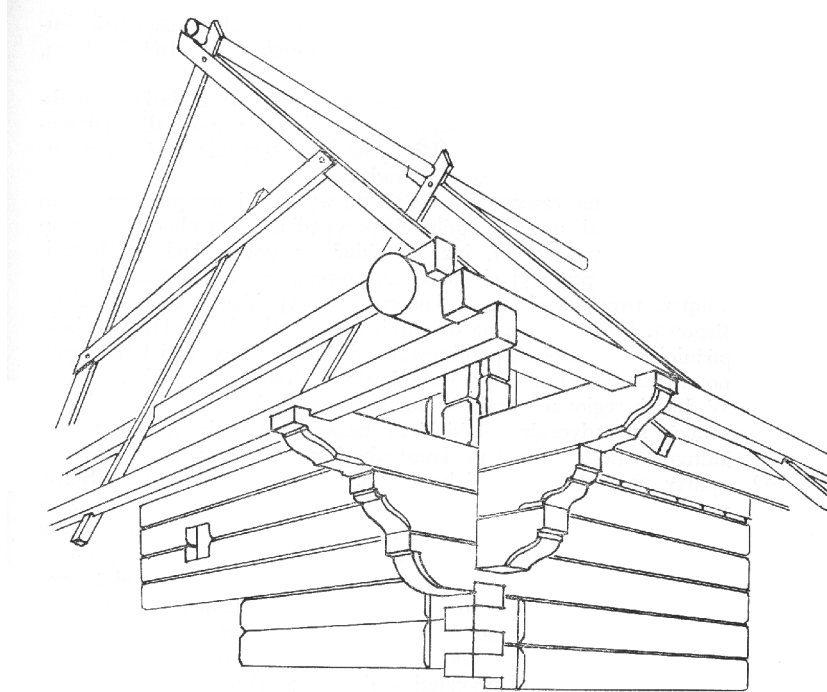
Opisz szczegółowo jak zachowasz się, gdy u jednego z uczestników wycieczki w góry wystąpią na szlaku następujące objawy:

bąble na stopach	
lekki ból brzucha i rozwolnienie	
silny ból brzucha i wymioty	
bardzo silny ból w kostce połączony z opuchnięciem	
dosyć głębokie skaleczenie kciuka	
osłabnięcie, zawroty głowy, nudności (latem)	
osłabnięcie, zawroty głowy, nudności (zimą)	

Etnografia i budownictwo drewniane

Pytanie 7

Opisz przedstawioną na poniższym rysunku konstrukcję identyfikując jej elementy.



Empty rectangular box for the answer.

Pytanie 8

Wybierz dziesięć z wymienionych poniżej nazw i podaj ich krótką definicję:

belka tęczowa, budynek dwutraktowy, dach brogowy, izbica, jętka, kiczka, kluczyna, lisice, nawa, płatew, rysie, soboty, sumik, ślęg, śparogi, zaskrzynienia.

Przyroda i ochrona przyrody

Pytanie 9

Wyjaśnij krótko znaczenie podanych poniżej pojęć.

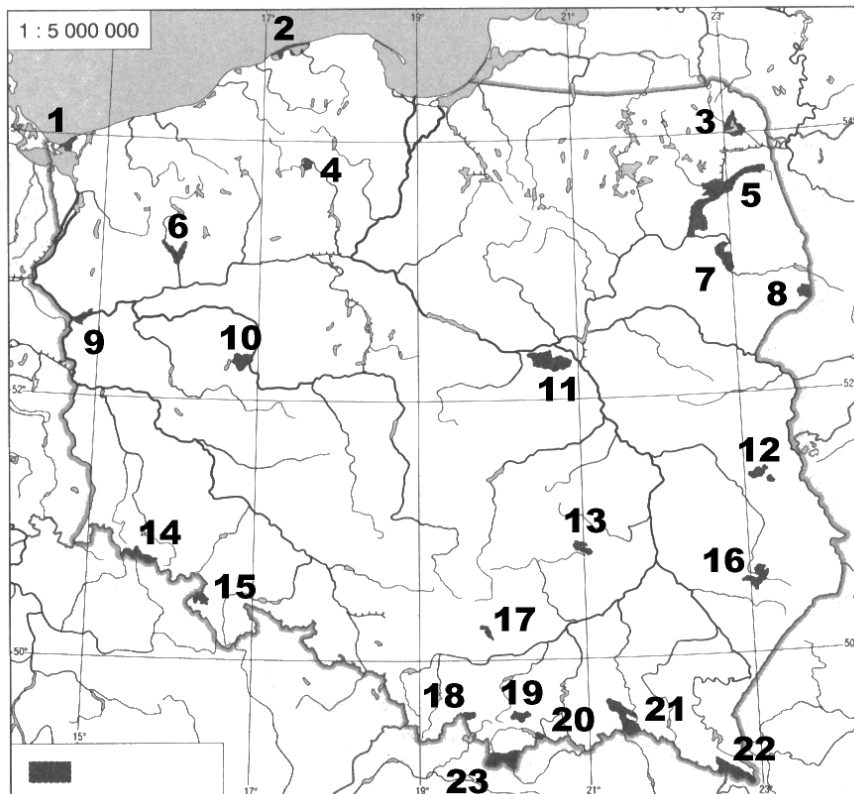
park narodowy	
park krajobrazowy	
rezerwat ścisły	
ochrona częściowa	
otulina	
pomnik przyrody	
las łęgowy	
endemit	
relikt	
korytarz ekologiczny	

Pytanie 10

Opisz podstawowe różnice w sposobie ochrony przyrody w parku narodowym, a w parku krajobrazowym.

--

Pytanie 11



Podaj nazwy zaznaczonych na mapie parków narodowych:

1.		2.	
3.		4.	
5.		6.	
7.		8.	
9.		10.	
11.		12.	
13.		14.	
15.		16.	
17.		18.	
19.		20.	
21.		22.	
23.			

Geografia turystyczna Polski

Pytanie 12

Zaznacz na poniższej mapie Polski położenie dwudziestu wybranych z poniższej listy miejsc:



- | | |
|--------------------------|----------------------------------|
| 1. Bogatynia | 2. Węgorzewo |
| 3. Jez. Solińskie | 4. Jezioro Łebsko |
| 5. Jez. Śniardwy | 6. Tarnów |
| 7. Łysica (612 m n.p.m.) | 8. Śnieżnik (1425 m n.p.m.) |
| 9. Sulejów | 10. Hel |
| 11. Pułtusk | 12. Kórnik |
| 13. Toruń | 14. Kanał Bydgoski |
| 15. Uznam | 16. Las Kabacki |
| 17. ujście Pilicy | 18. Kłodzko |
| 19. Przemyśl | 20. Barania Góra (1220 m n.p.m.) |
| 21. Sandomierz | 22. Karpacz |
| 23. Żywiec | 24. Żuławy Wiślane |

Pytanie 13

Wybierz dziesięć z poniższych szczytów i określ, w jakich górach (grupach górskich) leżą.

Babia Góra (1725)	
Czupel (933)	
Kremenaros (1221)	
Kudłoń (1276)	
Mogielica (1170)	
Radziejowa (1262)	
Runek (1080)	
Skrzyczne (1257)	
Szczeliniec Wielki (919)	
Szrenica (1362)	
Śnieżka (1603)	
Śnieżnik (1426)	
Tarnica (1346)	
Turbacz (1311)	
Wysoka (1050)	