

Oddział Międzyuczelniany PTTK w Warszawie

Egzamin na Organizatora Turystyki OM PTTK – 29.05.2007 r.

Egzamin składa się z:

- „wejściówki” (5 pytań),
- 37 pytań pogrupowanych w 10 działów.

Punktacja dla poszczególnych pytań została przedstawiona obok.

Zaliczenie egzaminu polega na uzyskaniu:

- z „wejściówki” co najmniej 81 punktów – w przypadku uzyskania mniejszej liczby punktów praca nie będzie dalej sprawdzana,
- z działów, po co najmniej po 61 punktów.

Uprzejmie prosimy o udzielanie odpowiedzi tylko w ramach wyznaczonych do tego celu miejsc i o pisanie w sposób czytelny.

Życzymy powodzenia

Komisja Szkoleniowa

wejściówka		
1		20
2		20
3		20
4		20
5		20
razem		100
architektura		
6		30
7		40
8		30
razem		100
PTTK jako organizacja		
9		29
10		24
11		36
12		11
razem		100
historia turystyki		
13		30
14		30
15		40
razem		100

pierwsza pomoc		
16		30
17		20
18		50
razem		100
geografia turystyczna Polski		
19		40
20		30
21		30
razem		100
budownictwo drewniane		
22		40
23		30
24		30
razem		100
etnografia		
25		36
26		16
27		28
28		20
razem		100
terenoznawstwo		
29		80
30		20
razem		100
przyroda i jej ochrona		
31		25
32		32
33		20
34		23
razem		100
zagadnienia prawne w turystyce		
35		25
36		25
37		50
razem		100

„Wejściówka”**Pytanie 1**

Opisz prawa i obowiązki Organizatora Turystyki PTTK.

--

Pytanie 2

Podaj pełną nazwę i numer swojego koła oraz pełną nazwę Oddziału.

--	--

Pytanie 3

Wymień 4 odznaki PTTK, które można zweryfikować w Referacie Weryfikacyjnym Odznak Turystycznych przy Oddziale Międzyuczelnianym.

Pytanie 4

Rozwiń następujące skróty:

PTK	
PTTK	

TOPR	
TT	

Pytanie 5

Wymień 5 numerów telefonów alarmowych i podaj z jaką służbą się połączysz.

Architektura

Pytanie 6





Opisz w co najwyżej 50 słowach obiekt przedstawiony na rysunku.

Uwaga: sprawdzający będzie czytał odpowiedź tylko do pięćdziesiątego słowa.

Pytanie 7

Określ styl przedstawionych poniżej obiektów, prawdopodobny czas ich budowy oraz opisz charakterystyczne cechy obiektów budowanych w Polsce w tym okresie. Podaj po jednym innym przykładzie znanych Ci obiektów budowanych w tych stylach.

	
styl:	styl:
czas powstania:	czas powstania:
opis cech charakt. stylu:	opis cech charakt. stylu:
przykład:	przykład:

Pytanie 8

Wyjaśnij *pięć* pojęć wybranych z poniższej listy:

apsyda, blanki, barbakan, biforium, empora, maswerk, pilaster, rozeta, sgraffito, transept

PTTK jako organizacja**Pytanie 9**

a) Wymień 5 komisji Oddziału Międzyuczelnianego PTTK. (15 pkt)

--

b) Wymień 3 Władze Oddziału Międzyuczelnianego PTTK. (9 pkt)

--

c) Kto (lub co) jest najwyższą władzą PTTK? (5 pkt)

--

Pytanie 10

Wyjaśnij znaczenia następujących skrótów.

AKT	
COTG	
IO_nZ	
IOP	
KOP OM PTTK	
PTP	
PTŻ	
ZG PTTK	

Pytanie 11

Rozwiń skróty następujących odznak.

JOTN	
KOT	
MOT	
NON	
OFK	
OInO	
OKP	
OSTA	
OTJ	
OTP	
TOK	
WOK	

Pytanie 12



Podczas wycieczki po Pogórze Rożnowskim idziesz z Pleśnej spod Urzędu Gminy na Słoną Górę i schodzisz tą samą trasą (żółtym szlakiem). Ile punktów GOT a ile OTP zdobędziesz podczas tej wycieczki?

GOT	
------------	--

OTP	
------------	--

Historia turystyki

Pytanie 13

Przyporządkuj odpowiednie wydarzenia do następujących osób:

1	„Lud. Jego zwyczaje, sposób życia, mowa, podania, przysłowia, obrzędy, gusła, zabawy, pieśni, muzyka i tańce.”	Tytus Chałubiński	
2	„O ziemiorództwie Karpatów i innych gór i równin Polski”	ks. Walery Gadowski	
3	Pierwszy prezes PTK	Zygmunt Gloger	
4	„Pieśń o ziemi naszej”	Aleksander Janowski	
5	Wycieczka do Ogrodzieńca – narodziny idei krajoznawstwa	Oskar Kolberg	
6	Wyznakowanie „Orlej Perci”	Edward Moskała	
7	Wyznakowanie pierwszego szlaku turystycznego w Tatrach	Wincenty Pol	
8	Założenie COTG	Walery Eliaż Radzikowski	
9	Założenie TOPR	Stanisław Staszic	
10	Założenie TT	Mariusz Zaruski	

Pytanie 14

Kiedy powstały PTK, TT, PTTK?

PTK	
TT	
PTTK	

Pytanie 15

Przyporządkuj odpowiednie daty następującym wydarzeniom:

1	Beata z Kościeleckich Łaska odbywa wycieczkę z Kieżmarku do Zielonego Stawu	1565	
2	Budowa schroniska na Markowych Szczawinach	1677	
3	Michał Kazimierz Radziwiłł konno zdobywa Śnieżkę	1874	
4	Pierwsza wycieczka PTK z Młocin do Starej Dąbrowy	1906	
5	Powstanie AKT Lwów	1906	
6	Powstanie koła PTTK nr 1 przy Politechnice Warszawskiej	1907	
7	Powstanie Oddziału Międzyuczelnianego w Warszawie	1909	
8	Powstanie pierwszego schroniska TT nad Morskim Okiem	1935	
9	Powstanie TOPR	1954	
10	Ustanowienie GOT	1960	

Pierwsza pomoc**Pytanie 16**

Jakie informacje powinien zawierać meldunek o wypadku w górach?

Pytanie 17

Wymień 10 składników apteczki, które zabierzesz na jednodniową letnią wycieczkę dziesięciosobowej grupy do Puszczy Kampinoskiej.

Pytanie 18

Postaw się w roli kierownika wyjazdu i wypełnij poniższą tabelkę określając sposoby zapobiegania i leczenia poszczególnych przypadłości u uczestników wyjazdu:

ból brzucha, nudności i wymioty u jednego z uczestników namiotowego obozu wędrownego		
ból i zawroty głowy, nudności u jednego z uczestników po letniej wycieczce w słoneczny dzień		
silny krwotok z nosa		
zadrapania i skaleczenia na łydkach po wędrowce przez jeżyny		
zaczerwienione, bolące i piekące uszy po zimowej wędrowce		

Geografia turystyczna Polski

Pytanie 19

Przyporządkuj do obiektów z Kanonu Krajoznawczego Polski miejscowości, w których one się znajdują.

drewniany meczet	
Dwór Artusa	
Jezioro Maltańskie	
kościół Wang	
Muzeum Czynu Powstańczego	
muzeum Jana Kochanowskiego	
Park Mużakowski	
renesansowa kamienica Orsettich	
rezerwat archeologiczny	
romańska rotunda św. Mikołaja	
skansen taboru kolejowego	
stadnina koni	
ul. Piotrkowska	
Wilczy Szaniec	
Zamek Krzyżtopór	
Zamek Książąt Pomorskich	

1	Biskupin
2	Chabówka
3	Cieszyn
4	Czarnolas
5	Gdańsk
6	Gierłoż k. Kętrzyna
7	Góra św. Anny
8	Janów Podlaski
9	Jarosław
10	Karpacz
11	Kruszyniany
12	Łęknica
13	Łódź
14	Poznań
15	Szczecin
16	Ujazd

Pytanie 20

Przyporządkuj do szczytów z Korony Gór Polski pasma, w których one się znajdują:

Babia Góra (1725 m)	
Biskupia Kopa (889 m)	
Czupel (934 m)	
Jagodna (977 m)	
Łysica (612 m)	
Mogielica (1170 m)	

Beskid Mały	1
Beskid Sądecki	2
Beskid Wyspowy	3
Beskid Żywiecki	4
Bieszczady	5
Góry Bystrzyckie	6

Radziejowa (1262 m)	
Rysy (2499 m)	
Skopiec (724 m)	
Szczeliniec Wielki (919 m)	
Śnieżka (1602 m)	
Tarnica (1346 m)	

Góry Kaczawskie	7
Góry Opawskie	8
Góry Stołowe	9
Góry Świętokrzyskie	10
Karkonosze	11
Tatry	12

Pytanie 21

Zaznacz na poniższej mapie Polski położenie *dwunastu* wybranych z poniższej listy miejsc:



1.	Augustów	5.	Giżycko	9.	Kielce	13.	Opole
2.	Białystok	6.	Gniezno	10.	Kłodzko	14.	Radom
3.	Bielsko-Biała	7.	Hel	11.	Kołobrzeg	15.	Sandomierz
4.	Bydgoszcz	8.	Kartuzy	12.	Malbork	16.	Zamość

Budownictwo drewniane

Pytanie 22



Opisz w co najwyżej 50 słowach obiekt przedstawiony na rysunku uwzględniając jego konstrukcję.
Uwaga: sprawdzający będzie czytał odpowiedź tylko do pięćdziesiątego słowa.

Pytanie 23

Wymień 5 rodzajów użytkowych (pozamieszkalnych i niesakralnych) drewnianych budynków wiejskich.

--

Pytanie 24

Wyjaśnij *pięć* pojęć wybranych z poniższej listy:

belka tęczowa, izbica, kalenica, łątka, skansen, soboty, socha, sypaniec, śparogi, zrąb

Etnografia**Pytanie 25**

Wymień oficjalne (ustawowe) mniejszości narodowe w Polsce.

--

Pytanie 26

Wymień oficjalne (ustawowe) mniejszości etniczne w Polsce.





--

Pytanie 27

Opisz w 50 słowach jedną z mniejszości wyznaniowych zamieszkałych obecnie na terenie Polski

Pytanie 28

Podpisz przedstawione na poniższych zdjęciach obiekty związane z kultem religijnym mniejszości wyznaniowych w Polsce (podaj ich nazwę a nie nazwę miejscowości, w której się znajdują).

Terenoznawstwo

Pytanie 29

Na mapie zamieszczonej obok zaznacz trasy dwóch całodniowych wycieczek (letniej i zimowej) do Mazowieckiego Parku Krajobrazowego zaczynających się i kończących się na stacjach PKP W-wa Międzyzlesie, W-wa Radość, W-wa Miedzeszyn, W-wa Falenica, Michalin, Józefów lub pętli autobusowej przy Centrum Zdrowia Dziecka w Międzyzlesiu oraz uzupełnij poniższą tabelę:

	wersja letnia	wersja zimowa
opis trasy		
atrakcje krajoznawcze		
atrakcje przyrodnicze		
długość trasy w km		
szacowany czas przejścia w h		
zagrożenia na trasie		

Pytanie 30

a) Ilu centymetrom na mapie o zadanej skali odpowiada 5 km w terenie?

1:25 000	<input type="text"/>
-----------------	----------------------

1:100 000	<input type="text"/>
------------------	----------------------

b) Ilu kilometrom w terenie odpowiadają 3 cm na mapie o podanej skali?

1:75 000	<input type="text"/>
-----------------	----------------------

1:125 000	<input type="text"/>
------------------	----------------------

Przyroda i jej ochrona

Pytanie 31

Wymień 5 form ochrony przyrody w myśl ustawy o ochronie przyrody.

Pytanie 32

- a) W jakich sytuacjach można się poruszać poza szlakami w Parkach Narodowych? Wymień 3 takie sytuacje.

--	--	--

- c) Jakie zakazy obowiązują turystów zwiedzających rezerwat przyrody? Wymień 5 z nich.

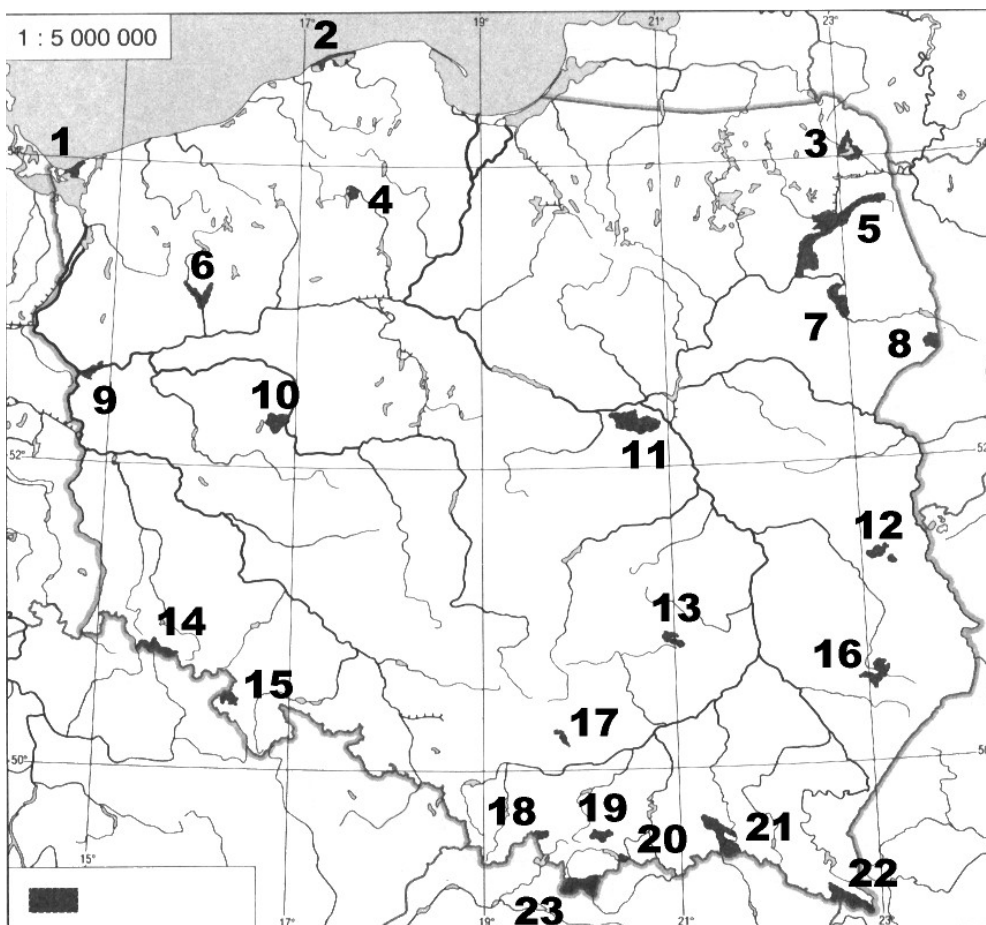
--

Pytanie 33

Które z poniższych gatunków są objęte ochroną gatunkową?

brzoza ojcowska	
dąb szypułkowy	
jarząb szwedzki	
olsza czarna	
sosna limba	

Pytanie 34



Podaj nazwy zaznaczonych na mapie parków narodowych:

1.		13.	
2.		14.	
3.		15.	
4.		16.	
5.		17.	
6.		18.	
7.		19.	
8.		20.	
9.		21.	
10.		22.	
11.		23.	
12.			

Zagadnienia prawne w turystyce

Pytanie 35

Jakie informacje powinno zawierać zgłoszenie imprezy organizowanej w Oddziale Międzyuczelnianym? Wymień 5.

Pytanie 36

Na których z wymienionych imprez organizowanych przez OM obowiązuje ubezpieczenie NNW?

- a) wycieczka autokarowa do Żelazowej Woli,
- b) rejs żeglarski po Mazurach,
- c) rajd rowerowy Szczecin – Gdańsk,
- d) wycieczka architektoniczna po Kielcach,
- e) wycieczka piesza w czeskich Górach Stołowych.

Pytanie 37

Jesteś kierownikiem 12-osobowego obozu letniego. Opisz krótko jak zachowasz się w przypadku jeśli:

1. Kierownik pociągu, którym jedziesz chce zarekwirować legitymację studencką uczestnika Twojego obozu twierdząc, że jest podrobiona.

2. Podczas klubowej wycieczki architektonicznej po Warszawie umundurowany Strażnik Miejski żąda od Ciebie okazania legitymacji przewodnika miejskiego.