


# Oddział Międzyuczelniany PTTK w Warszawie

Egzamin na Organizatora Turystyki OM PTTK – 22.04.2008 r.



Egzamin składa się z „wejściówki” (4 pytań) oraz 37 pytań pogrupowanych w 10 działów. Punktacja dla poszczególnych pytań została przedstawiona obok.

Zaliczenie egzaminu polega na uzyskaniu:

- z „wejściówki” co najmniej 81 punktów – w przypadku uzyskania mniejszej liczby punktów praca nie będzie dalej sprawdzana,
- z działów, po co najmniej po 61 punktów.

Warunkiem dopuszczenia do ustnego egzaminu poprawkowego jest zdobycie po 61 punktów z przynajmniej 7 działów.

*Życzymy powodzenia*

*Komisja Szkoleniowa*

wejściówka		
1		26
2		22
3		24
4		28
razem		100

budownictwo drewniane		
5		40
6		20
7		30
8		10
razem		100

etnografia		
9		60
10		22
11		22
razem		100

architektura		
12		30
13		40
14		30
razem		100

PTTK jako organizacja		
15		20
16		40
17		40

razem		100
-------	--	-----

historia turystyki		
18		40
19		24
20		36
razem		100

pierwsza pomoc		
21		32
22		48
23		20
razem		100

geografia turystyczna polski		
24		24
25		40
26		36
razem		100

terenoznawstwo		
27		60
28		24
29		16
razem		100

przyroda i jej ochrona		
30		46
31		34
32		8
33		12
razem		100

zagadnienia prawne w turystyce		
34		40
35		15
36		15
37		30
razem		100

**„Wejściówka”****Pytanie 1 [26 pkt.]**

Opisz prawa i obowiązki Organizatora Turystyki PTTK

--	--

**Pytanie 2 [22 pkt.]**

Podaj pełną nazwę i numer swojego koła oraz pełną nazwę Oddziału

--	--

**Pytanie 3 [24 pkt.]**

Podaj stolice następujących województw:

dolnośląskie		podlaskie	
małopolskie		warmińsko-mazurskie	
podkarpackie		świętokrzyskie	
wielkopolskie		zachodniopomorskie	


**Pytanie 4 [28 pkt.]**

Rozwiń poniższe skróty

AKT	
GOPR	
GTT	
PTK	
PTTK	
TOPR	
TT	
WOPR	

## Budownictwo drewniane

### Pytanie 5 [40 pkt.]



Opisz w co najwyżej 50 słowach obiekt przedstawiony na rysunku uwzględniając jego konstrukcję.

### Pytanie 6 [20 pkt.]

Przyporządkuj podanym terminom ich definicje, wpisując w ostatniej kolumnie odpowiedni numer

1	chyża	Gliniane wypełnienie drewnianej kratownicy, zwykle tynkowane na biało	
2	izbica	Główna belka w stropie drewnianym, często ozdobna	
3	kalenica	Najniższa belka w drewnianej ścianie, oparta na fundamencie	
4	podwalina	Najwyższa część dachu, na przecięciu połaci dachowych	
5	soboty	Najwyższa, nadwieszona kondygnacja drewnianej wieży	
6	sosręb	Niskie podcienia otaczające drewniane świątynie	
7	sumiki	Obicie drewnianej konstrukcji deskami	
8	sypaniec	Poziome bale wsuwane w wyżłobienia w łątkach	
9	szachulec	Spichlerz oblepiony gliną, z dającym się zrzucić dachem	
10	szalunek	Zagroda jednobudynkowa górali ruskich w Karpatach	

**Pytanie 7 [30 pkt.]**

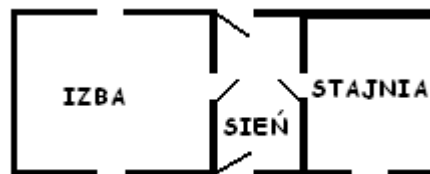
Wymień 3 skanseny budownictwa ludowego w Polsce

--	--	--

**Pytanie 8 [10 pkt.]**

Poniższa ilustracja przedstawia plan wnętrza chałupy o układzie pomieszczeń:

- a) jednoraktowym,
- b) półtraktowym
- c) dwutraktowym

**Etnografia****Pytanie 9 [60 pkt.]**

Podpisz opisane poniżej mniejszości narodowe i etniczne.

Nazwa mniejszości	Opis mniejszości
	Jest to mniejszość tradycyjnie zamieszkała na południowo-wschodnich terenach województwa podlaskiego, głównie w powiecie hajnowskim i bielskim. Na terenie 12 gmin województwa podlaskiego przedstawiciele tej mniejszości stanowią ponad 20 % mieszkańców gminy, w tym w 4 - ponad 50 %. Zdecydowana większość przedstawicieli tej mniejszości należy do Polskiego Autokefalicznego Kościoła Prawosławnego.
	Jest to mniejszość tradycyjnie zamieszkała na północnych terenach województwa podlaskiego. Największe skupisko osób należących do tej mniejszości znajduje się na terenie powiatu sejneńskiego, m.in. stanowią oni 75% mieszkańców gminy Puńsk. Języka tej mniejszości można uczyć się w 17 placówkach oświatowych, w większości tych placówek jest to język wykładowy – taki model nauczania mniejszość ta wybrała jako jedyna mniejszość w Polsce. Nauczanie języka zorganizowane jest na wszystkich poziomach nauczania. Zdecydowana większość przedstawicieli mniejszości litewskiej to wierni Kościoła Rzymskokatolickiego.
	Jest to mniejszość zamieszkująca głównie województwo małopolskie, tradycyjnie tereny Spisza i Orawy. Przedstawiciele tej mniejszości są w większości wiernymi Kościoła Rzymskokatolickiego.
	Jest to najliczniejsza mniejszość zamieszkująca Polskę. Przedstawiciele tej mniejszości najliczniej zamieszkują w województwo opolskie, śląskie oraz warmińsko-mazurskie. W Parlamencie zasiada jeden przedstawiciel mniejszości, wybrany z listy wyborczej komitetu tej mniejszości. Przedstawiciele tej mniejszości są w większości katolikami, nieliczni (głównie zamieszkujący województwa Polski północnej) deklarują przynależność do Kościoła Ewangelicko – Augsburskiego.
	Jest to najmniej liczna mniejszość w Polsce, mieszkająca przede wszystkim w Warszawie i okolicach, Wrocławiu oraz w Trójmieście. Pierwsze grupy przybyły z Krymu w XIII wieku i osiedliły się na ziemiach księstwa halicko-wołyńskiego (Łuck, Halicz, Lwów). Na przełomie XIII/XIV w. duża grupa została osiedlona w Trokach koło Wilna. Na obecne tereny Polski przesiedlili się po II wojnie światowej w wyniku repatriacji ze wschodnich kresów Rzeczypospolitej. Przedstawiciele tej mniejszości ztratili znajomość ojczystego języka, wyróżnia ich natomiast religia, wywodząca się z judaizmu.

	<p>Kolonie tej mniejszości powstałe około XI w. na Rusi Kijowskiej (Lwów, Łuck, Kamieniec Podolski) weszły w skład państwa Polskiego za panowania Kazimierza Wielkiego. W 1356 r. kolonie w Kamieńcu Podolskim i we Lwowie uzyskały potwierdzenie swojej autonomii, a Lwów został siedzibą biskupa ormiańskiego. Po II wojnie światowej polscy przedstawiciele tej mniejszości z dawnych kresów południowo-wschodnich w większości repatriowali się na obecne tereny państwa Polskiego. Największe skupiska tej mniejszości znajdują się w Warszawie, Poznaniu i Krakowie. Ważnym centrum kulturalnym są też Gliwice. Mieszkający w Polsce przedstawiciele tej mniejszości są przeważnie katolikami obrządku ormiańskiego lub łacińskiego.</p>
	<p>Przedstawiciele tej mniejszości mieszkają w rozproszeniu, przede wszystkim w dużych miastach. Pierwsze wzmianki o ich zamieszkiwaniu na terenach polskich pochodzą z X wieku, a pierwszym oficjalnym polskim dokumentem nadającym im przywileje i autonomię był statut kaliski z XIII wieku. Napływali do Polski ze względu na stosunkowo najlepsze (na tle nieustannych pogromów w Europie Zachodniej) warunki bezpiecznego życia i rozwoju własnej kultury oraz gwarantowaną przywilejami królewskimi autonomię gmin wyznaniowych. Ich liczba w Polsce tradycyjnie oscylowała w okolicach 10 % populacji (najwięcej w Europie). Rozwój ich życia w Polsce został brutalnie przerwany przez II wojnę światową i hitlerowską politykę Endlösung. Z ok. 3,5 miliona polskich przedstawicieli tej mniejszości wojnę przeżyło ok. 300 tys. W okresie PRL-u w kilku falach emigracyjnych wyjechała większość z nich wyjechała. Przedstawiciele tej mniejszości to wyznawcy religii mojżeszowej.</p>
	<p>Przedstawiciele tej mniejszości mieszkający w Polsce wywodzą się głównie z kolejnych fal migracyjnych, w ramach których przybywali do Polski: w okresie rozbiorów, po rewolucji październikowej, w okresie PRL oraz po rozpadzie ZSRR. Przedstawiciele tej mniejszości należą w większości do Polskiego Autokefalicznego Kościoła Prawosławnego. Ponadto w województwie podlaskim i warmińsko-mazurskim mieszkają staroobrzędowcy (starowiercy). Grupa ta, jako grupa wyznaniowa, powstała w drugiej połowie XVII wieku w wyniku rozłamu w rosyjskiej cerkwi prawosławnej. Pod koniec XVIII wieku staroobrzędowcy osiedlili się na obecnych terenach Polski (Suwalszczyzna i Mazury) uchodząc przed prześladowaniami religijnymi. Najważniejszym czynnikiem identyfikacji tej grupy jest religia (prawosławie w obrządku Wschodniego Kościoła Staroobrzędowego), a świadomość narodowa stanowi czynnik drugorzędny.</p>
	<p>Przedstawiciele tej mniejszości zamieszkują głównie w województwie podlaskim - na Białostocczyźnie (Bohoniki i Kruszyniany) oraz miasta Białystok, Sokółkę, Dąbrowę Białostocką i Gdańsk. Polscy przedstawiciele tej mniejszości mieszkali na ziemiach Wielkiego Księstwa Litewskiego od końca XIV wieku. Ich przodkami byli emigranci lub uciekinierzy z terenów ówczesnej Złotej Ordy oraz z Krymu. Mniejszość ta w Polsce zatraciła znajomość swojego ojczystego języka, pozostali natomiast wierni religii muzułmańskiej.</p>
	<p>To mniejszość zamieszkująca obecnie województwo dolnośląskie, małopolskie, lubuskie i podkarpackie. Tradycyjnie członkowie tej mniejszości zamieszkiwali Beskid Niski i część Beskidu Sądeckiego. Na tereny obecnego zamieszkiwania (zachodnie województwa kraju) zostali przesiedleni w 1947 r. w wyniku akcji „Wisła”. Część przedstawicieli tej mniejszości podkreśla swoją przynależność do narodu ukraińskiego, inni deklarują, że z narodem tym nie mają związków. Mniejszość ta w znacznej większości należy do dwóch Kościołów: Kościoła Katolickiego Obrządku Bizantyńsko-Ukraińskiego oraz Polskiego Autokefalicznego Kościoła Prawosławnego.</p>

### Pytanie 10 [20 pkt.]

Które z opisanych powyżej to mniejszości etniczne a które narodowe?

Mniejszości narodowe	Mniejszości etniczne

**Pytanie 11 [20 pkt.] test jednokrotnego wyboru**

Zaznacz prawidłowe odpowiedzi:

1. Cmentarz muzułmański to:
 

a) mizar	b) menora	c) kirkut
----------	-----------	-----------
2. Foliusz służył do wyrabiania:
 

a) miodu	b) oleju	c) sukna
----------	----------	----------
3. Która z poniższych ksiąg nie jest wykorzystywana przez wyznawców judaizmu?
 

a) Koran	b) Talmud	c) Tora
----------	-----------	---------
4. Noc Kupały to słowiańskie święto obchodzone w :
 

a) marcu	b) maju	c) czerwcu
----------	---------	------------
5. Który z poniższych Kościołów uznaje zwierzchnictwo Papieża?
 

a) Adwentyści Dnia Siódmego	b) Polski Autokefaliczny Kościół Prawosławny	c) Ukraińska Cerkiew greckokatolicka w Polsce
-----------------------------	--	---

**Architektura****Pytanie 12 [30 pkt.]**

Opisz w co najwyżej 50 słowach obiekt przedstawiony na rysunku.

**Pytanie 13 [40 pkt.]**

Określ styl obiektów przedstawionych na poniższych ilustracjach i prawdopodobny czas ich budowy oraz opisz charakterystyczne cechy obiektów budowanych w Polsce w tych okresach. Podaj po jednym innym przykładzie znanych Ci obiektów reprezentujących te style.



<b>Styl</b> 2 pkt.		<b>Styl</b> 2 pkt.	
<b>Przybliżony czas powstania</b> 3 pkt.		<b>Przybliżony czas powstania</b> 3 pkt.	
<b>Cechy charakt.</b> 10 pkt.		<b>Cechy charakt.</b> 10 pkt.	
<b>Przykład</b> 5 pkt.		<b>Przykład</b> 5 pkt.	

**Pytanie 14 [30 pkt.]**

Przyporządkuj podanym terminom ich definicje (wg Encyklopedii PWN) wpisując odpowiedni numer w pierwszej kolumnie i zaznacz (stawiając plus w ostatniej kolumnie) te, które widać na poniższym zdjęciu.



1	attyka		Baszta wysunięta przed linię murów zamku, pełniąca funkcję ustępu	
2	bastion		Dekoracyjny element architektoniczno – rzeźbiarski w kształcie spirali, zwoju lub litery S	
3	gdanisko		Drewniana galeria nadwieszona u szczytu muru obronnego, z otworami w podłodze do rażenia wroga	
4	gzymś		Element fortyfikacji ziemno – murowanych w formie pięciokąta na narożu twierdzy	
5	hurdyce		Pionowe okienko w dachu	
6	lizena		Pionowy element konstrukcyjny w formie filaru przyściennego o pochyłym boku, wzmacniający ściany i przenoszący ciężar sklepień na grunt	
7	lukarna		Pionowy pas wysunięty lekko przed lico ściany, w odróżnieniu od pilastra – bez bazy i głowicy	
8	skarpa		Poziomy, zwykle profilowany pas wysunięty przed lico ściany	
9	ślimacznica		Ścianka wieńcząca elewację budynku, zasłaniająca dach, często dekorowana	
10	wykusz		Występ nadwieszony na zewnętrznej ścianie budynku lub murze obronnym, nakryty osobnym dachem	

**PTTK jako organizacja****Pytanie 15 [20 pkt.]**

Wyjaśnij następujące skróty:

COTG	
IKR	
KTG	
PTP	
ZG PTTK	



**Pytanie 16 [40 pkt.] (Zwolnienie dla osób posiadających odznaki TAK / NIE)**

Wyjaśnij następujące skróty:

GOT	
JOTG	
KOT	
MOT	
NON	
OFK	
OInO	
OTJ	
OTP	
ROK	

**Pytanie 17 [40 pkt.] test jednokrotnego wyboru**

Zaznacz prawidłową odpowiedź:

- Funkcję Prezesa PTTK pełni:
  - Lech Drożdżyński
  - Jerzy Kapłon
  - Edward Kudelski
  - Marek Staffa
- Funkcję Prezesa Oddziału Międzyuczelnianego PTTK w Warszawie pełni:
  - Szymon Bijak
  - Daniel Kuligowski
  - Lech Rybienik
  - Łukasz Wódkowski
- Którą funkcję w oddziale może jednocześnie pełnić prezes danego oddziału PTTK:
  - członek Sądu Koleżeńskiego oddziału
  - Skarbnik oddziału
  - Przewodniczący Komisji Turystyki Pieszej oddziału
  - Sekretarz Komisji Rewizyjnej oddziału
- Która z wymienionych osób otrzymała godność Członka Honorowego PTTK:
  - Józef Glemp
  - Jan Paweł II
  - Jerzy Popiełuszko
  - Stefan Wyszyński
- Co nie stanowi władz naczelnych PTTK:
  - Członkowie wspierający PTTK
  - Główny Sąd Koleżeński
  - Główna Komisja Rewizyjna
  - Zarząd Główny
- Co stanowi najwyższą władzę Oddziału?
  - Komisje Oddziału
  - Prezysi kół Oddziału
  - Zarządy kół Oddziału
  - Zjazd Oddziału
- Które z poniższych ciał nie jest Komisją Zarządu Głównego PTTK?
  - Komisja Akademicka
  - Komisja Turystyki Narciarskiej
  - Komisja Historii i Tradycji
  - Główna Komisja Rewizyjna
- Który obiekt noclegowy nie jest prowadzony przez Oddział Międzyuczelniany PTTK w Warszawie?
  - SBN Łopienka
  - SBN Podwilk „Madejowe Łoże”
  - SBN Polana Wały
  - SBN Rabe
- Które koło nie jest kołem Oddziału Międzyuczelnianego PTTK w Warszawie:
  - Koło PTTK nr 1 „Jedynka”
  - Studencki Klub Podróżniczy „Czwórka”
  - Klub Turystyczny Ekonomistów „Tramp”
  - Studencki Klub Przewodników Sudeckich
- Czyje imię nosi Centralna Biblioteka PTTK w Warszawie:
  - Aleksandra Janowskiego
  - Kazimierza Kulwiecia
  - Edwarda Moskały
  - Stanisława Staszica

## Historia turystyki

### Pytanie 18 [40 pkt.] test jednokrotnego wyboru

Która z wymienionych osób związana jest z następującym zdarzeniem?

1. Założenie Centralnego Ośrodka Turystyki Górskiej w Krakowie:
  - a) Kazimierz Kulwieć
  - b) Władysław Midowicz
  - c) Edward Moskała
  - d) Marek Staffa
2. Założenie Polskiego Towarzystwa Krajoznawczego:
  - a) Klemens Bachleda
  - b) Aleksander Janowski
  - c) Wincenty Pol
  - d) Stanisław Staszic
3. Założenia Akademickiego Klubu Turystycznego we Lwowie:
  - a) Tytus Chałubiński
  - b) Władysław Krygowski
  - c) Mieczysław Orłowicz
  - d) Hugo Zapałowicz
4. Wybudowanie schroniska na Markowych Szczawinach:
  - a) Walery Eliasz-Radzikowski
  - b) Walery Goetel
  - c) Józef Stolarczyk
  - d) Hugo Zapałowicz
5. Założenia Galicyjskiego Towarzystwa Tatrzańskiego:
  - a) Tytus Chałubiński
  - b) Beata Łaska
  - c) Andrzej Matuszczyk
  - d) Mariusz Zaruski
6. Pierwszy ratownik TOPR, który zginął na służbie?
  - a) Klemens Bachleda
  - b) Leopold Świerz
  - c) Edward Moskała
  - d) Mariusz Zaruski
7. Utworzenie TOPR
  - a) Aleksander Janowski
  - b) Kazimierz Kulwieć
  - c) Władysław Midowicz
  - d) Mariusz Zaruski
8. Wyznakowanie Orlej Perci:
  - a) Jan Paweł II
  - b) Ks. Walery Gadowski
  - c) ks. Józef Stolarczyk
  - d) ks. Józef Tischner
9. Napisanie „O Ziemioródtwie Karpatów...”
  - a) Beata Łaska
  - b) Walery Goetel
  - c) Jan Gwalbert Pawlikowski
  - d) Stanisław Staszic
10. Wyznakowanie pierwszego szlaku w Tatrach:
  - a) Adam Asnyk
  - b) Walery Eliasz-Radzikowski
  - c) Tytus Chałubiński
  - d) Hugo Zapałowicz

### Pytanie 19 [24 pkt.]

W którym roku założono następujące organizacje:

PTTK	
------	--

TT	
----	--

PTK	
-----	--

### Pytanie 20 [36 pkt.] test jednokrotnego wyboru

W którym roku miały miejsce poniższe wydarzenia:

1. Utworzenie GOPR
  - a) 1874
  - b) 1906
  - c) 1952
2. Powstanie Oddziału Międzyuczelnianego PTTK w Warszawie
  - a) 1909
  - b) 1954
  - c) 1960

3. Ustanowienie GOT
- a) 1909    b) 1935    c) 1960
4. Wybudowanie pierwszego schroniska pod Morskim Okiem
- a) 1874    b) 1906    c) 1935
5. Pierwsza wycieczka PTK z Młocin do Starej Dąbrowy
- a) 1893    b) 1907    c) 1909
6. Powstanie Beskidenverein
- a) 1874    b) 1893    c) 1906

## Pierwsza pomoc

### Pytanie 21 [32 pkt.] *test wielokrotnego wyboru*

Zaznacz prawidłową odpowiedź:

- Podaj numer telefonu do Górskiego Ochotniczego Pogotowia Ratunkowego:
 

a) 601-100-100                          b) 601-300-100                          c) 601-100-300                          d) 985
- Podaj numer telefonu do Tatrzańskigo Ochotniczego Pogotowia Ratunkowego:
 

a) 601-100-100                          b) 601-300-100                          c) 601-100-300                          d) 986
- Podaj numer telefonu do Wodnego Ochotniczego Pogotowia Ratunkowego:
 

a) 601-100-100                          b) 601-300-100                          c) 601-100-300                          d) 601-300-300
- Zaznacz prawidłowe numery do służb ratunkowych:
 

a. 999-Policja, 998-Straż Pożarna, 997-Pogotowie Ratunkowe  
 b. 999-Pogotowie Ratunkowe, 998-Straż Pożarna, 997-Policja  
 c. 999-Straż Pożarna, 998-Pogotowie Ratunkowe, 997Policja  
 d. 999-Pogotowie Ratunkowe, 998-Policja, 997-Straż Pożarna

### Pytanie 22 [48 pkt.] *test wielokrotnego wyboru*

Zaznacz w jaki sposób zachowasz się w poniższych sytuacjach:

- Podczas zwiedzania muzeum w upalny dzień uczestniczka wyjazdu na twoich oczach osuwa się na ziemię:
 

a. otwierasz okno  
 b. polewasz ją zimną wodą  
 c. poluźniasz ubranie (pasek od spodni, chustka na szyi)  
 d. układasz ją na plecach, podnosisz nogi i ręce do góry
- Dziesięciu z dwunastu uczestników wyjazdu uskarża się na ból brzucha i lekką biegunkę
 

a. podajesz uczestnikom do picia mleko  
 b. podajesz uczestnikom leki przeciwbólowe  
 c. przez kilka dni przygotowujesz lekkostrawne i obfitujące w płyny posiłki  
 d. skrucasz trasę podczas najbliższych dni
- Po całodniowej wycieczce po połoninach bieszczadzkich w upalny dzień uczestnik wyjazdu uskarża się na ból i zawroty oraz nudności.
 

a. podajesz mu dużo płynów  
 b. podajesz mu leki przeciwbólowe  
 c. przenosisz go w zacienione, chłodne miejsce  
 d. skrucasz trasę następnego dnia
- Uczestnikowi wyjazdu zaczyna lecieć obficie krew z nosa:
 

a. odchylasz głowę do tyłu  
 b. pochylasz głowę do przodu  
 c. robisz zimny okład na kark  
 d. zaciskasz skrzydełka nosa chusteczką na 10 min

5. Uczestnika wyjazdu ukąsiła osa w rękę, miejsce ukąszenia bardzo spuchło i zaczerwieniło się:
- przykładasz cebulę
  - smarujesz altacetem
  - podajesz wapno
  - obserwujesz, czy nie zwiększa się opuchlizna i w razie potrzeby kontaktujesz się z lekarzem
6. Uczestnik wyjazdu po studenckich bazach namiotowych uskarża się na otarcia stóp i bąble:
- przekłuwasz bąble
  - zakładasz sączek, żeby odprowadzić gromadzący się płyn
  - skracasz trasę następnego dnia
  - dbasz, aby uczestnik dokładnie umył i wysuszył stopy

### Pytanie 23 [20 pkt.]

Wybierz cztery z opisanych powyżej sytuacji i opisz w jaki sposób należy im przeciwdziałać.

Sytuacja	Przeciwdziałanie

## Geografia turystyczna Polski

### Pytanie 24 [24 pkt.]

Przypisz do poniższych pasm górskich ich najwyższe szczyty wraz z wysokościami:

1	Beskid Sądecki
2	Beskid Śląski
3	Gorce
4	Góry Izerskie
5	Góry Sowie
6	Góry Stołowe
7	Góry Świętokrzyskie
8	Karkonosze

	Łysica 612 m n.p.m.
	Radziejowa 1262 m n.p.m.
	Skrzyczne 1257 m n.p.m.
	Szczeliniec Wielki 919 m n.p.m.
	Śnieżka 1602 m n.p.m.
	Turbacz 1310 m n.p.m.
	Wielka Sowa 1015 m n.p.m.
	Wysoka Kopa 1126 m n.p.m.

## Pytanie 25 [40 pkt.]



Zaznacz na powyższej mapie Polski położenie *dwudziestu* wybranych z poniższej listy miejsc:

1	Chęciny	14	Sandomierz
2	Częstochowa	15	Solina
3	Elbląg	16	Sulejów
4	Gdańsk	17	Suwałki
5	Giżycko	18	Tarnów
6	Gniezno	19	Toruń
7	Kalisz	20	Trzemeszno
8	Kołobrzeg	21	Warka
9	Kudowa-Zdrój	22	Warszawa
10	Nysa	23	Włocławek
11	Opole	24	Wrocław
12	Przemyśl	25	Zamość
13	Rozewie		

**Pytanie 26 [36 pkt.]**

Przyporządkuj poniższym obiektom z listy Światowego Dziedzictwa UNESCO nazwy miejscowości, w których obiekty te się znajdują.

1	Auschwitz-Birkenau. Niemiecki nazistowski obóz koncentracyjny i zagłady
2	Manierystyczny zespół architektoniczny i krajobrazowy oraz park pielgrzymkowy z XVII w
3	Hala Stulecia (Hala Ludowa)
4	Kościół Pokoju
5	Drewniane kościoły południowej Małopolski i Podkarpacia
6	Park Mużakowski nad rzeką Nysą
7	Stare Miasto - przykład całkowitej rekonstrukcji zespołu historycznego
8	Stare Miasto - przykład renesansowej zabudowy miejskiej
9	Stare Miasto razem ze Wzgórzem Wawelskim oraz zabytkami Kazimierza
10	Średniowieczny zespół miejski
11	Zabytkowa kopalnia soli
12	Zamek Krzyżacki

	Binarowa
	Kalwaria Zebrzydowska
	Kraków
	Łęknica
	Malbork
	Oświęcim
	Świdnica
	Toruń
	Warszawa
	Wieliczka
	Wrocław
	Zamość

**Terenoznawstwo****Pytanie 27 [60 pkt.]**

a) Korzystając z załączonej mapy odpowiedz na poniższe pytania: [42 pkt.]

Podaj nazwę i wysokość szczytu, na którym znajduje się schronisko PTTK.	
Podaj nazwę pasma górskiego, które przedstawione zostało na fragmencie mapy.	
Podaj nazwę miejscowości, w której znajduje się skansen.	
Podaj nazwę miejscowości, w której znajduje się siedziba parku narodowego, Muzeum Zabawek oraz Muzeum Żaby.	
Podaj nazwę torfowiska znajdującego się na szlaku pomiędzy Skalnymi Grzybami a Karłowem.	
Podaj nazwę skał znajdujących się ok. 5 km na południowy wschód od Karłowa i 2 km na północ od Batorowa.	
Podaj nazwę miejscowości, w której znajduje się siedziba GOPR.	

b) Podaj odległość (w km) oraz sumę podejść (w m), które pokonamy idąc z Karłowa do Pstrążnej przez Błędne Skały? [18 pkt.]

--	--

**Pytanie 28 [24 pkt.]**

a) Ilu centymetrom na mapie o zadanej skali odpowiada 12 km w terenie?

1:150 000	
-----------	--

1:40 000	
----------	--

1:100 000	
-----------	--

b) Ilu kilometrom w terenie odpowiada 8 cm na mapie o podanej skali?

1:75 000	
----------	--

1:125 000	
-----------	--

1:50 000	
----------	--

**Pytanie 29 [16 pkt.]**

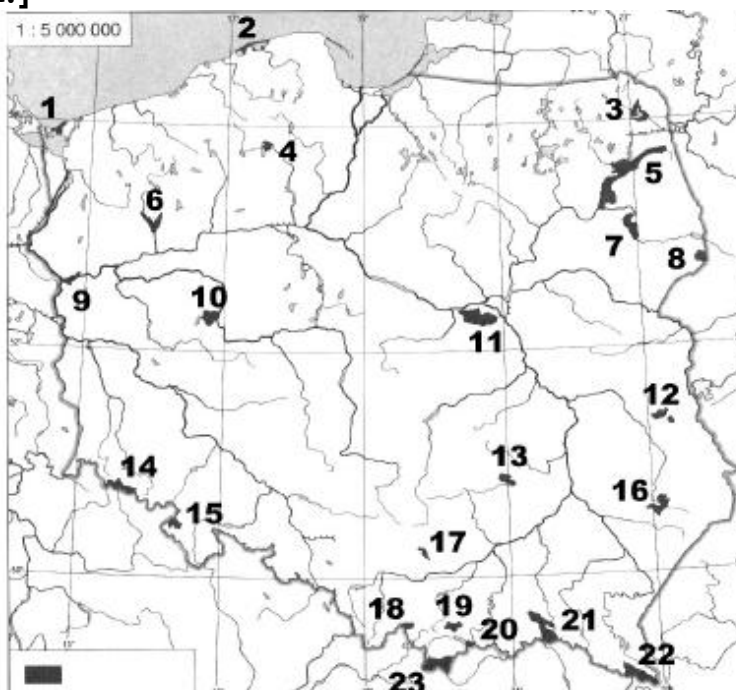
Ilu stopniom odpowiada podany kierunek?

N	
NW	

E	
SW	

**Przyroda i jej ochrona**

**Pytanie 30 [46 pkt.]**



Podpisz zaznaczone parki narodowe

1		13	
2		14	
3		15	
4		16	
5		17	
6		18	
7		19	
8		20	
9		21	
10		22	
11		23	
12			

**Pytanie 31 [34 pkt.]**

- a) Podaj 3 przykłady sytuacji, w których można poruszać się poza znakowanymi szlakami w parku narodowym [12 pkt.]

--	--	--

- b) Podaj 3 przykłady zakazów obowiązujących w rezerwach przyrody [6 pkt.]

--	--	--

- c) Podaj [12 pkt.]

2 gatunki zwierząt objętych w Polsce ochroną gatunkową	2 gatunki roślin objętych w Polsce ochroną gatunkową

- d) Rozwiń skróty nazw rodzajów obszarów ochrony Natura 2000 [4 pkt.]

OSOP	
SOOS	

**Pytanie 32 [8 pkt.]**

Scharakteryzuj krótko (w czterech zdaniach) wybrany polski park narodowy - ukształtowanie terenu, roślinność, fauna, atrakcje turystyczne

--

**Pytanie 33 [12 pkt.]**

Przyporządkuj podanym terminom ich definicje wg obowiązującej Ustawy o ochronie przyrody, wpisując w pierwszej kolumnie odpowiedni numer:

	Korytarz ekologiczny	1	Fragment krajobrazu zasługujący na ochronę ze względu na walory widokowe lub estetyczne
	Ochrona częściowa	2	Obszar chroniony ze względu na walory przyrodnicze, historyczne, kulturowe i krajobrazowe w celu ich zachowania i popularyzacji w warunkach zrównoważonego rozwoju
	Ochrona ex situ	3	Obszar umożliwiający migrację organizmów żywych
	Otulina	4	Ochrona gatunków dopuszczająca możliwość redukcji liczebności populacji i pozyskiwania osobników lub ich części
	Park krajobrazowy	5	Ochrona gatunków lub elementów przyrody nieożywionej poza miejscem ich naturalnego występowania
	Zespół przyrodniczo-krajobrazowy	6	Strefa ochronna granicząca z obszarem chronionym



## Zagadnienia prawne w turystyce

### Pytanie 34 [40 pkt.]

a) Jakie informacje powinno zawierać zgłoszenie imprezy w OM PTTK? Wymień 5. [25 pkt.]

--	--	--	--	--

b) Jakie informacje powinno zawierać rozliczenie imprezy w OM PTTK? Wymień 3. [15 pkt.]

--	--	--

### Pytanie 35 [15 pkt.]

Wymień 3 warunki jakie musi spełniać wolontariusz OM PTTK, aby mógł organizować imprezy?

--	--	--

### Pytanie 36 [15 pkt.]

1. Kto objęty jest ubezpieczeniem OC na wyjazdach organizowanych przez Oddział Międzyuczelniany PTTK w Warszawie?

- |                            |  |
|----------------------------|--|
| a) Każdy uczestnik imprezy | b) Każdy uczestnik imprezy o ile jest członkiem PTTK |
| c) Kadra i organizatorzy   | d) Wyłącznie członkowie Zarządu Oddziału             |

2. Kto może kontrolować posiadanie uprawnień przewodnickich?

- |  |   |
|--|---|
| a) Osoba będą pracownikiem Policji                                     | b) Osoba posiadająca uprawnienia Przewodnickie                                |
| c) Osoba posiadająca imienne upoważnienie Marszałka danego województwa | d) Osoba będąca członkiem komisji egzaminacyjnej na uprawnienia przewodnickie |

3. Jaki dokument uprawnia obywateli polskich do przekraczania granicy z Ukrainą?

- |                     |                          |
|---------------------|--------------------------|
| a) Dowód osobisty   | b) Legitymacja studencka |
| c) Legitymacja PTTK | d) Paszport              |

### Pytanie 37 [30 pkt.]

Jesteś kierownikiem 12 – osobowego obozu letniego organizowanego przez OM PTTK. Opisz krótko jak się zachowasz, jeśli podczas wycieczki architektonicznej po Warszawie umundurowany Strażnik Miejski zażąda od Ciebie okazania legitymacji przewodnickiej.

--