


Oddział Międzyuczelniany PTTK w Warszawie

Egzamin na Organizatora Turystyki OM PTTK – 15.06.2010 r.



Egzamin składa się z „wejściówki” (4 pytań) oraz 37 pytań pogrupowanych w 10 działów (łącznie 41 pytań). Punktacja dla poszczególnych pytań została przedstawiona obok.

Zaliczenie egzaminu polega na uzyskaniu:

- z „wejściówki” co najmniej 81 punktów – w przypadku uzyskania mniejszej liczby punktów praca nie będzie dalej sprawdzana,
- z działów, po co najmniej po 61 punktów.

Warunkiem dopuszczenia do ustnego egzaminu poprawkowego jest zdobycie po 61 punktów z przynajmniej 7 działów.

Życzymy powodzenia

Komisja Egzaminacyjna

| wejściówka | | |
|------------|--|-----|
| 1 | | 36 |
| 2 | | 18 |
| 3 | | 21 |
| 4 | | 25 |
| razem | | 100 |

| architektura | | |
|--------------|--|-----|
| 5 | | 30 |
| 6 | | 24 |
| 7 | | 46 |
| razem | | 100 |

| budownictwo drewniane | | |
|-----------------------|--|-----|
| 8 | | 20 |
| 9 | | 40 |
| 10 | | 20 |
| 11 | | 20 |
| razem | | 100 |

| etnografia | | |
|------------|--|-----|
| 12 | | 42 |
| 13 | | 20 |
| 14 | | 20 |
| 15 | | 18 |
| razem | | 100 |

| PTTK jako organizacja | | |
|-----------------------|--|----|
| 16 | | 24 |
| 17 | | 40 |

| | | |
|-------|--|-----|
| 18 | | 24 |
| 19 | | 12 |
| razem | | 100 |

| historia turystyki | | |
|--------------------|--|-----|
| 20 | | 40 |
| 21 | | 30 |
| 22 | | 20 |
| 23 | | 10 |
| razem | | 100 |

| pierwsza pomoc | | |
|----------------|--|-----|
| 24 | | 16 |
| 25 | | 24 |
| 26 | | 40 |
| 27 | | 20 |
| Razem | | 100 |

| geografia turystyczna polski | | |
|------------------------------|--|-----|
| 28 | | 30 |
| 29 | | 40 |
| 30 | | 30 |
| razem | | 100 |

| ochrona przyrody | | |
|------------------|--|-----|
| 31 | | 26 |
| 32 | | 16 |
| 33 | | 25 |
| 34 | | 33 |
| razem | | 100 |

| zagadnienia prawne w turystyce | | |
|--------------------------------|--|-----|
| 35 | | 21 |
| 36 | | 28 |
| 37 | | 33 |
| 38 | | 18 |
| razem | | 100 |

| terenoznawstwo | | |
|----------------|--|-----|
| 39 | | 40 |
| 40 | | 40 |
| 41 | | 20 |
| razem | | 100 |

Wejściówka

Pytanie 1 [36 pkt.] test wielokrotnego wyboru

Zaznacz prawidłową odpowiedź:

- 1) Organizatorem Turystyki OM PTTK w Warszawie może zostać kandydat, który:
 - a) jest członkiem OM PTTK w Warszawie,
 - b) ma ukończone 18 lat,
 - c) jest członkiem PTTK min. 2 lata.
- 2) Przedłużenie ważności legitymacji Organizatora Turystyki OM PTTK:
 - a) jest dokonywane przez Zarząd OM,
 - b) odbywa się wyłącznie w od stycznia do marca,
 - c) następuje wraz z przedłużeniem umowy o wolonariacie z OM PTTK,
- 3) Organizator Turystyki OM PTTK w Warszawie ma prawo do:
 - a) organizowania wycieczek i imprez turystycznych w ramach działalności statutowej OM PTTK w Warszawie,
 - b) zwolnienia z konieczności corocznego opłacania składki członkowskiej PTTK,
 - c) noszenia odznaki i posługiwania się legitymacją Organizatora Turystyki PTTK.
- 4) Organizator Turystyki PTTK ma obowiązek wspierania realizacji celów statutowych OM PTTK w Warszawie przez swoją działalność organizacyjno-popularyzatorską, a w szczególności poprzez:
 - a) zdobywanie oraz propagowanie zdobywania odznak turystyki kwalifikowanej i kraj.,
 - b) podnoszenie swoich kwalifikacji turystycznych,
 - c) składanie rocznego sprawozdanie do Zarządu OM ze swojej działalności,

Pytanie 2 [18 pkt.]

Podaj pełną nazwę (wraz z numerem) swojego Koła oraz nazwę Oddziału.

| Pełna nazwa i numer Koła | Pełna nazwa Oddziału |
|--------------------------|----------------------|
| | |

Pytanie 3 [21 pkt.]

Podaj pełne nazwy trzech odznak, które można weryfikować w Terenowym Referacie Weryfikacyjnym działającym przy Oddziale Międzyuczelnianym PTTK w Warszawie.

| |
|--|
| |
| |
| |

Pytanie 4 [25 pkt.]

Wyjaśnij następujące skróty:

| | PTTK | | |
|------------|------|-------------|--|
| AKT | | PTK | |
| TT | | GOPR | |

Architektura

Pytanie 5 [30 pkt.]

Opisz w 50 słowach budynek przedstawiony na zdjęciu.



Pytanie 6 [24 pkt.]



Połącz dzielnice miast z charakterystycznymi dla nich stylami architektonicznymi.

| | |
|----------------------------------|--|
| Toruń, starówka | |
| Kazimierz Dolny, rynek | |
| Warszawa, Śródmieście Południowe | |

| | |
|-----------|----------|
| Eklektyzm | A |
| Renesans | B |
| Gotyck | C |

Pytanie 7 [46 pkt.]

Określ style zabytkowych budowli z terenu Polski widocznych na zdjęciach i orientacyjne ramy czasowe, w jakich te budowle mogły powstać, opisz charakterystyczne cechy budowli wznoszonych na terenie Polski w tych stylach i podaj po jednym innym przykładzie obiektów reprezentujących te style.

| | | | |
|---|--|--|--|
|  | |  | |
| Styl [2 pkt] | | Styl [2 pkt] | |
| Przybliżony czas powstania [3 pkt] | | Przybliżony czas powstania [3 pkt] | |
| Cechy charakterystyczne stylu [15 pkt] | | Cechy charakterystyczne stylu [15 pkt] | |
| Przykład [3 pkt] | | Przykład [3 pkt] | |

Budownictwo drewniane

Pytanie 8 [20 pkt.]

Wymień 4 skanseny etnograficzne, w których prezentowane są zabytki budownictwa drewnianego. Podaj ich nazwę i miejscowość, w której się znajdują.

| | |
|--|--|
| | |
| | |

Pytanie 9 [40 pkt.]

fot. wikipedia.org.pl

Opisz w 50 słowach obiekt przedstawiony na rysunku uwzględniając jego podział przestrzenny, konstrukcję, a także materiał pokrycia elewacji oraz dachu.

Pytanie 10 [20 pkt.] test jednokrotnego wyboru

1. Ręcznie łupana deska z drewna iglastego, służąca do wykonywania pokrycia dachu to:

a. dranica

b. lisica

c. strzecha

2. Ochrona in situ zabytków budownictwa drewnianego oznacza:

a. ochronę zabytku poprzez przeniesienie go do skansenu etnograficznego

b. ochronę zabytku w miejscu, w którym został on postawiony

c. wyłączenie budynku z użytkowania w celu udostępnienia go dla turystów

3. Najstarszym kościołem drewnianym w Polsce jest

a. kościół w Haczowie

b. kościół w Sękowej

c. kościół Wang w Karpaczu

4. Sygnaturka to:

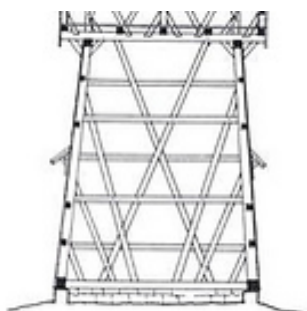
a. Dowód poświęcenia kościoła – klocek lub płytka z symbolicznym krzyżykiem wmurowana w ściany wewnętrzne kościoła, także malowany na ścianie znak małego krzyża.

b. Mała wieża kościelna, w której zazwyczaj umieszcza się najmniejszy z dzwonów, położona jest zazwyczaj nad skrzyżowaniem transeptu z nawą główną.

c. Najwyższa, nadwieszona kondygnacja w drewnianych wieżach.

5. Konstrukcja sumikowo-łątkowa przedstawiona została na obrazku:


a.



b.



c.



Pytanie 11 [20 pkt.]

Powiąz nazwy budynków gospodarczych z opisem ich przeznaczenia

| | | | |
|----|----------|---|--|
| A. | Młyn | Budynek wyposażony w urządzenie wykorzystujące siłę pociągową zwierząt (koni lub wołów) do napędu stacjonarnych maszyn rolniczych | |
| B. | Wiatrak | Budynek wyposażony w urządzenie służące do mielenia ziarna zbóż, napędzane kołem wodnym. | |
| C. | Kierat | Niewielki budynek gospodarczy przeznaczony do przechowywania zboża, okładany z zewnątrz gliną, ze zdejmowanym daszkiem nakładanym na konstrukcję ślegową. | |
| D. | Sypaniec | Budynek wyposażony w urządzenie służące do mielenia ziarna zbóż, napędzane skrzydłami poruszonymi wiatrem. | |

Etnografia

Pytanie 12 [42 pkt.]

1. Wyjaśnij krótko pojęcia. [10 pkt.]

| Mniejszość narodowa | Mniejszość etniczna |
|---------------------|---------------------|
| | |

2. Wymień 2 ustawowe mniejszości narodowe w Polsce i krótko scharakteryzuj je: [16 pkt.]

| | |
|--|--|
| | |
|--|--|

3. Wymień 2 ustawowe mniejszości etniczne w Polsce i krótko scharakteryzuj je: [16 pkt.]

| | |
|--|--|
| | |
|--|--|

Pytanie 13 [20 pkt.]

Opisz w kilku słowach poniższe pojęcia.

| | |
|-------------------|--|
| Topienie Marzanny | |
| Carskie Wrota | |
| socha | |
| zdun | |
| śparogi | |

Pytanie 14 [20 pkt.]

Przyporządkuj po 4 pojęcia do każdej religii: Święta Lipka, ramadan, Tora, zbór, prymas, synagoga, minaret, ikonostas, Św. Góra Grabarka, mariawityzm, ewangelicyzm, Kazimierz (dzielnica Krakowa), papież, monastyr, carskie wrota, meczet, Kościół Pokoju, kirkut, Koran, staroobrzędowcy, cerkiew, macewa, Kruszyńniany, Jawor (miejscowość), pastor

| Katolicyzm | Prawosławie | Islam | Judaizm | Protestantyzm |
|------------|-------------|-------|---------|---------------|
| | | | | |
| | | | | |
| | | | | |
| | | | | |

Pytanie 15 [18 pkt.]

Dopasuj wpisując odpowiednią literę.

| | |
|---|-------------------|
| A | Kurpie |
| B | Świętokrzyskie |
| C | Podhale |
| D | Górny Śląsk |
| E | Sudety |
| F | Beskidy Wschodnie |

| | |
|--|--------------|
| | śparogi |
| | parzenica |
| | sanie rogate |
| | chyża |
| | dymarki |
| | familok |

PTTK jako organizacja**Pytanie 16 [24 pkt.]**





Rozwiń następujące skróty:

| | |
|---------------------|--|
| CFK | |
| PTŻ | |
| COTG | |
| KInO ZG PTTK | |
| IKR | |
| TRW | |

Pytanie 17 [40 pkt.] (Zwolnienie dla osób posiadających odznaki TAK / NIE)a. Rozwiń następujące skróty, a rozwiązania wpisz w odpowiednią kolumnę poniższej tabelki: **OSTA, NON, WOK, KOT** [24 pkt.]

| <i>Odznaki turystyki kwalifikowanej</i> | <i>Odznaki krajoznawcze</i> | <i>Odznaki okolicznościowe</i> |
|--|------------------------------------|---------------------------------------|
| | | |

b. Podaj nazwy poniższych odznak (bez stopnia) [16 pkt.]:

| | | | |
|---|--|---|--|
|  | |  | |
|  | |  | |

Pytanie 18 [24 pkt.] test jednokrotnego wyboru

Zaznacz prawidłową odpowiedź:

Zaznacz prawidłową odpowiedź:

- Kto ma prawo do głosowania na Walnym Zeździe Oddziału Międzyuczelnianego?
 - Delegaci Kół i Klubów
 - Wszyscy członkowie Oddziału
 - Prezysi Kół i Klubów
 - Tylko członkowie władz Oddziału
- Prezesem Zarządu Głównego PTTK w obecnej kadencji jest
 - Lech Drożdżyński
 - Jerzy Kapłon
 - Andrzej Gordon
 - Paweł Dudzik
- Prezesem Zarządu OM w obecnej kadencji jest
 - Rafał Kwatek
 - Iłona Maroszek
 - Daniel Kuligowski
 - Paweł Dudzik
- Najwyższą władzę w PTTK sprawuje
 - Zarząd Główny
 - Walny Zjazd
 - Główna Komisja Rewizyjna
 - Główny Sąd Koleżeński
- Które koło nie jest zrzeszone w OM?
 - Koło Miłośników Nieznajowej
 - Studenckie Koło Przewodników Turystycznych
 - Koło Przewodników Beskidzkich
 - Studenckie Koło Przewodników Sudeckich
- Czyje imię nosi Centralna Biblioteka PTTK?
 - Edwarda Moskały
 - Kazimierza Kulwiecia
 - Mieczysława Orłowicza
 - Aleksandra Janowskiego

Pytanie 19 [12 pkt.]

a. Wymień 3 bazy namiotowe lub/i chatki, którymi opiekuje się OM:

| | | |
|--|--|--|
| | | |
|--|--|--|

Historia turystyki

Pytanie 20 [40 pkt.] test jednokrotnego wyboru

Zaznacz prawidłową odpowiedź:

- Pierwszy szlak w Tatrach oznakowany został przez:
 - Tytusa Chałubińskiego
 - Mieczysława Karłowicza
 - Walerego Eliasza Radzikowskiego
 - Józefa Oppenheima
- Wojna na pędzle rozgrywała się w:
 - Sudetach
 - Górach Świętokrzyskich
 - Beskidach Zachodnich
 - Bieszczadach
- Założycielami Polskiego Towarzystwa Krajoznawczego byli:
 - Kazimierz Kulwiec i Aleksander Janowski
 - Mieczysław Orłowicz i Jozef Oppenheim
 - Mariusz Zaruski i Walery Gadowski
 - Mieczysław Karłowicz i Edward Moskała
- Mieczysław Orłowicz był założycielem:
 - AKT Lwów
 - Towarzystwa Ochrony Świstaka
 - COTG
 - Alpine Club
- Najstarszym kołem Oddziału Międzyuczelnianego PTTK w Warszawie jest:
 - Koło PTTK nr 1 „Jedynka” przy PW
 - Koło PTTK nr 16 Akademicki Klub Turystyczny
 - Koło PTTK nr 7 Studenckie Koło Przewodników Turystycznych
 - Koło PTTK nr 26 – Klub Turystyczny Ekonomistów „Tramp”
- Celem statutowym TT była:
 - Ochrona niedźwiedzia i krokusów
 - Ochrona kozicy i świstaka
 - Prowadzenie szlaków w tatrach
 - Prowadzenie nowych dróg wspinaczkowych w tatrach
- Ks. Walery Gadowski przyczynił się do budowy:
 - schroniska na Morskim Oku
 - Perci Akademików
 - muzeów turystyki górskiej
 - Orlej Perci
- PTTK powstało z połączenia:
 - AKT i TOPR
 - TW i TT
 - PTK i PTT
 - SKPB i TT
- Jakie pasmo górskie znajduje się na terenie tzw. Ziemi Odzyskanych?:
 - Góry Świętokrzyskie
 - Czarnohorę
 - Beskid Niski
 - Karkonosze
- Książkę pod tytułem „O ziemioródtwie Karpatów i innych gór i równin Polski” napisał:
 - Michał Kazimierz Radziwiłł
 - Stanisław Staszic
 - Walery Eliasza Radzikowski
 - Tytus Chałubnskie

Pytanie 21 [30 pkt.]

1. W którym roku założono następujące organizacje: [18 pkt.]

| | | | | | |
|-----------|--|-------------|--|------------|--|
| TT | | PTTK | | PTK | |
|-----------|--|-------------|--|------------|--|

2. W roku 2010 obchodzimy okrągłą rocznicę powstania Oddziału Międzyuczelnianego PTTK w Warszawie, która to rocznica? [6 pkt.]

3. W roku 2010 PTTK obchodzi okrągłą rocznicę powstania, którą? [6 pkt.]

Pytanie 22 [20 pkt.]

Podaj daty następujących wydarzeń:

- W którym roku powstał AKT Lwów
 - 1893
 - 1902
 - 1906
 - 1873

2. W którym roku powstało Beskidenverein.
a) 1893 b) 1935 c) 1873 d) 1857
3. W którym roku powstało TOPR:
a) 1950 b) 1905 c) 1909 d) 1935
4. W którym roku powstał Tatrzański Park Narodowy:
a) 1932 b) 1954 c) 1976 d) 1909
5. W którym roku powstała odznaka GOT.
a) 1910 b) 1950 c) 1935 d) 1905

Pytanie 23 [10 pkt.] test jednokrotnego wyboru

Połącz nazwiska osób z organizacjami, w których działały.

| | | | |
|---|---------------------|--|--|
| A | Zygmunt Gloger | | Centralny Ośrodek Turystyki Górskiej |
| B | Mariusz Zaruski | | Polskie Towarzystwo Krajoznawcze |
| C | Mieczysław Orłowicz | | Tatrzańskie Ochotnicze Pogotowie Ratunkowe |
| D | Tytus Chałubiński | | Akademicki Klub Turystyczny Lwów |
| E | Edward Moskała | | Towarzystwo Tatrzańskie |

Pierwsza pomoc**Pytanie 24 [16 pkt.]**

Podaj telefony alarmowe do następujących służb:

| | |
|------|--|
| TOPR | |
| WOPR | |

| | |
|---------------------|--|
| Straż Pożarna | |
| Pogotowie Ratunkowe | |

Pytanie 25 [24 pkt.]

Wychodzisz na całodniową wycieczkę po Puszczy Białowieskiej 11 listopada. Napisz 8 rzeczy jakie powinni zabrać uczestnicy.

| | | | |
|--|--|--|--|
| | | | |
| | | | |

Pytanie 26 [40 pkt.]

a. W czasie rajdu po Karkonoszach jeden z uczestników zasłabł. Jakie masz możliwości wezwania pomocy? Wymień 3. [30 pkt.]

| |
|--|
| |
| |
| |

b. Jakie informacje podasz dyspozytorowi dzwoniąc po numer alarmowy? Wymień 5 z nich. [10 pkt.]

| |
|--|
| |
|--|

Pytanie 27 [20 pkt.]

| | |
|---|--|
| Jak układasz ręce gdy widzisz nadlatujący śmigłowiec ratowniczy a nie potrzebujesz jego pomocy? | |
| Którą stroną koca ratowniczego okrywasz osobę z hipotermią? | |
| Jeden z uczestników wyjazdu zimowego w góry prosi Cię o Aspirynę na noc. Co robisz? | |
| Jaki jest schemat resuscytacji osoby dorosłej? | |

Geografia Turystyczna Polski

Pytanie 28 [30 pkt.]

a) Przyporządkuj pasma górskie do jednostek fizycznogeograficznych. [15 pkt.]

| | |
|---------------------|----------|
| Pieniny | A |
| Góry Izerskie | B |
| Karkonosze | C |
| Góry Świętokrzyskie | D |
| Tatry | E |

| | | | | |
|-------------------|--|--|--|--|
| Sudety | | | | |
| Wyżyna Kielecka | | | | |
| Karpaty Zachodnie | | | | |

b) Przyporządkuj danym miastom charakterystyczne obiekty w nich się znajdujące. [15 pkt.]

| | | |
|---|------------|--|
| 1 | Sandomierz | |
| 2 | Warszawa | |
| 3 | Kraków | |
| 4 | Gdańsk | |
| 5 | Poznań | |

| | |
|----------|---------------------------------|
| A | Sukiennice |
| B | budynek Targów Międzynarodowych |
| C | renesansowy rynek |
| D | Wilanów |
| E | żuraw portowy |

Pytanie 29 [40 pkt.]



Zaznacz na podanej mapie Polski położenie **dwudziestu** wybranych z poniższej listy miejsc:

| | | | |
|----|-----------------|----|---------------------|
| 1 | Warszawa | 14 | Opole |
| 2 | Sandomierz | 15 | Wąchock |
| 3 | Zielona Góra | 16 | Poznań |
| 4 | Katowice | 17 | Przemyśl |
| 5 | Gniezno | 18 | Gorzów Wielkopolski |
| 6 | Kętrzyn | 19 | Sopot |
| 7 | Kazimierz Dolny | 20 | Wrocław |
| 8 | Kraków | 21 | Zagórz |
| 9 | Suwałki | 22 | Ustrzyki Górne |
| 10 | Lublin | 23 | Gdynia |
| 11 | Malbork | 24 | Jasło |
| 12 | Białystok | 25 | Włocławek |
| 13 | Olsztyn | 26 | Pisz |

Pytanie 30 [30 pkt.]

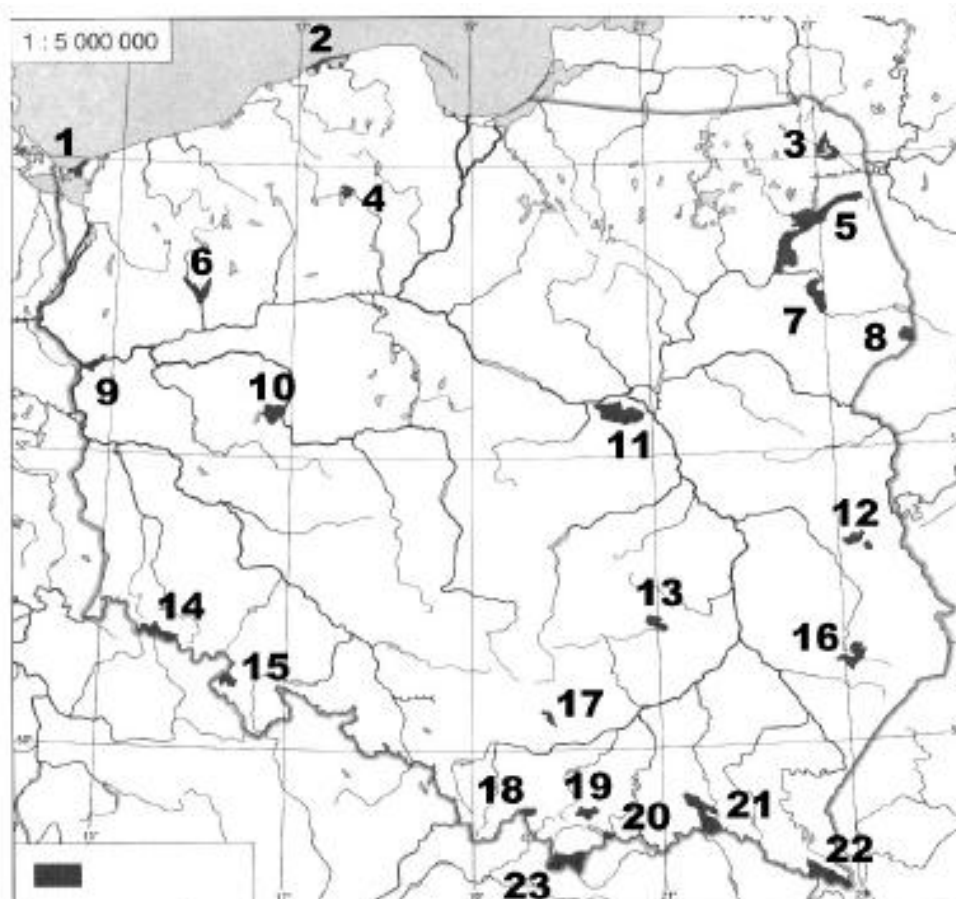
Przypisz województwa do ich atrakcji turystycznych.

| | |
|--------------------------------------|--|
| Skansen Taboru Kolejowego w Chabówce | |
| Skansen Wdzydze Kiszewskie | |
| Hala Ludowa | |
| Pawilon X Cytadeli | |
| Wilczy szaniec | |
| Drewniany meczet | |

| | |
|---------------------|----------|
| małopolskie | A |
| mazowieckie | B |
| podlaskie | C |
| pomorskie | D |
| warmińsko-mazurskie | E |
| dolnośląskie | F |

Ochrona przyrody**Pytanie 31 [26 pkt.]**

1. Podaj nazwy zaznaczonych na mapie parków narodowych [23 pkt.]



| | | | |
|---|--|----|--|
| 1 | | 13 | |
| 2 | | 14 | |
| 3 | | 15 | |
| 4 | | 16 | |

| | | | |
|----|--|----|--|
| 5 | | 17 | |
| 6 | | 18 | |
| 7 | | 19 | |
| 8 | | 20 | |
| 9 | | 21 | |
| 10 | | 22 | |
| 11 | | 23 | |
| 12 | | | |

2. Który park narodowy wchodzi w skład Międzynarodowego Rezerwatu Biosfery „Karpaty Wschodnie”? [3 pkt.]

Pytanie 32 [16 pkt.]

Opisz krótko (w 4 zdaniach) wybrany polski park narodowy, uwzględniając ukształtowanie powierzchni, roślinność, faunę i atrakcje turystyczne.

Pytanie 33 [25 pkt.] *test jednokrotnego wyboru*

Wśród podanych odpowiedzi na każde pytanie zaznacz jedną prawidłową

1. Gatunek występujący naturalnie na ograniczonym obszarze to:

- | | |
|-----------------------|--------------------|
| a) gatunek parasolowy | b) ekoton |
| c) endemit | d) pomnik przyrody |

2. Piętro kosodrzewiny nie występuje w:

- | | |
|---------------------|------------------------|
| a) Tatrach | b) Beskidzie Żywieckim |
| c) Górach Opawskich | d) Karkonoszach |

3. Obszar wyróżniający się szczególnymi wartościami przyrodniczymi, naukowymi, społecznymi, kulturowymi i edukacyjnymi, o powierzchni min. 1000 ha, gdzie chroniona jest cała przyroda i walory krajobrazowe, to:

- | | |
|----------------------------------|-------------------------|
| a) obszar chronionego krajobrazu | b) korytarz ekologiczny |
| c) park narodowy | d) rezerwat ścisły |

3. Zobowiązany prawnie (na mocy odpowiedniej ustawy) do wylegitymowania się podczas prowadzenia czynności służbowych względem obywatela polskiego na wniosek tego obywatela jest:
- umundurowany funkcjonariusz Policji
 - nieumundurowany funkcjonariusz Policji
 - nieumundurowany funkcjonariusz Straży Granicznej
 - umundurowany Strażnik Miejski
4. W jakim przypadku jako organizator wycieczki możesz 15-letnią uczestniczkę wycieczki samodzielnie wysłać PKS-em do Warszawy:
- w każdym wypadku
 - jeśli pisemnie zaświadczy, że posiada zgodę rodziców na powrót
 - jeśli przedstawi pisemną zgodę rodziców na powrót
 - w żadnym wypadku
5. Dokumentem uprawniającym do przekroczenia granicy podczas podróży lotniczej na linii Warszawa-Skopje (Macedonia) jest:
- świadcstwo urodzenia
 - paszport
 - dowód osobisty
 - międzynarodowe prawo jazdy
6. Komercyjne oprowadzanie wycieczki po krakowskim Kazimierzu:
- jest zabronione przepisami prawa
 - nie jest w żaden sposób uregulowane przepisami prawa
 - wymaga posiadania uprawnień Instruktora Krajoznawstwa Polski PTTK
 - wymaga posiadania uprawnień Przewodnika Miejskiego po Krakowie
7. Imprezę turystyczną o szacowanej na 300 liczbie osobodni, aby była ona organizowana jako impreza turystyczna Oddziału, należy zgłosić do Władz Oddziału:
- co najmniej na 30 dni przed terminem jej rozpoczęcia
 - co najmniej na 14 dni przed terminem jej rozpoczęcia
 - co najmniej na 1 dzień przed jej rozpoczęciem
 - najpóźniej 7 dni po jej rozpoczęciu

Pytanie 36 [28 pkt.]

1. Które z poniższych informacji powinno zawierać zgłoszenie imprezy w OM PTTK? Wpisz „TAK” lub „NIE” [18 pkt.]

| | | |
|----|---|--|
| 1. | Xero umowy o wolontariacie organizatora imprezy | |
| 2. | Preliminarz wydatków | |
| 3. | Numer i nazwę koła w ramach którego organizowana jest impreza | |
| 4. | Dane kontaktowe Prezesa koła w ramach którego organizowana jest impreza | |
| 5. | Data i Miejsce zakończenia imprezy | |
| 6. | Planowana liczba uczestników | |
| 7. | Potwierdzenie (np. scan faktur) zarezerwowanych noclegów | |
| 8. | Informacje o trasie lub miejscu imprezy | |
| 9. | Charakter imprezy | |

2. Które z poniższych informacji powinno zawierać rozliczenie imprezy w OM PTTK? Wpisz „TAK” lub „NIE” [10 pkt.]

| | | |
|----|--|--|
| 1. | Pełna lista uczestników | |
| 2. | Rzeczywisty czas przebywania każdego uczestnika na imprezie | |
| 3. | Opis najciekawszych obiektów przyrodniczych i krajoznawczych zwiedzanych podczas imprezy | |
| 4. | Poświadczenia (pieczęcie, podpisy) odwiedzenia punktów z zadeklarowanej trasy | |
| 5. | zestawienie wpływów i wydatków poniesionych przy organizacji (współorganizacji) imprezy lub oświadczenie uczestników imprezy, że pokryli oni koszty swojego uczestnictwa | |

Pytanie 37 [33 pkt.]

W ramach działalności Oddziału Międzyuczelnianego PTTK prowadzisz 9-dniową pieszą wycieczkę po Tatach Polskich. Impreza została zgłoszona w Oddziale Międzyuczelnianym i odbędzie się w sierpniu tego roku.

1. Jakim ubezpieczeniem będą objęte wymienione poniżej osoby na tym wyjeździe? Wpisz „TAK” lub „NIE” [16 pkt.]

| | | OC | NNW |
|----|---|----|-----|
| 1. | Uczestnik wycieczki z opłaconą składką PTTK za bieżący rok kalendarzowy | | |
| 2. | Organizator imprezy (z opłaconą składką PTTK za bieżący rok kalendarzowy) | | |
| 3. | Posiadacz legitymacji PTTK z nieopłaconą składką PTTK za bieżący rok kalendarzowy | | |
| 4. | Zgłoszona kadra wycieczki (z opłaconą składką PTTK za bieżący rok kalendarzowy) | | |

2. Dla których z ww. osób zmienia się zasady ubezpieczenia OC lub NNW jeśli zdecydujecie się przenieść imprezę na terytorium Tatr Słowackich? [8 pkt.]

| |
|--|
| |
|--|

3. Które z poniższych zachowań uczestników wycieczki są zgodne z prawem (Wpisz „TAK” dla zgodnych z prawem i „NIE” w przeciwnym przypadku)? [9 pkt.]

| | | |
|----|---|--|
| 1. | Zażądanie przez uczestnika wycieczki pokwitowania w związku z zarekwirowaniem przez Strażnika Ochrony Kolei legitymacji studenckiej tego uczestnika w pociągu PR InterRegio (podejrzanie jej podrobienia) | |
| 2. | Zażądanie przez Strażnika Parku okazania przez uczestników wycieczki po TPN biletów wstępu do Tatrzańskiego Parku Narodowego | |
| 3. | Kąpiel w Wielkim Stawie w Dolinie 5 Stawów Polskich (należącej do Tatrzańskiego Parku Narodowego) | |

Pytanie 38 [18 pkt.]

1. Czy poniższe kraje należą do Strefy Schengen? Wpisz „TAK” lub „NIE” [10 pkt.]

| | | | |
|------------------|--|------------------------|--|
| AUSTRIA | | CZECHY | |
| BELGIA | | ŁOTWA | |
| BIAŁORUŚ | | NORWEGIA | |
| BULGARIA | | SZWAJCARIA | |
| CHORWACJA | | WIELKA BRYTANIA | |

2. Wskaż prawdziwe zdania dotyczące strefy Schengen (Wpisz „TAK” dla zdań prawdziwych i „NIE” dla fałszywych). [8 pkt.]

| | |
|---|--|
| w Strefie Schengen zostały zniesione Straże Graniczne właściwe dla poszczególnych krajów członkowskich | |
| obywatel kraju Strefy Schengen może przekroczyć granicę pomiędzy dwoma państwami Strefy Schengen w każdym miejscu i o dowolnej porze (o ile przepisy dla danego terenu nie stanowią inaczej np. parki narodowe, rezerwy przyrody) | |
| obywatel Gruzji ma prawo do swobodnego wjazdu na terytorium dowolnego państwa Strefy Schengen | |
| w przypadku kontroli granicznych obywatele Państw Członkowskich mają takie same prawa, co oznacza, że służby graniczne danego Państwa mają obowiązek traktować obywateli innych Państw Członkowskich UE, jak swoich własnych | |

Terenoznawstwo**Pytanie 39 [40 pkt.]**

1. Korzystając z załączonej mapy odpowiedz na poniższe pytania: [20 pkt.]

| | |
|--|--|
| Podaj przewyższenie w metrach (z dokładnością do 20 m) między Wodospadem Kamieńczyka a Górą Przedział. | |
| Szlak zielony, trawersuje masywy Babińca i Mumławskiego Wierchu od Południa, czy Północy? | |

2. Podaj pięć możliwości przenocowania (rodzaj obiektu, lokalizacja) na obszarze mapy. [10 pkt]

| |
|--|
| |
|--|

3. Korzystając z załączonej mapy podaj dwa charakterystyczne punkty/obiekty topograficzne ułatwiające orientację w terenie na trasie z Jakuszyc na Szrenicę szlakiem zielonym. [10 pkt.]

| |
|--|
| |
|--|

Pytanie 40 [40 pkt.]

a) Opisz krótko na czym polega magnetyczne orientowanie mapy. [10 pkt.]

| |
|--|
| |
|--|

b) Opisz krótko na czym polega geometryczne (topograficzne) orientowanie mapy. [10 pkt.]

| |
|--|
| |
|--|

c) Korzystając z załączonej mapy podaj przybliżoną odległość w km z Jakuszyc na szczyt Zwalisko [10 pkt.]

| | |
|--|--|
| w linii prostej | |
| najkrótszą drogą znakowaną (szlakiem turystycznym) | |

d) Korzystając z załączonej mapy podaj azymut ze schroniska na Hali Szrenickiej na szczyt Kamiennik [10 pkt.]

| |
|--|
| |
|--|

Pytanie 41 [20 pkt.]

a) Ilu centymetrom na mapie o zadanej skali odpowiada 225 m w terenie? [10 pkt.]

| | | | |
|---------|--|-----------|--|
| 1:5 000 | | 1:225 000 | |
|---------|--|-----------|--|

b) Ilu kilometrom w terenie odpowiada 2 cm na mapie o podanej skali? [10 pkt.]

| | | | |
|-----------|--|----------|--|
| 1:125 000 | | 1:50 000 | |
|-----------|--|----------|--|