


Oddział Międzyuczelniany PTTK w Warszawie

Egzamin na Organizatora Turystyki OM PTTK – 17.05.2011 r.



Egzamin składa się z „wejściówki” (5 pytań) oraz 31 pytań pogrupowanych w 10 działów. Punktacja dla poszczególnych pytań została przedstawiona obok.

Zaliczenie egzaminu polega na uzyskaniu:

- z „wejściówki” co najmniej 81 punktów – w przypadku uzyskania mniejszej liczby punktów praca nie będzie dalej sprawdzana,
- z działów, po co najmniej po 61 punktów.

Warunkiem dopuszczenia do ustnego egzaminu poprawkowego jest zdobycie po 61 punktów z przynajmniej 7 działów.

Życzymy powodzenia

Komisja Egzaminacyjna

wejściówka		
1		16
2		24
3		30
4		18
5		12
razem		100

budownictwo drewniane		
6		40
7		20
8		25
9		15
razem		100

etnografia		
10		40
11		40
12		20
razem		100

architektura		
13		40
14		40
15		20
razem		100

PTTK jako organizacja		
16		18
17		40
18		42
razem		100

historia turystyki		
19		52
20		24
21		24
razem		100

pierwsza pomoc		
22		38
23		30
24		32
razem		100

geografia turystyczna polski		
25		40
26		20
27		40
razem		100

terenoznawstwo		
28		30
29		40
30		30
razem		100

przyroda i jej ochrona		
31		46
32		44
33		10
razem		100

zagadnienia prawne w turystyce		
34		48
35		24
36		28
razem		100

„Wejściówka”**Pytanie 1 [16 pkt.]**

Opisz warunki, jakie musi spełnić kandydat, by zostać Organizatorem Turystyki OM PTTK w W-wie:

--

Pytanie 2 [24 pkt.] - Test wielokrotnego wyboru

Zaznacz prawa i obowiązki Organizatora Turystyki OM PTTK w Warszawie (OM):

Prawa:

- do organizacji imprez turystycznych w ramach działalności statutowej OM;
- do zniżek przysługujących kadrze PTTK w obiektach noclegowych PTTK;
- do odpłatnego oprowadzania wycieczek po obszarach poniżej 1000 m n.p.m.;
- potwierdzenia tras i imprez do odznak zgodnie z ich regulaminem.

Obowiązki:

- organizacji imprez turystycznych w celu wspierania realizacji statutu OM;
- przestrzeganie i upowszechnianie zasad bezpieczeństwa w turystyce;
- zdobywanie oraz propagowanie zdobywania odznak turystyki kwalifikowanej i krajoznawczych,
- podnoszenia swoich kwalifikacji turystycznych.

Pytanie 3 [30 pkt.]

Podaj stolice następujących województw:

lubuskie	
małopolskie	
podkarpackie	
wielkopolskie	

podlaskie	
kujawsko-pomorskie	
świętokrzyskie	
zachodniopomorskie	

Pytanie 4 [18 pkt.]

Rozwiń poniższe skróty

PTTK	
PTK	
GTT	

Pytanie 5 [12 pkt.]

Podaj pełne nazwy trzech odznak, które można weryfikować w Terenowym Referacie Weryfikacyjnym działającym przy Oddziale Międzyuczelnianym PTTK w Warszawie.

Budownictwo drewniane

Pytanie 6 [40 pkt.]

fot. wikipedia.pl



Opisz w co najwyżej 50 słowach obiekt przedstawiony na rysunku uwzględniając jego konstrukcję.

Pytanie 7 [20 pkt.]

Przyporządkuj podanym terminom ich definicje, wpisując w ostatniej kolumnie odpowiedni numer

1	krokiew	Gliniane wypełnienie drewnianej kratownicy, zwykle tynkowane na biało	
2	izbica	Główna belka w stropie drewnianym, często ozdobna	
3	zachata	Najniższa belka w drewnianej ścianie, oparta na fundamencie	
4	podwalina	Dodatkowa przestrzeń, uzyskana w wyniku postawienia pod szerokim okapem lekkich ścianek z desek.	
5	soboty	Najwyższa, nadwieszona kondygnacja drewnianej wieży	
6	sosręb	Niskie podcienia otaczające drewniane świątynie	
7	sumiki	Obicie drewnianej konstrukcji deskami	
8	strzecha	Poziome bale wsuwane w wyżłobienia w łątkach	
9	szachulec	Pokrycie dachowe ze słomy lub trzciny	
10	szalunek	Ukośna belka w więzarach dachowych wzmacniana często jętką	

Pytanie 8 [25 pkt.]

Z poniższej listy wybierz 5 nazw budynków gospodarczych i wyjaśnij krótko, do czego są wykorzystane.

remiza, kuźnia, młyn, folusz, spichlerz, olejarnia, sypaniec, obora

Pytanie 9 [15 pkt.]

Przyporządkuj poniższe regiony do poszczególnych skansenów:

Podkarpacie i Karpaty Wschodnie, Orawa i Podhale, Kurpie, Kaszuby, Mazowsze

Skansen ... im. Adama Chętnika w Nowogrodzie	
Muzeum – ... Park Etnograficzny im. Gulgowskich we Wdzydżach Kiszewskich	
Muzeum Wsi ... w Sierpcu	
Muzeum Budownictwa Ludowego w Sanoku	
... Park Etnograficzny w Zubrzycy Górnej	

Etnografia**Pytanie 10 [40 pkt.]**

1. Wyjaśnij krótko pojęcia [15 pkt.]:

Mniejszość narodowa	
Mniejszość etniczna	

2. Wyjaśnij 5 z następujących pojęć [25 pkt.]:

menora , ikonostas, minaret, kierpce, dekarz, muezin, kirkut, Góra Grabarka, turoń, pastor.

Pojęcie	Opis

Pytanie 11 [40 pkt.]

Opisz jedną z mniejszości etnicznych zamieszkałych w Polsce

Pytanie 12 [20 pkt.] *test jednokrotnego wyboru* - zaznacz prawidłową odpowiedź:

1. Cyrulik zajmował się:
 - a) wyrobem beczek
 - b) wytwarzanie akcesoriów skórzanych (np. pasów, uprzęży)
 - c) wyrobem drewnianych wozów i sań, głównie kół,
 - d) goleniem, rwaniem zębów, leczeniem lekkich chorób.

2. Zwyczajem sobótkowych nie jest:
 - a) Puszczanie wianków,
 - b) Palenie ognisk i pochodni,
 - c) Zaszycanie w ubraniu drobnych pieniędzy na szczęście,
 - d) Kąpiel w chłodnej wodzie rzeki lub jeziora.

3. Cadyk to:

- a) Przywódca charyzmatycznego odłamu judaizmu (chasydyzmu),
- b) W islamie mężczyzna pięć razy dziennie wzywający z minaretu wiernych do modlitwy,
- c) Tradycyjna nazwa nagrobka na cmentarzu prawosławnym,
- d) Mieszkaniec Karpat Wschodnich.

4. Przed II wojną światową Łemkowie zamieszkiwali teren:

- a) Śląska Cieszyńskiego,
- b) Beskidu Niskiego,
- c) Sudetów,
- d) Gór Sowich.

5. Którą z potraw źle przypisano do regionu.

- a) Bryndza - Podhale,
- b) Kołduny - wschodnia Polska (granice Litwy, Białorusi),
- c) Hekele - Śląsk
- d) Bundz - Mazowsze.

Architektura



Pytanie 13 [40 pkt.]



Opisz w 50 słowach budynek przedstawiony na zdjęciu.

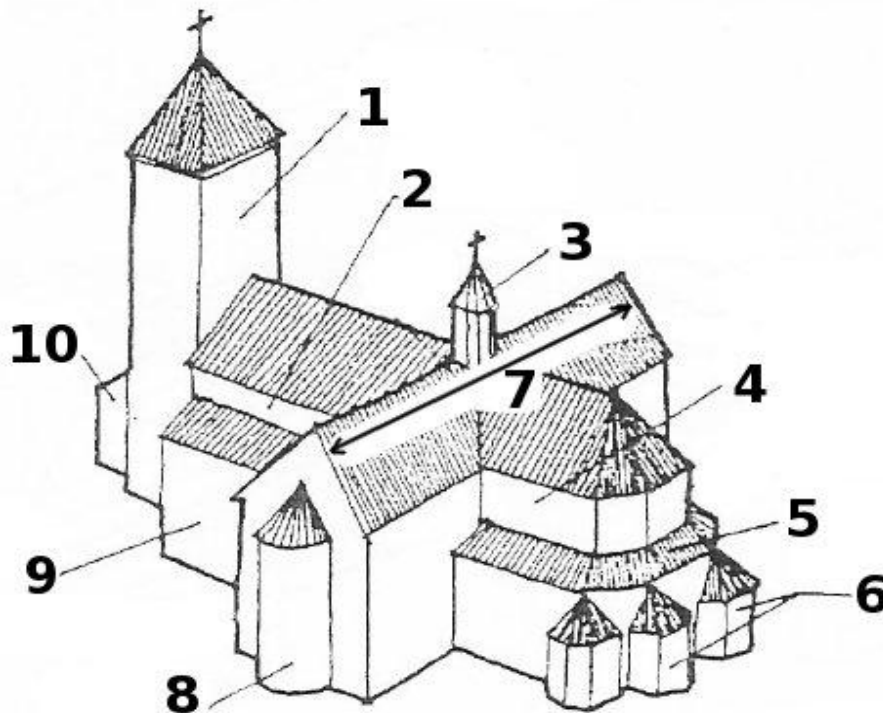
Pytanie 14 [40 pkt.]

Określ style zabytkowych budowli z terenu Polski widocznych na zdjęciach i orientacyjne ramy czasowe, w jakich te budowle mogły powstać, opisz charakterystyczne cechy budowli wznoszonych na terenie Polski w tych stylach i podaj po jednym innym przykładzie obiektów reprezentujących te style.

			
Styl <i>[2 pkt]</i>		Styl <i>[2 pkt]</i>	
Przybliżony czas powstania <i>[3 pkt]</i>		Przybliżony czas powstania <i>[3 pkt]</i>	
Cechy charakterystyczne stylu <i>[10 pkt]</i>		Cechy charakterystyczne stylu <i>[10 pkt]</i>	
Przykład <i>[5 pkt]</i>		Przykład <i>[5 pkt]</i>	

Pytanie 15 [20 pkt.]

Na schemacie cyframi 1-10 oznaczono wybrane elementy obiektu sakralnego. Wybierz **pięć** i nazwij je.



Liczba ze schematu	Nazwa

PTTK jako organizacja**Pytanie 16 [18 pkt.]**

Wymień po 3 prawa i obowiązki członka PTTK!

<i>Prawa</i>	<i>Obowiązki</i>

Pytanie 17 [40 pkt.] (Zwolnienie dla osób posiadających odznaki TAK / NIE)

1. Wymień 3 odznaki ustanowione przez Oddział Międzyuczelniany PTTK w Warszawie [12 pkt.]:

2. Podaj nazwy poniższych odznak (bez stopnia) [28 pkt.]:

Pytanie 21 [24 pkt.]

W którym roku założono następujące organizacje:

AKT Lwów	
-------------	--

PTK	
-----	--

GTT	
-----	--

Pierwsza pomoc**Pytanie 22 [38 pkt.]**

Podczas prowadzonej przez Ciebie w chłodny jesienny dzień wycieczki psuje się pogoda. Obserwujesz na niebie błysk, a po ok. 6 sekundach od niego słyszysz grzmot błyskawicy. W jakiej w przybliżeniu odległości uderzył piorun? Odpowiedź podaj w metrach. [14 pkt.]

--

Wymień 3 znane Ci sposoby wzywania pomocy w górach i opisz krótko na czym polegają: [24 pkt.]

Pytanie 23 [30 pkt.]

Podaj numery następujących telefonów alarmowych:

Straż Pożarna	
Straż Miejska	
TOPR	

Centrum Powiadomiania Ratunkowego	
Policja	
WOPR	

Pytanie 24 [32 pkt.] test wielokrotnego wyboru

- Uczestnika wyjazdu ukąsiła w nogę osa, miejsce ukąszenia zaczerwieniło się i bardzo spuchło. Jakie działania podejmiesz?
 - natrzesz miejsce ukąszenia spirytusem
 - podasz ukąszonemu wapno
 - będziesz obserwował, czy nie zwiększa się opuchlizna i w razie potrzeby skontaktujesz się z lekarzem
 - założysz powyżej miejsca ukąszenia opatrunek uciskowy
- Które z poniższych metod obowiązkowo zastosujesz dla zapobiegania zatruciom pokarmowym podczas wyjazdów?
 - jedzenie tylko liofilizowanej żywności
 - kontrola terminów ważności produktów
 - unikanie picia wody z niepewnych źródeł
 - dbanie o higienę posiłków

3. Podczas wycieczki po Popradzkim Parku Krajobrazowym jeden z uczestników twojej grupy upadł i stracił przytomność. Dzwonisz po pomoc i składasz meldunek o wypadku. Które informacje powinieneś (powinnaś) zawrzeć w takim meldunku?
 - a. gdzie miało miejsce zdarzenie
 - b. ilu i w jakim wieku jest poszkodowanych
 - c. kto dzwoni
 - d. co się stało
4. Po całonocnej wycieczce po Magurze Spiskiej w upalny dzień uczestnik wyjazdu skarży się na ból i zawroty głowy oraz nudności. Jakie działania podejmiesz?
 - a. skrócisz trasę następnego dnia
 - b. podasz mu paracetamol
 - c. będziesz podawać mu systematycznie (w odstępach 3-4h) kwaśne mleko
 - d. przeniesiesz go w zacienione, chłodne miejsce
5. Podczas prowadzonej przez Ciebie wycieczki psuje się pogoda i widzisz, że przed burzą nie dotrzecie na miejsce noclegu. Wiesz, że nie każde miejsce jest idealne do przeczekania burzy. Których miejsc będziesz unikał(-a)?
 - a. dolina
 - b. niewielka, płytka grotka
 - c. rozłożyste, samotne drzewo
 - d. budynek schroniska
6. Organizujesz dwutygodniowy obóz wędrowny po Beskidach. Na co zwrócisz uwagę uczestnikom, żeby zminimalizować ryzyko pojawienia się otarć stóp i pęcherzy na wyjeździe?
 - a. żeby dbali o higienę stóp
 - b. żeby nosili jak najcieńsze skarpety
 - c. żeby na wyjazd najlepiej zakupili nowe, niezniszczone obuwie
 - d. nic im nie mówisz, pęcherze i otarcia i tak są nieuniknione
7. Podczas zwiedzania muzeum w upalny dzień uczestniczka wyjazdu na twoich oczach osuwa się na ziemię. Co robisz?
 - a. otwierasz okno
 - b. natychmiast wzywasz karetkę pogotowia
 - c. poluźniasz ubranie (pasek od spodni, chustka na szyi)
 - d. układasz ją na plecach, podnosisz nogi i ręce do góry
8. Organizują zimową wycieczkę turystyczną na Babią Górę zwrócisz uczestnikom uwagę, aby:
 - a. zabrali ze sobą krem ochronny na zimę
 - b. zabrali ze sobą krem z filtrem UV
 - c. mieli ze sobą i uzupełniali co rano termos z gorącym napojem
 - d. mało pili, bo przyjmowanie płynów powoduje nadmierne pocenie się i w konsekwencji może prowadzić do wychłodzenia

Geografia Turystyczna Polski

Pytanie 25 [40 pkt.]

1. Uzupełnij tabelę elementami poniższej listy, 2 elementy pozostaw niewykorzystane. [20 pkt.]

Babia Góra, Beskid Sądecki, Beskid Żywiecki, Góry Stołowe, Masyw Śnieżnika, Pieniny, Radziejowa, Szczeliniec Wielki, Śnieżnik, Trzy Korony, Wysoka, Wysoka Kopa, 919 m, 1050 m, 1262 m, 1425 m, 1725 m

pasmo górskie	najwyższy szczyt	wysokość

2. Wymień miejsca wpisane na listę Światowego Dziedzictwa UNESCO znajdujące się w woj. małopolskim. [20 pkt.]

--	--

Pytanie 26 [20 pkt.]

Przyporządkuj województwom charakterystyczne obiekty w nich się znajdujące [20 pkt.]

1	Dolnośląskie	
2	Kujawsko-Pomorskie	
3	Lubuskie	
4	Łódzkie	
5	Małopolskie	
6	Mazowieckie	
7	Podlaskie	
8	Śląskie	
9	Warmińsko-Mazurskie	
10	Zachodniopomorskie	

A	Geometryczny Środek Polski
B	Kościół Pokoju
C	Międzyrzecki Rejon Umocniony
D	Muzeum Jana Kochanowskiego
E	Mysia Wieża
F	Najniższy punkt Polski
G	Orawski Park Etnograficzny
H	Sanktuarium polskiego prawosławia
I	Wały Chrobrego
J	Źródła Wisły

Pytanie 27 [40 pkt.]



Zaznacz na podanej mapie Polski położenie **dwudziestu** wybranych z poniższej listy miejsc:

1	Białowieża	14	Modlin
2	Bogatynia	15	Nałęczów
3	Bydgoszcz	16	Nowy Sącz
4	Częstochowa	17	Nowy Targ
5	Duszniki Zdrój	18	Olsztyn
6	Jelenia Góra	19	Opole
7	Kartuzy	20	Opole
8	Koszalin	21	Przemyśl
9	Krynica Morska	22	Sandomierz
10	Legnica	23	Suwałki
11	Lublin	24	Wolin
12	Łęknica	25	Wrocław
13	Łódź	26	Zielona Góra

Terenoznawstwo

Pytanie 28 [30 pkt.]

a) Korzystając z załączonej mapy odpowiedz na poniższe pytania:

Podaj wysokość n.p.m. (z dokładnością do 10 m) Murowanej Studni pod Piotrusiem	
Jaką wartość ma azymut wyznaczony z szczytu Kaniów Dział na szczyt Piotruś?	
Jaka jest różnica przewyższeń między Stasianem a Piotrusiem?	

Pytanie 29 [40 pkt.]

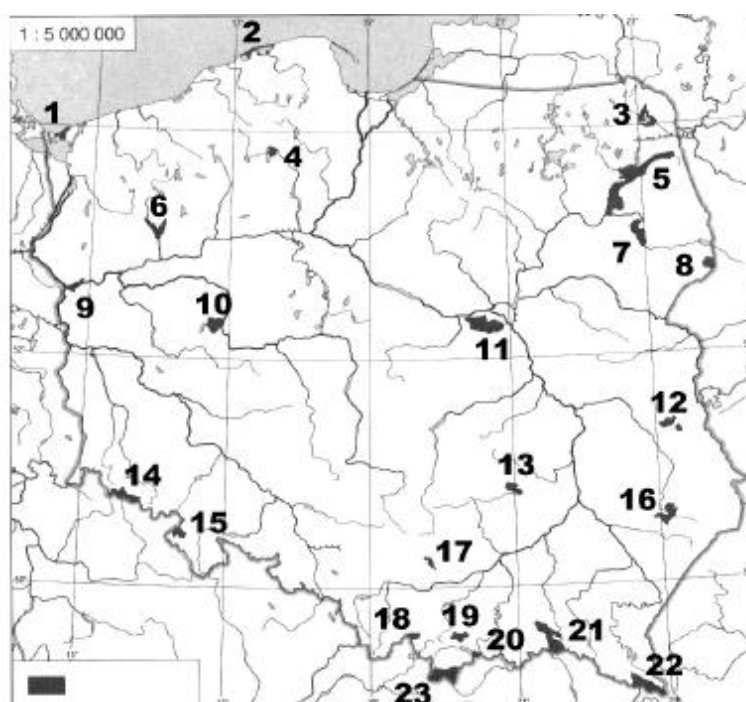
1. Zaprojektuj jednodniową trasę zaczynającą się i kończącą w Zawadce Rymanowskiej. W opisie zawrzyj dokładny opis trasy, szacunkowy czas przejścia, atrakcje czekające na trasie. [20 pkt]

2. Narysuj schematyczny profil wysokościowy następującej trasy: [20 pkt]

Nowa Wieś – (szlak czerwony) – Cergowa – (szlak inny, żółty) – Zawadka Rymanowska – Piotruś

Pytanie 30 [30 pkt.] - test jednokrotnego wyboru

1. Posiadając mapę w skali 1:50 000 jar o szerokości 0,2 cm na mapie w rzeczywistości będzie miał:
- a) 10 m
b) 100 m
c) 1000 m
d) 10 km
2. W dniu dzisiejszym słońce wskazywało kierunek południowy ok. godziny:
- a) 12:00
b) 12:30
c) 13:00
d) 13:30
3. Odległość 4 km na mapie o skali 1:25 000 to:
- a) 16 cm
b) 1,6 cm
c) 80 cm
d) 32 cm
4. Czym jest azymut?
- a) Kątem
b) Odcinkiem
c) Odległością
5. SE oznacza:
- a) Południowy zachód
b) Południowy wschód
c) Północny wschód
d) Północny zachód

**Przyroda i jej ochrona****Pytanie 31 [46 pkt.]**

Podpisz zaznaczone parki narodowe:

1		13	
2		14	
3		15	
4		16	
5		17	
6		18	
7		19	
8		20	
9		21	
10		22	
11		23	
12			

Pytanie 32 [44 pkt.] - test jednokrotnego wyboru

- 1) Który z poniższych parków narodowych nie jest uznany za rezerwat biosfery w ramach programu UNESCO?
 - a) Bieszczadzki PN
 - b) Babiogórski PN
 - c) Ojcowski PN
 - d) Karkonoski PN
- 2) Jak nazywamy ochronę gatunku polegającą na jego przeniesieniu w inne miejsce?
 - a) ochrona ex situ
 - b) introdukcja
 - c) reintrodukcja
 - d) ochrona in situ
- 3) Wojewódzki Inspektor Ochrony Środowiska wyznaczył obszar 500 ha w województwie małopolskim w celu utworzenia Parku Narodowego. Obszar odznacza się odpowiednimi walorami przyrodniczymi i środowiskowymi. Park ten:
 - a) powstanie
 - b) nie powstanie, ponieważ WIOŚ nie ma odpowiednich kompetencji, aby utworzyć PN
 - c) nie powstanie, ponieważ obszar jest zbyt mały
 - d) odpowiedzi b i c są poprawne
- 4) Który z wymienionych poniżej gatunków drzew charakteryzuje się największą odpornością na zanieczyszczenia?
 - a) buk
 - b) sosna
 - c) jodła
 - d) świerk
- 5) Efekt cieplarniany spowodowany jest przez nagromadzenie w atmosferze:
 - a) CO
 - b) freonu
 - c) CO₂
 - d) O₃
- 6) Które z niżej wymienionych drzew nie podlega całkowitej ochronie?
 - a) limba
 - b) klon jesionolistny
 - c) brzoza ojcowska
 - d) cis pospolity
- 7) Czerwona Księga prowadzona przez Międzynarodową Unię Ochrony Przyrody zawiera spis:
 - a) najważniejszych na świecie pomników przyrody
 - b) gatunków synantropijnych o istotnym znaczeniu gospodarczym
 - c) organizmów roślinnych o ciekawych walorach przyrodniczych
 - d) gatunków ginących

- 8) Termin rekultywacja oznacza:
- przyrodnicze zagospodarowanie terenów zniszczonych przez działania antropogeniczne
 - proces eutrofizacji wód
 - prowadzenie prac melioracyjnych na torfowiskach
 - regulację biegu rzeki
- 9) Relikty to:
- organizmy roślinne i zwierzęce będące na danym obszarze pozostałościami minionych epok
 - gatunki roślin i zwierząt przystosowane do życia w surowych warunkach klimatycznych
 - rośliny występujące tylko na terenach górskich
 - gatunki roślin czy zwierząt występujące na ograniczonym i często stosunkowo małym obszarze
- 10) Powierzchnia parków narodowych w Polsce obejmuje następujący procent powierzchni kraju:
- 5 %
 - 3 %
 - 0,5 %
 - 1 %
- 11) Retencja wodna to:
- zmiana kierunku spływu wód
 - odprowadzenie nadmiaru wód
 - czasowe zatrzymanie spływu wód
 - obniżenie poziomu wód gruntowych

Pytanie 33 [10 pkt.]

Podaj 3 przykłady sytuacji, w których można poruszać się poza znakowanymi szlakami turystycznymi w parku narodowym.

--	--	--

Zagadnienia prawne w turystyce

Pytanie 34 [48 pkt.]

1. Jakie informacje powinno zawierać zgłoszenie imprezy w OM PTTK? Wymień 6. [24 pkt.]

--

2. Jakie informacje powinno zawierać rozliczenie imprezy w OM PTTK? Wymień 3. [12 pkt.]

--

3. Wymień 3 warunki jakie musi spełniać wolontariusz OM PTTK, aby mógł organizować imprezy? [12 pkt.]

Pytanie 35 [24 pkt.] test wielokrotnego wyboru

1. Kto objęty jest ubezpieczeniem OC na wyjazdach organizowanych przez Oddział Międzyuczelniany PTTK w Warszawie?
 - a) Każdy uczestnik imprezy
 - b) Każdy uczestnik imprezy o ile jest członkiem PTTK
 - c) Kadra i organizatorzy
 - d) Członkowie Zarządu Oddziału
2. Jaki dokument uprawnia obywateli polskich do przekraczania granicy z Czechami?
 - a) Prawo jazdy
 - b) Paszport
 - c) Dowód osobisty
 - d) Karta kredytowa
3. Zaznacz państwo (państwa) znajdujące się w strefie Schengen.
 - a) Białoruś
 - b) Rosja
 - c) Czechy
 - d) Ukraina
4. Na której z wymienionych imprez nie obowiązuje ubezpieczenie OC?
 - a) Wycieczka architektoniczna po Wilnie
 - b) Wycieczka żeglarska po Mazurach
 - c) Wycieczka górską po Pirenejach w Hiszpanii
 - d) Wycieczka architektoniczna do Wenecji we Włoszech

Pytanie 36 [28 pkt.]

Czy następujące sytuacje są zgodne z prawem? Zaznacz właściwą odpowiedź.

1.	Niekomercyjne oprowadzanie wycieczki po Warszawie bez posiadania uprawnień przewodnickich	TAK/NIE
2.	Spożywanie alkoholu w bufecie schroniska PTTK	TAK/NIE
3.	Kontrolowanie biletów w pociągu przez SOKistów	TAK/NIE
4.	Biwakowanie w parku narodowym w wyznaczonym miejscu	TAK/NIE
5.	Palenie ogniska w odległości mniejszej niż 100 m od granicy lasu	TAK/NIE
6.	Przekraczanie granicy państwowej w Strefie Schengen po zmroku	TAK/NIE
7.	Prowadzenie spływu kajakowego bez posiadania karty pływackiej	TAK/NIE