

KONKURS WIEDZY TURYSTYCZNEJ I TOPOGRAFICZNEJ

SZKOŁY PONADGIMNAZJALNE – użyj karty odpowiedzi !

Historia, tradycja i zadania PTTK w rozwoju turystyki i krajoznawstwa 10 pkt

(jedna odpowiedź jest prawidłowa, każda poprawna odpowiedź 1 punkt)

1. Z zawodu był prawnikiem. Napisał ponad 100 przewodników turystycznych. Jego imię nosi przełęcz w Bieszczadach na Połoninie Wetlińskiej i Główny Szlak Sudecki. Tą osobą był:
a. Mieczysław Orłowicz, b. Aleksander Janowski, c. Stanisław Witkiewicz, d. Tytus Chałubiński ?
2. Polskie Towarzystwo Krajoznawcze powstało w roku:
a. 1906, b. 1910, c. 1916, d. 1926 ?
3. Pierwszy Zjazd Młodzieży Krajoznawczej odbył się:
a. w 1927 roku w Krakowie, b. w 1928 roku w Warszawie,
c. w 1929 roku we Lwowie, d. w 1937 roku w Poznaniu ?
4. Rok 2013 Zarząd Główny ogłosił rokiem:
a. turystyki kolarskiej, b. przewodników turystycznych, c. turystyki górskiej, d. przewodników PTTK ?
5. Finał centralny Ogólnopolskiego Konkursu Krasomówczego dla młodzieży gimnazjów odbywa się co roku w:
a. Krakowie, b. Warszawie, c. Golubiu – Dobrzyniu, d. Legnicy ?
6. Światowy dzień Turystyki obchodzony jest w dniu:
a. 27 września, b. 27 października, c. 29 września, d. 29 października ?
7. Podczas tegorocznego finału centralnego OMTTK (6 – 9 czerwca 2013 r.) przypada „Dzień PTTK” !
Będzie to w dniu:
a. 6 czerwca, b. 7 czerwca, c. 8 czerwca, d. 9 czerwca ?
8. W 1926 roku „Międzydepartamentowa Komisja do Spraw Turystyczno-Krajoznawczych” działająca w ramach Ministerstwa Wyznań Religijnych i Oświecenia Publicznego doprowadziła do budowy schroniska młodzieżowego:
a. na Krzeptówkach w Zakopanem, b. przy ulicy Smolnej w Warszawie,
c. na Oleandrach w Krakowie, d. na Agrykoli w Warszawie ?
9. „Kochaj każdy skrawek tej ziemi i każdego Polaka, bo ziemia to twoja matka, a Polak to twój brat” - te słowa w 1919 roku wypowiedział jeden z największych polskich krajoznawców:
a. Mieczysław Orłowicz, b. Tytus Chałubiński, c. Aleksander Janowski, d. Stanisław Staszic.
10. Jak się nazywało pierwsze muzeum regionalne na ziemiach polskich utworzone w Zakopanem w 1888 roku:
a. Muzeum Górskie, b. Muzeum Zakopiańskie, c. Muzeum Tatrzańskie, d. Muzeum Gór ?

Zasady uprawiania turystyki kwalifikowanej i zdobywania odznak PTTK 10 pkt

(jedna odpowiedź jest prawidłowa, każda poprawna odpowiedź 1 punkt)

11. Podczas wycieczki pieszej przez pierwszy kilometr należy iść wolno i zarządzić przerwę po przebyciu:
a. 20 minut drogi, b. 30 minut drogi, c. 45 minut drogi, d. 60 minut drogi ?
12. Ile punktów do GOT zdobędziesz po przejściu 5 km i pokonaniu 490 metrów przewyższenia terenu:
a. 10, b. 15, c. 20, d. 25 ?
13. Po przejściu Głównego Szlaku Beskidzkiego z Ustronia do Wołosatego w ciągu 21 dni nieprzerwanej wędrówki zdobędziesz odznakę:
a. złotą, b. brylantową, c. diamentową, d. za wytrwałość ?
14. Ile kolorów, oprócz białego, używanych jest do oznakowania szlaków kolarskich:
a. 3, b. 4, c. 5, d. 6 ?
15. Jak się nazywa najniższa kategoria w OTP:
a. Stumilowe buty, b. Siedmiomilowe buty, c. Mocne buty, d. Złote buty ?
16. Ile punktów do OInO możesz najwięcej zdobyć podczas jednej imprezy na orientację:
a. 2, b. 3, c. 4, d. 5 ?
17. Oznaki Turystyki Pieszej nie można zdobywać w górach:
a. Świętokrzyskich, b. Stołowych, c. Opawskich, d. Beskidzie Niskim ?
18. Od ilu lat można zdobywać Odznakę Imprez na Orientację:
a. 8, b. 10, c. 12, d. bez względu na wiek ?
19. Ile punktów do OTP można zdobyć po zwiedzeniu Elbląga:
a. 5, b. 10, c. 15, d. 20 ?
20. Długość odcinka, który należy przejechać na rowerze w ciągu jednego dnia w Kolarskiej Odznace Turystycznej wynosi minimum:
a. 10, b. 15, c. 20, d. 25 kilometrów.

Zadania z zakresu topografii
a. pytania szczegółowe

30 pkt
10 pkt

(jedna odpowiedź jest prawidłowa, każda poprawna odpowiedź 1 punkt)

21. Idąc azymutem 315° idziesz w kierunku: a. SE, b. NE, c. SW, d. NW ?
22. Idąc w kierunku SEE idziesz azymutem: a. $67,5^\circ$, b. $112,5^\circ$ c. $157,5^\circ$ d. $202,5^\circ$?
23. Która skalą się posługujesz jeżeli 12 cm na mapie odpowiada 3 km w terenie:
a. 1 : 10 000, b. 1 : 15 000, c. 1 : 25 000, d. 1 : 50 000 ?
24. Ze względu na różne położenie bieguna geograficznego i magnetycznego kierunek północny wskazywany przez kompas może się różnić o kilka stopni od kierunku północy geograficznej. Zjawisko to nazywane jest:
a. deklinacja magnetyczna, b. koniugacja magnetyczna,
c. koniunkcja magnetyczna, d. takie zjawisko nie zachodzi w ogóle !
25. Którym kolorem wypełniona jest sygnatura oznaczająca przystanek PKS i busów:
a. żółtym, b. czerwonym, c. zielonym, d. niebieskim ?
26. Droga wojewódzka oznakowana jest na mapie:
a. żółtym prostokątem i trzycyfrowym numerem, b. czerwonym kwadratem i dwucyfrowym numerem,
c. żółtym kwadratem i dwucyfrowym numerem, d. czerwonym prostokątem i trzycyfrowym numerem ?
27. Co oznacza poniższa sygnatura:







- a. wieża widokowa, b. nieczynna wieża widokowa,
c. wieża przekaźnikowa, d. nieczynna wieża przekaźnikowa ?

28. Ten umowny znak oznacza:



- a. ruinę, b. boisko piłkarskie, c. ogrodzenie metalowe, d. ogrodzenie drewniane ?
29. Kreska do środka zamkniętej poziomici oznacza, że teren nią ograniczony to:
a. dołek, b. górką, c. teren płaski, d. nie da się określić charakteru terenu ?
30. Która z poniższych sygnatur oznacza krzyż pokutny:

- a.  b.  c.  d.  ?

b. praca z mapą

20 pkt